

أسئلة الاختبار القصير الثاني درس التمثيلات البيانية



تم تحميل هذا الملف من موقع المناهج الإماراتية

موقع المناهج ← المناهج الإماراتية ← الصف الثالث ← رياضيات ← الفصل الثالث ← ملفات متنوعة ← الملف

تاريخ إضافة الملف على موقع المناهج: 2025-05-06 11:49:06

ملفات اكتب للمعلم اكتب للطالب | اختبارات الكترونية | اختبارات | حلول | عروض بوربوينت | أوراق عمل
منهج انجليزي | ملخصات وتقارير | مذكرات وبنوك | الامتحان النهائي | للمدرس

المزيد من مادة
رياضيات:

التواصل الاجتماعي بحسب الصف الثالث



صفحة المناهج
الإماراتية على
فيسبوك

الرياضيات

اللغة الانجليزية

اللغة العربية

التربية الاسلامية

المواد على تلغرام

المزيد من الملفات بحسب الصف الثالث والمادة رياضيات في الفصل الثالث

أوراق عمل مراجعة درس التمثيلات البيانية بدون الحل

1

أوراق عمل درس الساعة

2

أوراق عمل درس الكتلة

3

أوراق عمل درس السعة

4

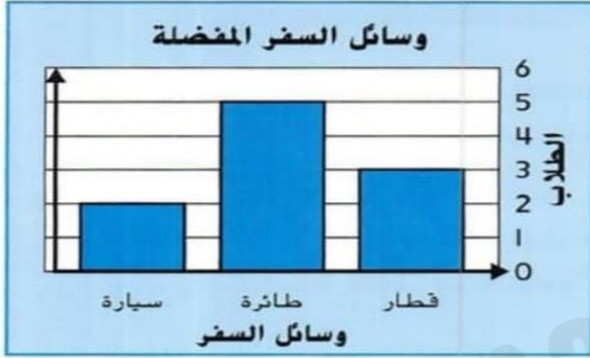
الخطة الفصلية لتوزيع المقرر

5

اختبار القصير الثاني للصف الثالث

الشعبة : ()

الأسم :



1- يمثل هذا التمثيل البياني تمثيل بياني بـ

بالصور

بالنقاط المجمعة

الأعمدة

2 - ماهي وسيلة النقل التي استخدمها أغلب الطلاب ؟

السيارة

الطائرة

القطار

3- بكم يزيد عدد الطلاب الذين استخدموا القطار عن الذين استخدموا السيارة

1

2

3

4- كم عدد الطلاب الذين كانت أعمارهم

8 سنوات ؟



1

3

2

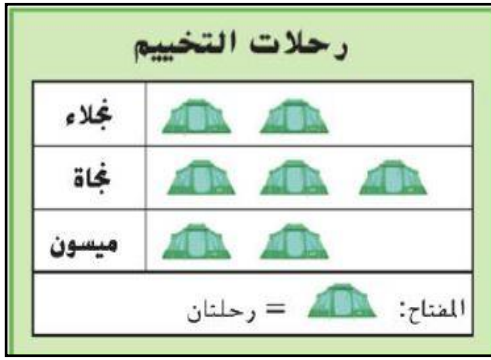
5- ماهو العمر الأقل حضوراً ؟

8

10

1

6- ماهو عنوان التمثيل البياني :



بالصور

المفتاح

رحلات التخييم

7- عدد الرحلات التي قامت بها نجلاء ؟

6

4

2

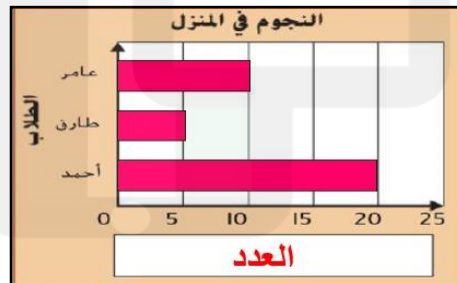
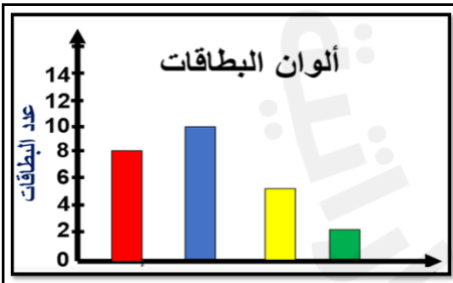
8- ماهو اجمالي عدد الرحلات ؟

7

14

2

9- أي التمثيلات البيانية هو تمثيل البياني الأفقي بالأعمدة يمثل ؟



10- كم عدد الطلاب الذين يتحدثون اللغة العربية و الفرنسية معاً؟

اللغة المستخدمة في التحدث	
اللغة	علامات الإحصاء
الفرنسية	
العربية	
الانجليزية	

13

3

10