

حلول ورقة عمل التضاريس والخرائط



تم تحميل هذا الملف من موقع المناهج الإماراتية

موقع المناهج ← المناهج الإماراتية ← الصف الثالث ← اجتماعيات ← الفصل الثاني ← ملفات متنوعة ← الملف

تاريخ إضافة الملف على موقع المناهج: 2026-02-18 13:18:20

ملفات اكتب للمعلم اكتب للطالب ا اختبارات الكترونية ا اختبارات ا حلول ا عروض بوربوينت ا أوراق عمل
منهج انجليزي ا ملخصات وتقارير ا مذكرات وبنوك ا الامتحان النهائي ا للمدرس

المزيد من مادة
اجتماعيات:

التواصل الاجتماعي بحسب الصف الثالث



صفحة المناهج
الإماراتية على
فيسبوك

الرياضيات

اللغة الانجليزية

اللغة العربية

التربية الاسلامية

المواد على تلغرام

المزيد من الملفات بحسب الصف الثالث والمادة اجتماعيات في الفصل الثاني

أسئلة اختبار التقويم الأول

1

ضوابط وموجهات بناء النماذج الاختبارية لمادة الدراسات الاجتماعية

2

كتاب الطالب المجلد الثاني نسخة 2025-2026

3

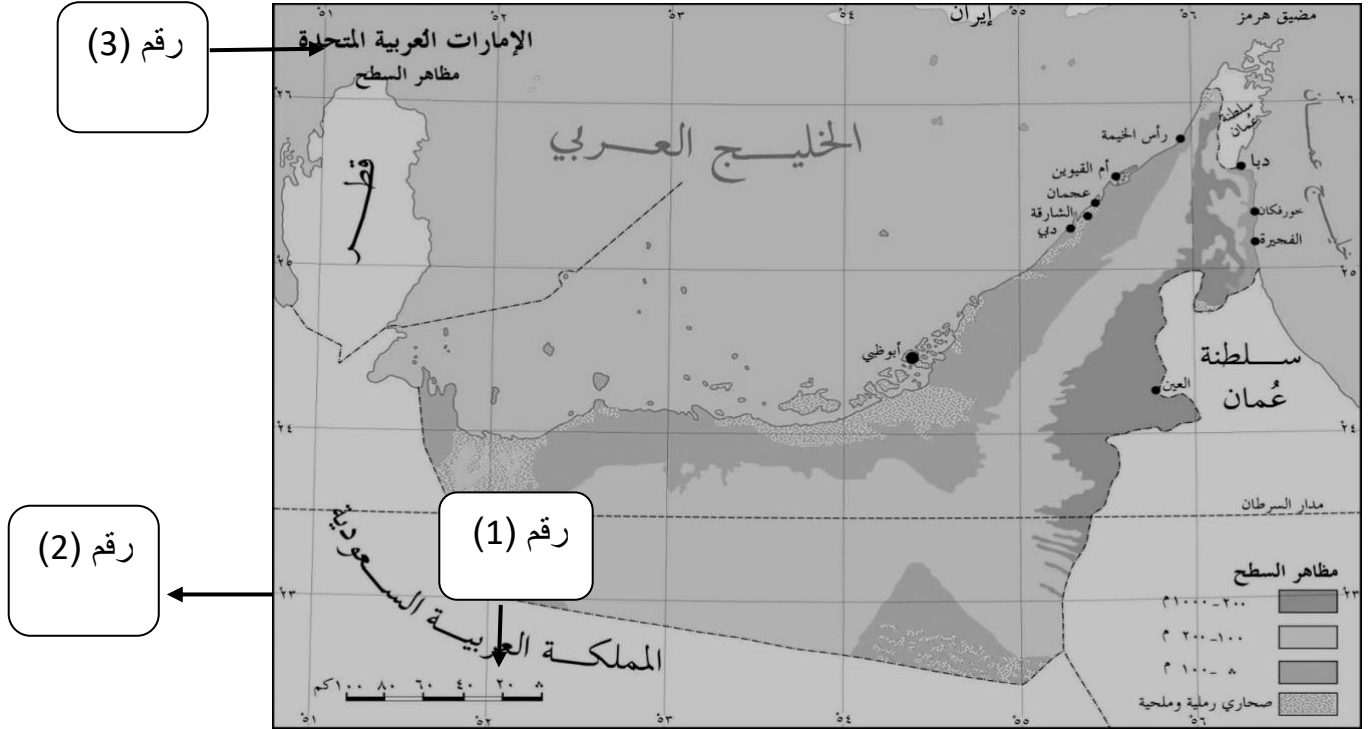
تحضير الدروس الأول والثاني والثالث من الوحدة الرابعة هويتي ومسؤولياتي

4

تحضير الدروس الأول والثاني والثالث من الوحدة الثالثة الجهات وطرق استخدامها

5

السؤال الأول : انظر خريطة دولة الإمارات الآتية ثم أجب عن الأسئلة



1-المسطح المائي الذي يحده دولة الإمارات من جهة الشمال هو-----

(الخليج العربي -بحر عمان -المملكة العربية السعودية)

2-بحر عمان يحده دولة الإمارات من جهة-----

(الشمال-الجنوب -الشرق)

3-المملكة العربية السعودية تحده الإمارات من جهة-----

(الشمال الشرقي - الشمال الغربي -الجنوب الغربي)

4- يرمز الشكل رقم (1) إلى -----

(مفتاح الخريطة - مقياس الرسم-مبين الجهات)

5- يرمز الشكل رقم (2) إلى -----

(إطار الخريطة -عنوان الخريطة -مقياس الرسم)

(إطارا الخريطة – عنوان الخريطة - مفتاح الخريطة)

7- عنصر الخريطة الذي نتعرف من خلاله على الجهات هو

(مابين الجهات - مقياس الرسم - عنوان الخريطة)

السؤال الثاني :

تتميّز دولة الإمارات العربيّة المتحدة بتنوّع تضاريسها، إذ تضم الجبال والبحار والسهول الساحليّة، ويظهر هذا التنوّع بوضوح على الخريطة.

فالجبال تتركّز في الجهة الشرقيّة من الدولة، وهي جبال الحجر، ويُرّمز لها على الخريطة عادةً باللون البني، ويُعبّر عنها بالحرف (ج)، وتنتشر فيها أنشطة اقتصادية مثل الزراعة في المدرّجات الجبلية، والرعي، والسياحة الجبلية.

أما البحار فتتمثّل في الخليج العربي وبحر عُمان، وتُلوّن على الخريطة باللون الأزرق، ويُشار إليها بالحرف (ب)، وترتبط بها أنشطة اقتصادية مهمّة مثل الصيد، والموانئ، والنقل البحري، واستخراج النفط والغاز.

في حين تمتدّ السهول الساحليّة بمحاذاة سواحل الدولة، وتظهر على الخريطة باللون الأخضر أو الأصفر الفاتح، ويُرّمز لها بالحرف (س)، وتعدّ من أهم المناطق للنشاط الاقتصادي، حيث تنتشر فيها المدن، والزراعة، والصناعة، والتجارة، والسياحة الساحل

1- أين تقع جبال الحجر في دولة الإمارات؟

(أ) في الشمال الغربي (ب) في الجنوب الغربي (ج) في الشرق

2. ما اللون الذي يُرمّز به للجبال على الخريطة؟

(أ) الأزرق (ب) الأخضر (ج) البني

3. أي الحروف يُستخدم عادةً للدلالة على البحار على الخريطة؟

(أ) حرف (ج) (ب) حرف (ب) (ج) حرف (س)

4. من الأنشطة الاقتصادية المرتبطة بالبحار في الإمارات؟

(أ) الرعي والزراعة (ب) الصيد والنقل البحري واستخراج النفط (ج) الصناعة والسياحة الجبلية

5. ما هي التضاريس التي تُظهر اللون الأخضر أعلى الخريطة؟

(أ) الجبال (ب) البحار (ج) السهول الساحلية

6. من الأنشطة الاقتصادية الموجودة في السهول الساحلية؟

(أ) الزراعة، الصناعة، التجارة، السياحة الساحلية

(ب) الرعي، التعدين، صيد الأسماك

(ج) السياحة الجبلية فقط

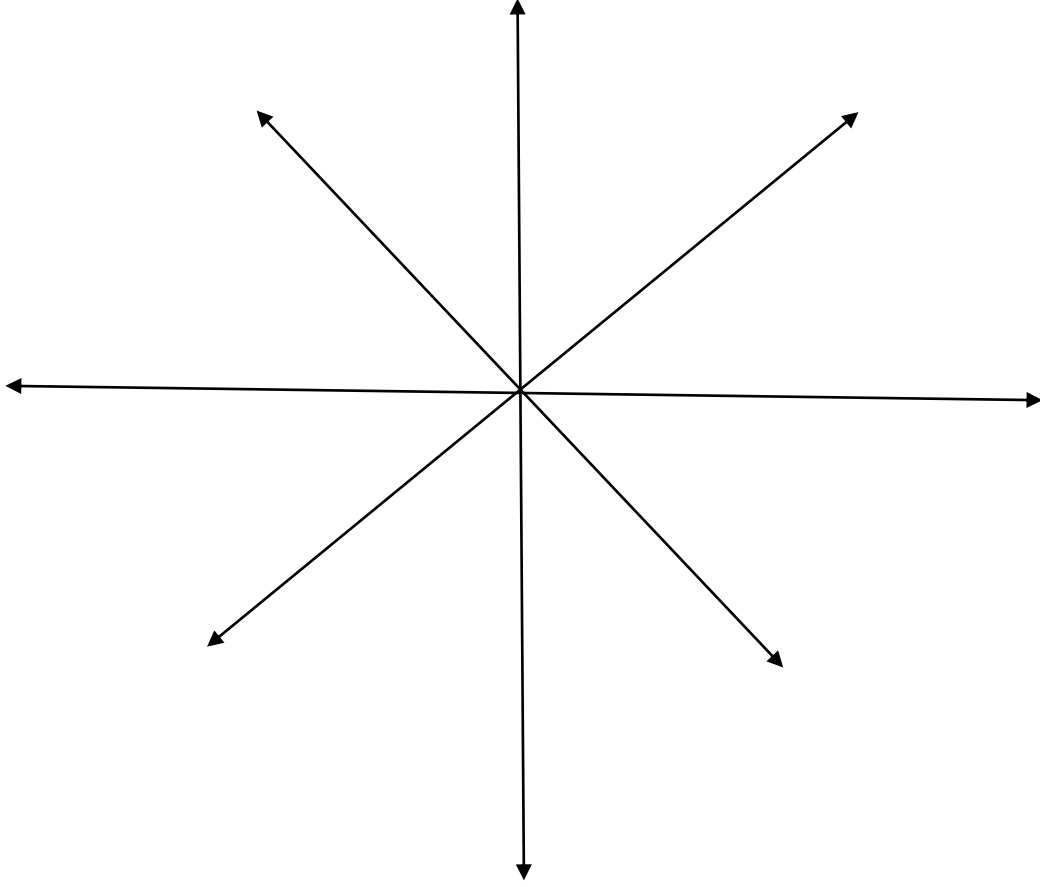
السؤال الرابع : ارسم لوحة تعبر عن (عام الأسرة 2026) بحيث تظهر : أفراد أسرتك وهم معا , نشاطا عائليا

تحبه (الجلوس معا , اللعب , الأكل)

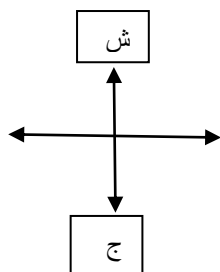
أي رسمة تدل على الأسرة أو أي نشاط تقوم بها الأسرة معا

السؤال الخامس : اكمل توزيع الجهات الأصلية والفرعية

شمال - شرق - جنوب - غرب - شمال شرقي - شمال غربي - جنوب شرقي - جنوب غربي



السؤال السادس:



عزيزي الطالب انت تقف على دوار المدينة وتريد التوجه إلى عدد من الدوائر الحكومية , وفق هذه الرؤية أجب عن

الأسئلة

1- الجهة التي يقع فيها مركز الشرطة :

1- الجنوب 2 - الشرق 3- الغرب

2- الجهة التي يقف فيها مبنى البلدية :

1- الشمال 2- الغرب 3- الجنوب

3- مبنى الجمعية يقع بعد مبنى :

1- الجوازات 2- الكهرباء 3- العيادة

4- مبنى الجوازات يقع في الجهة :

1- الشرق 2- الغرب 3 - الجنوب

5- مبنى الكهرباء يقع في الجهة :

1- الشمال 2- الجنوب 3- الشرق