

تم تحميل هذا الملف من موقع المناهج الإماراتية



## حل النموذج التدريبي للاختبار النهائي وفق الهيكل الوزاري

موقع المناهج ← المناهج الإماراتية ← الصف الثالث ← علوم ← الفصل الثاني ← حلول ← الملف

تاريخ إضافة الملف على موقع المناهج: 13:44:19 2025-03-05

ملفات اكتب للمعلم اكتب للطالب الاختبارات الكترونية الاختبارات حلول عروض بوربوينت أوراق عمل منهج انجليزي ملخصات وتقارير مذكرات وبنوك الامتحان النهائي للمدرس

المزيد من مادة علوم:

## التواصل الاجتماعي بحسب الصف الثالث



صفحة المناهج الإماراتية على فيسبوك

الرياضيات

اللغة الانجليزية

اللغة العربية

التربية الاسلامية

المواد على تلغرام

## المزيد من الملفات بحسب الصف الثالث والمادة علوم في الفصل الثاني

النموذج التدريبي للاختبار النهائي وفق الهيكل الوزاري

1

مجموعة نماذج تدريبية للامتحان النهائي

2

تجميعه مراجعة صفحات الكتاب وفق الهيكل الوزاري

3

حل تدريبات عامة وفق الهيكل الوزاري

4

حل أسئلة مراجعة هيكل الاختبار المركزي

5



مراجعة هيكل العلوم  
الصف الثالث

الفصل الدراسي الثاني 2025-2024  
المعلمة: حياه الوديان



وحدات الكتاب للفصل الثاني كاملة مطلوبة للاختبار

تغيرات الأرض	الوحدة الخامسة
الطقس	الوحدة السادسة
المادة وخصائصها	الوحدة السابعة



## الهيكل الوزاري لمادة العلوم الصف الثالث الفصل الدراسي الثاني 2024-2025

Academic Year 2024/2025 السنة الدراسية		Learning Outcomes/Performance Objectives المخرجات التعليمية		Assessment/Marking Scheme التقييم والنمط		Question Number رقم السؤال
Topic الموضوع	Unit الوحدة	Learning Outcome/Performance Objective المخرجات التعليمية	Assessment/Marking Scheme التقييم والنمط	Assessment/Marking Scheme التقييم والنمط	Assessment/Marking Scheme التقييم والنمط	
1	1	1	1	227	1	1
2	1	2	2	282	2	2
3	1	3	3	227	3	3
4	1	4	4	228	4	4
5	1	5	5	282	5	5
6	1	6	6	228	6	6
7	1	7	7	227	7	7
8	1	8	8	228	8	8
9	1	9	9	282	9	9
10	1	10	10	282	10	10
11	1	11	11	227	11	11
12	1	12	12	282	12	12
13	1	13	13	228	13	13
14	1	14	14	282	14	14
15	1	15	15	282	15	15
16	1	16	16	227	16	16
17	1	17	17	228	17	17
18	1	18	18	227	18	18
19	1	19	19	228	19	19
20	1	20	20	282	20	20
21	1	21	21	227	21	21
22	1	22	22	228	22	22
23	1	23	23	227	23	23
24	1	24	24	228	24	24
25	1	25	25	282	25	25



## الأسئلة التدريبية بناء على الهيكل المرفق

يطور نموذجا يمثل من خلاله أشكال وأنواع اليابسة والمسطحات المائية في منطقة ما  
.Develop a model representing the forms of land and water surfaces in a given area

(1) من تضاريس الأرض قطع كبيرة من اليابسة و تضم عدة دول , عددها سبعة :

أ- القارة                      ب - الجزيرة                      ج - المحيط

(2) أكبر قارات العالم ونعيش عليها هي :

أ- أوروبا                      ب - آسيا                      ج - إفريقيا

(3) تغطي الماء نسبة ..... من مساحة الأرض .

أ - 29%                      ب 71%                      ج - 50%

(4) تغطي اليابسة نسبة ..... من مساحة الأرض .

أ - نصف                      ب - ثلث                      ج - ثلثين

(5) مسطحات مائية شاسعة من المياه المالحة تغطي معظم مساحة الأرض :

أ - البحار                      ب - الأنهار                      ج - المحيطات



(6) - من تضاريس اليابسة , واد عميق ضيق بجوانب شديدة الإنحدار ويتدفق خلاله نهر :

أ - الوادي      ب - الخندق      ج - الأخدود

(7) أعمق مكان على القشرة الأرضية :

أ - الخندق      ب - الأخدود      ج - المحيط

(8) - جميع ما يأتي من تضاريس الأرض باستثناء :

أ- الجزيرة      ب - النهر      ج- الوشاح

(9) - عدد بعض أشكال تضاريس الأرض التي تتخذها اليابسة :

أ- الجبل      ب- التل      ج - الوادي

يطور نموذجاً يمثل من خلاله أشكال وأنواع اليابسة والمسطحات المائية في منطقة ما  
.Develop a model representing the forms of land and water surfaces in a given area

(10) - الطبقة الثانية من طبقات الأرض وتحتوي على صخور صلبة وأخرى منصهرة هي:

أ- القشرة الأرضية      ب - الوشاح      ج- اللب



**(11) - الترتيب الصحيح لطبقات الأرض هو :**

**أ- القشرة- الوشاح- اللب**      ب - الوشاح- اللب- القشرة      ج- اللب- الوشاح -القشرة

**(12) - الطبقة من طبقات الأرض وتحتوي على صخور صلبة وأخرى منصهرة هي:**



**ج- 3**

**ب - 2**

**أ- 1**

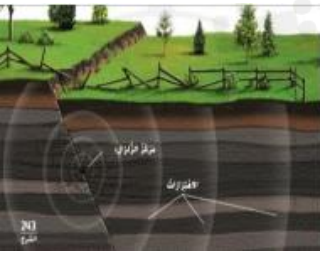
يبنى رأيا قائما على الأدلة؛ ليبين بأن أحداث الأرض، مثل، الزلازل، الثورات البركانية، والتجوية والتعرية، تحدث على فترات زمنية مختلفة.  
Form an opinion based on evidence to illustrate that the Earth's phenomena (such as: Earthquakes, volcanic eruptions, weathering and erosion) occur at different time intervals

**(13) - الحركة المفاجئة للصخور وتسبب في اهتزاز الأرض تسمى :**

**ج- الزلازل**

**ب - البراكين**

**أ- الإنهيارات الأرضية**



**(14) - تنتقل الاهتزازات الناتجة عن الزلازل في :**

**ج- جميع الإتجاهات**

**ب - لأعلى وأسفل**

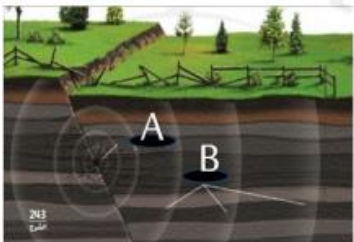
**أ- إتجاه واحد**

**(15) - بعد الاطلاع على الشكل المجاور ، أين يبدأ الزلزال :**

**ج- اللب**

**ب - B**

**أ- A**



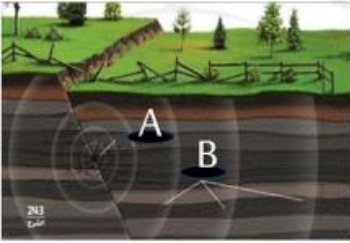


**(16) – النقطة التي تبدأ منها اهتزازات الزلازل تسمى :**

ج- القشرة

ب- B

**أ- نقطة انطلاق الزلزال**



**(17) – بعد الاطلاع على الشكل الحرف A يشير الى :**

ج- القشرة

**ب – مركز الزلزال**

أ- الاهتزازات


**(18) – عملية حركة وانتقال الصخور المفتتة بعد تعرضها لعوامل التعرية تسمى :**

**ج- الترسيب**

ب – التعرية

أ- التجوية

**(19) – أي مما يلي يعبر عن التعرية :**




الحصى الهندسيه

(A)



الاعمده البراسه

(B)



حمل المياه الحاره للصخور



**(20) – إحدى عوامل التعرية , وعندما يتحرك يحمل صخورا من أحجام مختلفة وينقلها:**

**ج- الأنهار الجليدية**

ب – الرياح

أ- البحيرة

**(21) – أي مما يلي يمثل سبب التجوية الموضحة في الشكل المجاور ؟**

ج- الحيوانات


**ب – ذوبان الثلوج**

أ- النباتات





يستخدم الأدوات المناسبة لقياس حالات الطقس، مسجلا البيانات في جداول ورسوم بيانية.  
Use the proper tools to measure the weather, recording data in tables and graphs




(22) - بعد الاطلاع على صورة التيرموميتر , ما درجة الحرارة المقاسة عليه ؟

أ - 10 درجة مئوية      ب - 20 درجة مئوية      ج - 30 درجة مئوية

(23) كم تبلغ درجة تجمد الماء ؟

أ - 10 درجة مئوية      ب - 0 درجة مئوية      ج - 100 درجة مئوية



(24) - أي من القراءات التالية تمثله أداة القياس في الشكل بوحدة الفهرنهايت ؟

أ - 80 F      ب - 70 F      ج - 60 F

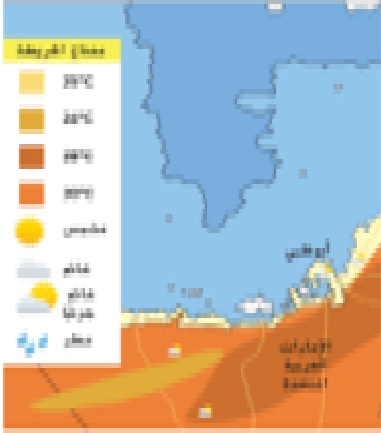
(25) الأداة التي تقيس درجة الحرارة تسمى ؟

أ - باروميتر      ب - ثيرموميتر      ج - هيجروميتر





يستخدم الأدوات المناسبة لقياس حالات الطقس، مسجلا البيانات في جداول ورسوم بيانية.  
Use the proper tools to measure the weather, recording data in tables and graphs



(26) - بعد قراءة الخريطة , ما نوع الطقس الموضح لمدينة أبوظبي ؟

أ - غائم      ب - غائم جزئيا      ج- ممطر

(27) - بعد قراءة الخريطة , كم تبلغ درجة الحرارة الموضحة لمدينة أبوظبي ؟

أ - 25 درجة مئوية      ب - 20 درجة مئوية      ج- 15 درجة مئوية

(28) - أي أدوات القياس تستخدم لقياس ضغط الهواء ؟



ب -



أ -

(29) - أي أداة قياس تستخدم لقياس سرعة الرياح ؟



ج -



ب -





(30) - يمثل الشكل التالي أدوات الطقس , أكتب اسم كل أداة في الجدول التالي :

				
5. لقياس درجة حرارة الجو	4. لتحديد اتجاه الرياح	3. لقياس كمية هطول الأمطار	2. لقياس ضغط الهواء	1. لقياس سرعة الرياح
ثيرموميتر	دوارة الرياح	مقياس كمية المطر	باروميتر	مقياس سرعة الرياح

يستقصي مراحل دورة الماء، بما في ذلك التبخر والتكثيف والترسب والتجميع.

Investigate the stages of water cycle including evaporation, condensation, precipitation and collection

(31) - حركة الماء بين سطح الأرض و الغلاف الجوى تسمى :

أ - دورة الماء      ب - دورة الحياة      ج - بخار الماء

(32) - السبب الرئيسى لحدوث دورة الماء هو :

أ - الرياح      ب - سقوط المطر      ج - الشمس

(33) - ترفع الشمس درجة حرارة الأرض والماء مما تجعله :

أ - يتبخر      ب - يتكاثف      ج - يتساقط



(34) - يسمى الماء في حالته الغازية بـ .....

أ - برد      ب - بخار الماء      ج - ثلج

(35) - في دورة الماء ، تسمى عملية تحول الماء السائل الى بخار ماء بـ .....

أ - التبخر      ب - التكاثف      ج- الهطول


(36) - في دورة الماء ، بعد عملية التبخر ، تتكون السحب نتيجة لعملية .....

أ - التبخر      ب - التكاثف      ج- الهطول

(37) في عملية التكاثف يتحول الماء من الحالة ..... الى الحالة .....

أ - صلبة - سائلة      ب - سائلة - غازية      ج- غازية - سائلة

(38) استخدم الرسم التوضيحي للإجابة عن الأسئلة التالية :



1 - ماذا نسمي الرسم الموضح أمامك ؟ دورة الماء في الطبيعة

2 - ما هو المسبب الرئيسي لدورة الماء في الطبيعة ؟ الشمس

3- أي رقم يشير لعملية تكون السحب ؟ 2.

4 - أي رقم يشير الى عملية التبخر ؟ 1.

5- أي رقم يشير الى سقوط المطر ؟ 3



- 6 - ما هي أنواع الهطول ؟ ماء سائل أو برد . أو ثلج  
7 - بعد هطول المطر يتسرب جزءا من الماء الى باطن الأرض وتسمى مياه جوفية

(39) - أي مما يلي يمثل السحب الركامية :



(40) - أي مما يلي يمثل السحب الريشية :



(41) - أي من السحب لا يحدث ظهورها في فصل الصيف :

- أ - السحب الطباقية      ب - السحب الركامية      ج - السحب الريشية

(42) - أي من السحب الطباقية تكون قريبة جدا من الأرض وقد تنعدم الرؤية بسببها :

- أ - السحب الريشية      ب - السحب الركامية      ج - السحب الضبابية



(43) - عندما تتراكم السحب فوق بعضها البعض وتصبح أكثر قتامة، هذا يدل على طقس :



ج - ماطر

ب - غائم

أ - مشمس

(44) - أي من أنواع الطقس القاسي لا يمكن حدوثه في فصل الصيف ؟

ج - إعصار بحري

ب - عاصفة ثلجية

أ - ب - عاصفة رعدية

(45) - من طرق الوقاية من الأخطار المحتملة عند حلول بعض أنواع الطقس القاسي أن :

.....البقاء في المنازل - مغادرة الأماكن المنخفضة - ارتداء الملابس الدافئة .....

يعرف المادة على أنها كل شيء له كتلة وتشغل حيزا في الفراغ.  
.Identify matter as everything that has mass and occupies space

(46) - هو كل شيء حولنا له كتلة ويشغل حيزا من الفراغ :

ج - الوزن

ب - الحجم

أ - المادة

(47) - الصفة المميزة لجسم ما تسمى :

ج - اللعان

ب - الحجم

أ - الخاصية

(48) - بعد قرائتك للجدول الآتي ، ما طعم الأناناس :

خصائص الأناناس	
الوصف	المذاق (الألوان)
بنيّ، أخضر	اللون (الألوان)
مستدير وشائك	الشكل
خشين	الملمس
خلوّ	الطعم

اقرأ الجدول  
ما مذاق الأناناس؟  
يفتح الحل: نسمعك القوانين  
على إيجاد المعلومات.

ج - حلو

ب - مالح

أ - حامض



يستنتج خصائص المواد الصلبة والسائلة والغازية بما يتعلق بالحجم والشكل، ويعطي الأمثلة على كل منها.  
Deduce the properties of solid, liquid and gaseous materials related to shape and volume, and give examples of each

(49) - أيهما يمتلك حجماً أكبر :

أ - كرة الشاطئ

ب - كرة البولنج

ج - متساويتان



(50) - أيهما يمتلك كتلة أكبر :

أ - كرة الشاطئ

ب - كرة البولنج

ج - متساويتان

(51) - مقدار الحيز الذي يشغله الجسم هو :

أ - الكتلة

ب - الحجم

ج - الوزن

(52) - مقدار المادة الموجودة في الجسم تسمى :

أ - الكتلة

ب - الحجم

ج - الوزن

(53) - يسمى مقدار جذب الأرض للجسم بـ :

أ - الكتلة

ب - الحجم

ج - الوزن

(54) - أيهم لا يعتبر مادة ؟

أ - الماء

ب - الهواء

ج - الصوت



(55) - أي مما يلي يشير الى جسم يمتلك خاصية مغناطيسية :



A



B



(56) - أي الأجسام تمتلك خاصية الطفو على سطح الماء :



B



C

(57) - أي هذه الأجسام يسخن بسرعة :

ج - الحديد

ب - الرمل

أ- الخشب

(58) - أي من هذه المواد يمتلك ملمسا خشنا :



ج -



ب -



(59) - تستخدم الأدوات الموضحة أمامك في قياس :

ج - الكتلة

ب - الوزن

أ - الحجم





**(60) – الوحدة المستخدمة لقياس حجم الأجسام المختلفة تسمى :**

أ –  $m^3$       ب -  $kg/g$       ج –  $cm^3$



**(61) – أي من خصائص المواد يتم قياسها في الشكل التالي .**

أ – الحجم      ب – الوزن      ج – الكتلة

**(62) – أي من هذه الأدوات تستخدمها لقياس كتلة جسم ما :**



ج -



ب -



**(63) – أي من هذه الأدوات تستخدمها لقياس وزن جسم ما :**



ب -



أ -





(64) - أي من هذه الأدوات تستخدمها لقياس طول جسم ما ؟

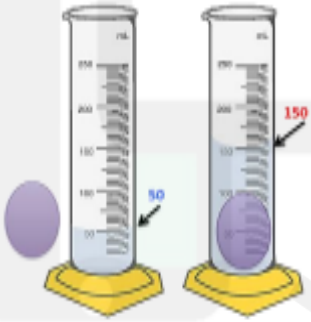


ج -



أ -

(65) - حجم الجسم الصلب الموضح في الصورة هو : ؟




ج -  $50 \text{ cm}^3$

ب -  $150 \text{ cm}^3$

أ -  $100 \text{ cm}^3$

(66) - كم يبلغ حجم السائل الموجود في الصورة التالية :



ج -  $40 \text{ ml}$

ب -  $30 \text{ ml}$

أ -  $20 \text{ ml}$

يستنتج خصائص المواد الصلبة والسائلة والغازية بما يتعلق بالحجم والشكل، ويعطي الأمثلة على كل منها.

Deduce the properties of solid, liquid and gaseous materials related to shape and volume, and give examples of each

(67) - إلى أي نوع من أنواع المادة يصنف الكتاب ؟



ج - الغازية

ب - السائلة

أ - الصلبة



(68) - إلى أي نوع من أنواع المادة يصنف الماء ؟



ج - الغازية

ب - السائلة

أ - الصلبة

(69) - إلى أي نوع من أنواع المادة يصنف الهواء الموجود داخل البالون ؟

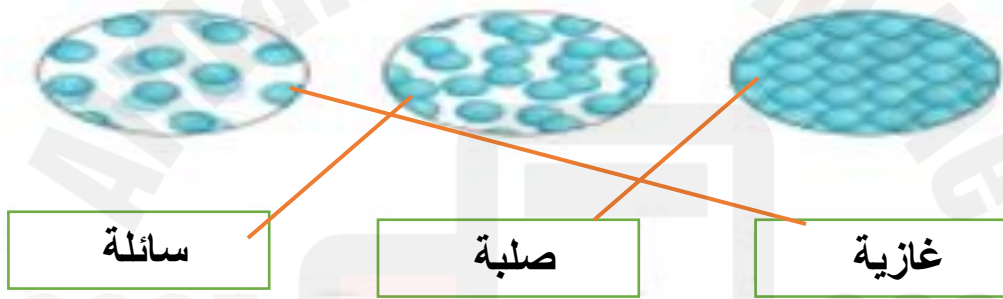


ج - الغازية

ب - السائلة

أ - الصلبة

(70) - صل بين المادة وشكل جسيماتها :



سائلة

صلبة

غازية

(71) - أكمل الجدول التالي :

الوصف	الصلب	السائل	الغاز
الشكل	<u>ثابت</u>	<u>متغير</u>	<u>متغير</u>
الحجم	<u>ثابت</u>	<u>ثابت</u>	<u>متغير</u>



(72) - المادة التي تكون ذراتها مترابطة هي :

أ - الصلبة                      ب - السائلة                      ج - الغازية

(73) - المادة التي لا تترايط ذراتها مع بعضها البعض هي :

أ - الصلبة                      ب - السائلة                      ج - الغازية

(74) - المادة التي تنتشر لتأخذ شكل حاويتها هي :

أ - الصلبة                      ب - السائلة                      ج - الغازية

(75) - الوصف الصحيح لجسيمات الحالة السائلة أنها :

أ - لا تستطيع الحركة                      ب - تنزلق فوق بعضها                      ج - تتحرك في كل الاتجاهات

(76) - المادة التي تنتشر جسيماتها في جميع الاتجاهات هي :

أ - الصلبة                      ب - السائلة                      ج - الغازية

وفقكم الله أحبتي