

تم تحميل هذا الملف من موقع المناهج الإماراتية



أسئلة الامتحان النهائي التعويضي القسم الورقي منهج بريدج العام 2023-2024

موقع المناهج ← المناهج الإماراتية ← الصف الثالث ← علوم ← الفصل الأول ← ملفات متنوعة ← الملف

تاريخ إضافة الملف على موقع المناهج: 2024-11-26 10:24:44

ملفات اكتب للمعلم اكتب للطالب | اختبارات الكترونية | اختبارات | حلول | عروض بوربوينت | أوراق عمل
منهج انجليزي | ملخصات وتقارير | مذكرات وبنوك | الامتحان النهائي للمدرس

المزيد من مادة
علوم:

التواصل الاجتماعي بحسب الصف الثالث



صفحة المناهج
الإماراتية على
فيسبوك

الرياضيات

اللغة الانجليزية

اللغة العربية

التربية الاسلامية

المواد على تلغرام

المزيد من الملفات بحسب الصف الثالث والمادة علوم في الفصل الأول

أسئلة مراجعة امتحانية نهائية منهج انسابير

1

مراجعة وحدات الفصل منهج انسابير

2

حل مراجعة درس Solutions Designing and Electricity مع الترجمة للعربية

3

مراجعة درس motion change can Force منهج انسابير

4

أسئلة الامتحان النهائي منهج انسابير العام 2023-2024

5



SN:0M18193759391135245C422773X1138D202312110946GT

SN:0M18193759391135245C422773X1138D202312110946GT

الامتحان التعويضي لنهاية الفصل الدراسي الأول 2024/2023

End of Term1 Make up Exam 2023/ 2024

	Student Number	رقم الطالب
	Sudent Name	اسم الطالب
	School	المدرسة
Grade 3	Class	الصف
General	Stream	المسار
Science- Bridge	Subject	المادة
علوم - بريدج		

	Total	الدرجة الكلية
100		

المراجع Reviewer	المقّدر Marker	Name	الاسم
		Sign	التوقيع

SN:0M18193759391135245C422773X1138D202312110946GT

SN:0M18193759391135245C422773X1138D202312110946GT

- يحظر تصوير أو تداول الورقة الامتحانية قبل أو أثناء أو بعد الامتحان من خلال البريد الالكتروني أو وسائل التواصل الاجتماعي أو أي وسيلة أخرى ومن يخالف ذلك سيتخذ في حقه الإجراءات القانونية المتبعة.
- على إدارات المدارس ولجان الامتحانات ومراكز التقدير مراعاة ذلك ورصد أي مخالفات والعمل على اتخاذ الإجراءات اللازمة.

G3

العلوم - بريدج

T1 - 2023-2024



SN:0M18193759391135245C422773X1138D202312110946GT

SN:0M18193759391135245C422773X1138D202312110946GT

Dear Students

أعزاءنا الطلبة

Important Guidelines

إرشادات هامة

1

Make sure the number of pages in the question booklet

2

Read questions carefully and organize your thoughts before starting to answer

2

اقرأ الأسئلة جيداً ورتب أفكارك قبل البدء بالإجابة

1

تأكد من عدد أوراق كتيب الأسئلة

3

Use the blue pen to answer the question booklet

4

Review your answers before submitting and leaving the examination hall

4

راجع إجابتك جيداً قبل التسليم ومغادرة القاعة الامتحانية

3

استخدم القلم الجاف الأزرق في الإجابة على كتيب الأسئلة

Seek assistance if you encounter any issues

اطلب المساعدة إذا واجهتك مشكلة

SN:0M18193759391135245C422773X1138D202312110946GT


SN:0M18193759391135245C422773X1138D202312110946GT

G3	العلوم - بريدج	T1 - 2023-2024
----	----------------	----------------

ضع دائرة حول رمز الإجابة الصحيحة.

SN:0M18193759391135245C422773X1138D202312110946GT **الجزء 1** SN:0M18193759391135245C422773X1138D202312110946GT

السؤال	1
أي مما يلي يمثل أحد المتغيرات التي تؤثر على أماكن عيش حرباء مدغشقر حسب دراسة راكسورثي؟	
	
A	درجة الحرارة
B	طول الأشجار
C	لون الأزهار

السؤال	2
أي من الحروف التالية يُشير إلى حيوان ينتج عدداً أكثر من الصغار؟	
	
A	A
B	B
C	C

G3	العلوم - بريدج	T1 - 2023-2024
----	----------------	----------------

3	السؤال
---	--------

في الصورة أدناه، أي مما يلي **يُمثل** كائنات حية؟



	الماء	A	
	التربة	B	
	الزرافة	C	

4	السؤال
---	--------

أي من الكائنات الحية التالية تتكون من خلية واحدة؟

	شجرة الكرز	A	
	القطعة	B	
	البكتيريا	C	


G3	العلوم - بريدج	T1 - 2023-2024
----	----------------	----------------

5	السؤال
---	--------

ما الغاز الذي يستهلكه النبات عندما يصنع الغذاء؟

SN:0M18193759391135245C422773X1138D202312110946GT

SN:0M18193759391135245C422773X1138D202312110946GT



الأكسجين	A
ثاني أكسيد الكربون	B
أول أكسيد الكربون	C

6	السؤال
---	--------

SN:0M18193759391135245C422773X1138D202312110946GT

SN:0M18193759391135245C422773X1138D202312110946GT

أي من الحروف التالية يُشير إلى نبات غير مزهر؟



A

B


C

A	A
B	B
C	C

SN:0M18193759391135245C422773X1138D202312110946GT


SN:0M18193759391135245C422773X1138D202312110946GT


G3	العلوم - بريدج	T1 - 2023-2024
----	----------------	----------------

7	السؤال
أي من الحروف التالية يُشير إلى حيوان يستخدم أجنحته لكي يتحرك؟	
	
A	A
B	B
C	C

8	السؤال
أي من التراكيب التالية تُساعد الدودة على التنفس؟	
	
خياشيم	A
زعانف	B
الجلد	C

G3	العلوم - بريدج	T1 - 2023-2024
----	----------------	----------------

9	السؤال
أي من الحيوانات اللاقارية التالية ينتمي الى الهلاميات؟	
 <p>قنديل البحر الإسفنج الأنبوبي التودة الهلبيئة</p> <p>A B C</p>	
A	A
B	B
C	C

10	السؤال
أي مما يلي ينتج عند اجتماع حبوب اللقاح والبويضة؟	
 <p>تركيب أنثوي تركيب ذكري</p>	
الزهرة	A
البذرة	B
الأوراق	C

G3	العلوم - بريدج	T1 - 2023-2024
----	----------------	----------------

11	السؤال
أي حرف مما يلي يوضح دورة حياة السلحفاة البحرية الصحيحة؟	
A	A
B	B
C	C

12	السؤال
أي مما يلي يُعتبر صفة مكتسبة لكلب البحر في الصورة أدناه؟	
القدرة على تحطيم الأصداف	A
الجلد الأملس	B
لون العيون	C

G3	العلوم - بريدج	T1 - 2023-2024
----	----------------	----------------

13	السؤال
----	--------

أي مما يلي يُمثل أحد المستهلكات في السلسلة الغذائية أدناه؟

SN:0M18193759391135245C422773X1138D202312110946GT

SN:0M18193759391135245C422773X1138D202312110946GT



السلحفاة



الجراد



العشب



الشمس

العشب	A	
السلحفاة	B	
الشمس	C	

14	السؤال
----	--------

SN:0M18193759391135245C422773X1138D202312110946GT

SN:0M18193759391135245C422773X1138D202312110946GT

كم عدد المنتجات في الصورة أدناه؟



1	A	
2	B	
3	C	

SN:0M18193759391135245C422773X1138D202312110946GT

SN:0M18193759391135245C422773X1138D202312110946GT

G3	العلوم - بريدج	T1 - 2023-2024
----	----------------	----------------

15		السؤال
أي الحروف التالية يُعبر عن أنظمة الاتصالات في الصورة أدناه؟		
		
A		A
B		B
C		C


الجزء 2


SN:0M18193759391135245C422773X1138D202312110946GT

SN:0M18193759391135245C422773X1138D202312110946GT

16	السؤال
صل بخط بين نوع الحيوان في العمود الأول والصفة الصحيحة في العمود الثاني	
تمتلك هيكل خارجية رقيقة وسيقاناً تنثني	الثدييات
يتغذى صغارها بحليب الأم	الاسفنجيات
توجد ثقوب في أجسامها تسحب الماء و الغذاء العائم	الزواحف
يغطي جسمها الحراشف	المفصليات

G3	العلوم - بريدج	T1 - 2023-2024
----	----------------	----------------


17	السؤال
<p>الشكل أدناه يُمثل أجزاء النبات. اكتب الوظيفة الصحيحة مما يلي لكل من هذه الأجزاء. امتصاص الماء ، جذب الحشرات و التكاثر ، صناعة الغذاء ، نقل العناصر الغذائية لباقي الأجزاء</p>	
	

18	السؤال
<p>الشكل أدناه يُمثل مراحل دورة حياة نبات الصنوبر: شجرة صغيرة تنمو، انبات البذرة شجرة كبيرة تنتج مخاريط، تكون البذور داخل مخروط أنثوي. اكتب اسم المرحلة الصحيح في الفراغ المناسب</p>	
	

19

السؤال

يُمثل الشكل أدناه مراحل دورة حياة الدعسوقة : وضع البيض ، الشرنقة ، حيوان كبير ، اليرقة .
اكتب اسم المرحلة الصحيح في الفراغ المناسب



20

السؤال

يُمثل المخطط أدناه خطوات عملية التصميم .
أملأ الفراغات بأحد الخطوات التالية: (اقترح الحل ، اشرح الاختراع ، اختبر التصميم ، راجع التصميم)



انتهت الأسئلة