

تم تحميل هذا الملف من موقع المناهج الإماراتية



## حل أسئلة اختبار على شاکلة الامتحان النهائي

[موقع المناهج](#) ← [المناهج الإماراتية](#) ← [الصف الثالث](#) ← [رياضيات](#) ← [الفصل الثالث](#) ← [الملف](#)

تاريخ إضافة الملف على موقع المناهج: 2024-05-26 09:19:31

## التواصل الاجتماعي بحسب الصف الثالث



اضغط هنا للحصول على جميع روابط "الصف الثالث"

## روابط مواد الصف الثالث على تلغرام

[الرياضيات](#)

[اللغة الانجليزية](#)

[اللغة العربية](#)

[التربية الاسلامية](#)

## المزيد من الملفات بحسب الصف الثالث والمادة رياضيات في الفصل الثالث

<a href="#">أسئلة اختبار على شاکلة الامتحان النهائي</a>	1
<a href="#">تجميعة أسئلة وفق الهيكل الوزاري منهج ريفيل</a>	2
<a href="#">حل تجميعة أسئلة وفق الهيكل الوزاري منهج ريفيل</a>	3
<a href="#">تجميعة أسئلة وفق الهيكل الوزاري الحديد منهج بريدج</a>	4
<a href="#">تجميعة أسئلة صفحات الكتاب وفق الهيكل الوزاري الحديد منهج ريفيل</a>	5



## اختبار بنمط نهاية الفصل الدراسي الثالث

مؤسسة الإمارات  
للتعليم المدرسي  
EMIRATES SCHOOLS  
ESTABLISHMENT

الدرجة 60

الاسم : .....  
الصف : الثالث (.....)

السؤال الأول: ضع دائرة حول رمز الإجابة الصحيحة (4 درجات لكل مفردة)



1) تسع غلاية آمنة 3 لترات أو 3,000 L من الماء ، فإذا استخدمت 455 mL من الماء لإعداد القليل من القهوة ، فما هي كمية الماء التي تبقت في الغلاية؟

$$3000 - 455$$

Ⓐ 3455 mL

Ⓑ 2,655 mL

2,545 mL



2) اختر الوقت الذي تحدده الساعة التناظرية

3:39

Ⓑ 4:40

Ⓒ 4:39

السراويل التي تم ارتداؤها للمدرسة	
نوع السراويل	علامات الإحصاء
جينز	
السراويل القطنية	
سراويل الصوف	
سراويل رياضية	

3) باستخدام التمثيل البياني كم سروالا من الصوف تم ارتداؤه أكثر من السراويل القطنية؟

$$7 - 4$$

Ⓐ 2

Ⓑ 3

Ⓒ 4

مقاسات أحذية الصف الثالث	
مقاس	عدد الأحذية
2	4
4	12
6	20
8	4

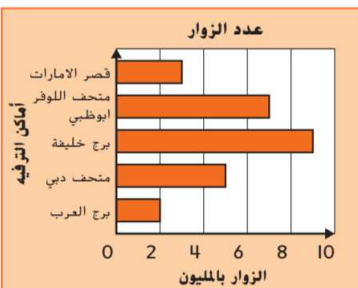
المفتاح: = 4 طلاب

4) وفقاً للرسم التصويري، كم عدد الطلاب الذين شاركوا بالاستطلاع؟

Ⓐ 20

Ⓑ 30

Ⓒ 40



5) باستخدام التمثيل البياني بالأعمدة كم شخص إضافي زار برج خليفة أكثر من قصر الإمارات و برج العرب ؟

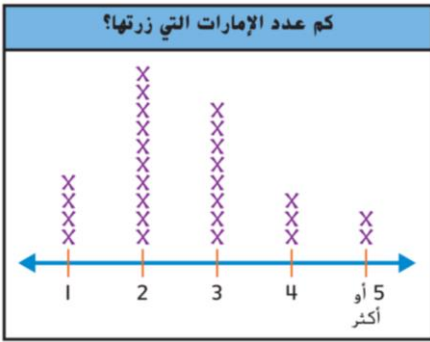
Ⓐ 3 مليون

Ⓑ 4 مليون

Ⓒ 5 مليون

$$9 - (5 + 2) = 9 - 7 = 2$$
$$9 - 5 = 4$$

6) أي جملة صحيحة بشأن البيانات؟



Ⓐ أغلب الطلاب زاروا 4 إمارات

Ⓑ عدد الطلاب الذين شاركوا بالاستطلاع 29

معظم الطلاب زاروا إمارتين أو أكثر

7) كم عدد القطع المستقيمة التي تظهر في قطعة البسكويت




هذه؟

Ⓐ 6

Ⓑ 8

Ⓒ 10

8) كم عدد أضلاع و زوايا هذا الشكل؟



Ⓐ 6

Ⓑ 8

Ⓒ 10

4) أي عبارة تعد صحيحة و تصف الأشكال التالية؟

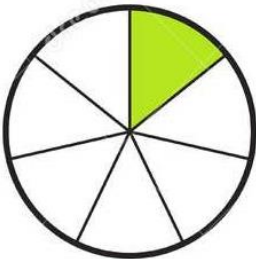


Ⓐ الشكلان 2 و 4 رباعيا أضلاع

Ⓑ الشكلان 1 و 4 متوازيا أضلاع

Ⓒ الشكلان 1 و 3 رباعيا أضلاع

10) ما هو كسر الوحدة الذي يمثل هذا الشكل؟



Ⓐ  $\frac{1}{5}$

Ⓑ  $\frac{1}{6}$

Ⓒ  $\frac{1}{7}$

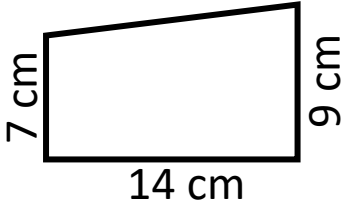
11) ما هو الشكل الذي له وجه مربع واحد و 4 أوجه مثلثة ، و 8 حواف و 5 رؤوس؟



هرم مربع

منشور مستطيل

أسطوانة



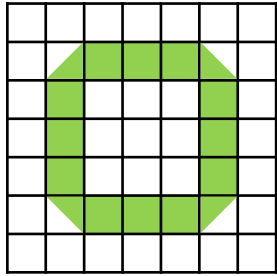
12) ما هو طول الضلع المجهول إذا كان المحيط 48 cm؟

$$7 + 14 + 9 + x = 48$$
$$30 + x = 48$$

22 cm

20 cm

18 cm



13) ما هي مساحة هذا الشكل؟

13 وحدة  
مربعة

14 وحدة  
مربعة

15 وحدة  
مربعة



14) أوجد الضلع المجهول إذا كانت المساحة هي  $48 \text{ cm}^2$

و الطول 8 cm؟

8 cm

7 cm

6 cm

المستطيل	الطول	العرض
A	7	6
B	7	7
C	9	3
D	8	6
E	8	5

15) أي مستطيل له نفس محيط المستطيل B ولكن

مساحته مختلفة؟

المستطيل B

المستطيل D

المستطيل E