

تم تحميل هذا الملف من موقع المناهج الإماراتية



## أسئلة الامتحان النهائي الورقي

موقع المناهج ← المناهج الإماراتية ← الصف الثالث ← اجتماعيات ← الفصل الأول ← الامتحان النهائي ← الملف

تاريخ إضافة الملف على موقع المناهج: 20:50:43 2024-11-11

ملفات اكتب للمعلم اكتب للطالب | اختبارات الكترونية | اختبارات | حلول | عروض بوربوينت | أوراق عمل  
منهج انجليزي | ملخصات وتقارير | مذكرات وبنوك | الامتحان النهائي للمدرس

المزيد من مادة  
اجتماعيات:

## التواصل الاجتماعي بحسب الصف الثالث



الرياضيات



اللغة الانجليزية



اللغة العربية



التربية الاسلامية



المواد على تلغرام

صفحة المناهج  
الإماراتية على  
فيسبوك

## المزيد من الملفات بحسب الصف الثالث والمادة اجتماعيات في الفصل الأول

نموذج تدريبي للامتحان النهائي وفق الهيكل الوزاري

1

الهيكل الوزاري الجديد كافة المسارات

2

أوراق عمل درس يوم غير التاريخ

3

أسئلة الاختبار التحريري الأول

4

ورقة عمل درس يوم غير التاريخ

5

اقرأ الفقرة الواردة، والشكلين (A) و (B)، ثم أجب عما يليهما من أسئلة:



البيئة: هي المجال الذي يُمِرُّسُ فيه الإنسانُ حياته ونشاطاته المختلفة، وكل ما يُحيطُ به من الكائنات الحية، كالإنسان، والحيوان، والنباتات، والموجودات غير الحية، كالماء، والهواء، والتربة. ولاستمرار الحياة؛ تتفاعل الكائنات الحية مع بعضها، ومع الموجودات غير الحية، وهو ما يُعرف باسم "النظام البيئي".

ارسم دائرة حول الإجابة الصحيحة لكل مما يلي:

25

1. من الكائنات الحية التي تعيش في البيئة:

A. التربة

B. الأسماك

C. الماء



2. تَمَيَّزَ البيئَةُ في الشَّكْلِ (B)، بأنَّها بيئَةٌ:

A. نَظِيفَةٌ

B. مُلَوَّئَةٌ

C. مُزَعِجَةٌ

3. يُسَمَّى تفاعل الإنسان مع الموجودات غير الحية لإستمرار الحياة في البيئة، باسم:

A. البيئة

B. النظام البيئي

C. الحياة

4. مِنْ أسباب تَلَوُّثِ البيئَةِ في الشَّكْلِ (A):

A. زِراعَةُ الأشجار

B. رُكُوبُ الدَّرَاجَةِ

C. دُخَانُ المِصَانِعِ

5. لِتَحْمِي بيئَتِنَا مِنَ التَّلَوُّثِ، ولتكونَ جَمِيلَةً كما هي في الشَّكْلِ (B) علينا:

A. تَرْشِيدُ استهلاكِ الطاقة

B. استخدامُ السَّيارَةِ بكثرة

C. إلقاءُ النفاياتِ في مياهِ البحرِ





## 25 درجة



## السؤال الثاني

اقرأ النّص والأشكال الآتية حول "الفضاء"، ثمّ أجب عن الأسئلة التي تليها:

بدأ تاريخ رحلات ارتياد الفضاء منذُ القِدم، وهي عبارة عن رحلات يقوم بها الإنسان إلى الفضاء الخارجي بواسطة المركبات الفضائية؛ لجمع المعلومات عن الكون، ورغبةً في كشف أسرار القمر والكواكب والشمس وغيرها من النجوم والمجرات التي تجوب خارج حدود الأرض، مما ساعدنا في معرفة العلاقة الحقيقية بين كوكب الأرض وبقيّة عناصر الكون، والتعرّف أيضاً إلى خصائص الشمس والكواكب الأخرى، وما إذا كانت هناك حياة في مكانٍ آخر من الكون.

أطلق الاتحاد السوفيتي في عام 1957م أوّل قمرٍ صناعيٍّ "سبوتنيك 1" ليُدور حول الأرض، وفي عام 1969م، هبط رائد الفضاء الأمريكيان "نيل أرمسترونج" و"إدوين ألدرين" بمركبتهما "أبولو 11" على سطح القمر، وأصبح "أرمسترونج" أوّل إنسانٍ تصل قدماه سطح القمر.

أطلقت دولة الإمارات العربيّة المتّحدة مشروع الإمارات لاستكشاف القمر-2024؛ بهدف الهبوط على سطح القمر، ودراسة سطحه، كالترية والحرارة وخصائص أخرى، وسيجوب المُستكشفُ سطح القمر، ويلتقطُ له صوراً نادرةً، ويجمعُ البيانات المُتعلّقة بالنظام الشمسي وكوكبنا، ومن ثمّ يُرسلها إلى محطة التحكم الأرضية في مركز محمد بن راشد للفضاء، وقد أُطلق على المُستكشف الإماراتي للقمر، اسم "راشد"؛ تيمناً بالمغفور له بإذن الله الشيخ راشد بن سعيد آل مكتوم، الحاكم السابق لإمارة دبيّ، وباني نهضتها.

<p><b>سلطان النيادي</b></p> 	<p>وُلد في عام 1981م</p>	<p><b>هزاع المنصوري</b></p> 	<p>وُلد في عام 1983م</p>
<p>أوّل رائد فضاء عربي يرتاد الفضاء لفترة طويلة</p>	<p>في عام 2023م، قضى 6 أشهر في الفضاء</p>	<p>أوّل رائد فضاء إماراتي</p>	<p>في عام 2019م، قضى 8 أيام في الفضاء</p>



25

✿ ارسم دائرةً حول الإجابة الصحيحة لكل مما يلي:

6. الفكرة الرئيسة الواردة في النص، توضح:

A. أنواع المجرات السماوية

B. تاريخ ارتياد الفضاء

C. كواكب المجموعة الشمسية

7. "أرمسترونج"، هو:

A. أول إنسان يصل إلى سطح القمر

B. رائد فضاءٍ سوفيتي

C. عالم فضاءٍ عربيّ

8. ارتاد رائد الفضاء الإماراتي "هزاع المنصوري"، الفضاء في عام:

A. 1983م

B. 2023م

C. 2019م

9. يهدف مشروع الإمارات لاستكشاف القمر 2024م، إلى:

A. بناء مستعمرة في الفضاء

B. الهبوط على سطح الشمس

C. استكشاف القمر ودراسته



10. تَمَيَّزَتْ رحلة رائدِ الفضاء الإماراتي "سلطان النيادي" التي قامَ بها في عام 2023م،

بأنها:

A. أطولُ رحلةٍ لرائدِ فضاءٍ عربي

B. أولُ رحلةٍ إماراتيةٍ للفضاء

C. أقدمُ رحلةٍ في العالم للفضاء

25 درجة

السؤال الثالث

اقرأ الفقرات الآتية حول المناسبات الوطنية في دولة الإمارات، ثم أجب عما يليها من أسئلة:

تُمثِّلُ المناسباتُ الوطنيةُ تاريخَ الشعوبِ وحضارتها، وكُلِّما تَجَدَّدَتْ، وكُلِّما تَجَدَّدَتْ آمالٌ عَظيمةٌ في العطاءِ والرِّخاءِ والتَّقَدُّمِ الحضاري في مُختلِفِ الميادين، وهي الأمالُ التي يَنشُدُها قادةُ الدَّولةِ وشعبها، ولكلِّ مُناسبةٍ وَطَنِيَّةٍ في دولة الإمارات العربية المتحدة شعارٌ يُمثلها ويروي قِصتها. لِنَتَعَرَفْ فيما يلي، قِصَصَ الشِّعاراتِ التي تُمثِّلُ المناسباتِ الوطنية التي تَحْتَفِلُ بها دَوْلَتنا الحَبِيبَةُ الإماراتُ العَرَبِيَّةُ المُتَّحِدَةُ.

سَتَحْتَفِلُ دَوْلَةُ الإماراتِ العَرَبِيَّةِ المُتَّحِدَةُ، في 2 ديسمبر من هذا العام، بِعَيدِها الوطني 52 في ذكرى قيامِ الاتحاد، وَقَدْ اعْتُمِدَتْ الصُّورَةُ التاريخيةُ للأبائِ المؤسِّسينِ عِنْدَ إِعلانِ قيامِ دَوْلَةِ الإماراتِ العربية المتحدة وَرَفَعَ علمها لأول مرة في عام 1971م، ليكون الشِّعار الرِّسْمِيُّ لاحتفالاتِ الدولة، ولتبقى ذكرى "روح الاتحاد" خالدةً في نفوسِ أبناءِ الوطنِ والمقيمين على أرضه.

روح الاتحاد





يَوْمُ العَلَمِ، مُناسِبَةٌ تَحْتَفِلُ بِهَا دَوْلَةُ الإِمَارَاتِ العَرَبِيَّةِ المُتَّحِدَةِ فِي يَوْمِ 3 نَوْفَمْبَرٍ مِنْ كُلِّ عَامٍ، فَالعَلَمُ يُعَدُّ رَمْزًا لِلهَيُوتِ الوَطَنِيَّةِ وَالانْتِمَاءِ، وَدَلَالَتُهُ أَلْوَانُهُ، تَعِكْسُ القِيَمِ الرئِيسَةِ لمُجْتَمَعِ الإِمَارَاتِ وَاتِحَادِهَا.

يَوْمُ العَلَمِ



30 نَوْفَمْبَرٍ يَوْمٌ نَسْتَذْكُرُ فِيهِ تَضَحِيَاتِ شُهَدَاءِ دَوْلَةِ الإِمَارَاتِ العَرَبِيَّةِ المُتَّحِدَةِ، الَّتِي قَدَمُوهَا فِدَاءً لِلوَطَنِ ولِلأُمَّةِ العَرَبِيَّةِ، وَقَدِ اخْتِيرَ هَذَا اليَوْمُ، لِيَتَّفَقَ مَعَ تَارِيخِ اسْتِشْهَادِ أَوَّلِ جُنْدِيِّ إِمَارَاتِي، وَهُوَ "سَالِمُ سُهَيْلٍ" الَّذِي اسْتُشْهِدَ فِي عَامِ 1971م دِفَاعًا عَنِ العَلَمِ الوَطَنِ، فَكَانَ أَوَّلَ شَهِيدٍ إِمَارَاتِي.

يَوْمُ الشَّهِيدِ



25

✿ ارْسُمْ دَائِرَةً حَوْلَ الإِجَابَةِ الصَّحِيحَةِ لِكُلِّ مِمَّا يَلِي:

11. تَحْتَفِلُ دَوْلَةُ الإِمَارَاتِ العَرَبِيَّةِ المُتَّحِدَةِ بِيَوْمِ العَلَمِ فِي كُلِّ عَامٍ، يَوْمٌ:

A . 30 نَوْفَمْبَرٍ

B . 3 نَوْفَمْبَرٍ

C . 2 دَيْسَمْبَرٍ

12. تَهْتَمُّ دَوْلَتُنَا الحَبِيبَةُ الإِمَارَاتِ بِالاحتِفَالِ كُلِّ عَامٍ بِذِكْرِ اليَوْمِ الوَطَنِيِّ:

A . لِمَنْحِ المَوْظِفِينَ إِجَازَةً رَسْمِيَّةً

B . تَكْرِيمًا للشَّهِيدِ "سَالِمِ سُهَيْلٍ"

C . لِتَبْقَى ذِكْرَاهُ حَيَّةً لَدَى الأَجْيَالِ



13. سَتَحْتَفِلُ دَوْلَتُنَا الحَبِيبَةُ الإِمَارَاتِ هَذَا العَامِ 2023م، بِذِكْرِى مَرورٍ ..... لِقِيَامِ الإِتِحَادِ:

A . 52 عَامًا

B . 51 عَامًا

C . 50 عَامًا


14. يُعَبِّرُ شِعَارُ "روح الإِتِحَادِ" عَنِ:

A . الحُكَّامِ الحَالِيِينَ لإِمَارَاتِ الدَوْلَةِ


B . الأَبَاءِ المُؤَسِّسِينَ لِلإِتِحَادِ

C . شُهَدَاءِ الوَطَنِ

15. الشِّعَارُ الذِّي يُعَبِّرُ عَنِ المُنَاسِبَةِ الوَطَنِيَّةِ "يَوْمِ الشَّهِيدِ"، هُوَ الشَّكْلُ:



A .



B .



C .





25 درجة

السؤال الرابع

اقرأ النص الآتي بعنوان "أم الإمارات"، ثم أجب عما يليه من أسئلة:



سُمو الشيخة فاطمة بنت مبارك الكيتي، والدّة صاحب السمو  
الشيخ محمد بن زايد آل نهيان رئيس دولة الإمارات العربية المتحدة

– حَفِظَهُ اللهُ..، وُلِدَتْ فِي مَنْطِقَةِ الْهَيْرِ فِي مَدِينَةِ الْعَيْنِ فِي إِمَارَةِ أَبُو ظَبْيٍ، وَعَاشَتْ طِفْلُوتَهَا فِي أَحْضَانِ أُسْرَةٍ  
بَدْوِيَّةٍ مُحَافِظَةٍ مُتَدِينَةٍ، عَشِقتْ بِسَاطَةِ حَيَاةِ الْبَادِيَةِ وَقِيَمِهَا، وَاسْتَمَدَتْ مِنْهَا شَخْصِيَّتَهَا، تَزَوَّجَتْ سُمُوهَا  
مِنَ الْمَغْفُورِ لَهُ بِإِذْنِ اللَّهِ الْشَيْخِ زَايِدِ بْنِ سُلْطَانَ آلِ نَهْيَانَ فِي عَامِ 1960م، وَرَافَقَتْهُ فَتَرَاتِ حُكْمِهِ لِإِمَارَةِ أَبُو ظَبْيٍ  
وَرِئَاسَتِهِ لِدَوْلَةِ الْإِمَارَاتِ الْعَرَبِيَّةِ الْمُتَّحِدَةِ، فَكَانَ مُعَلِّمِهَا الْأَوَّلَ وَمُؤَلِّمِهَا، وَأُسَهِّمَتْ فِي حِكَايَةِ نَجَاحِهِ لِتَأْسِيسِ  
دَوْلَةِ الْإِمَارَاتِ الْعَرَبِيَّةِ الْمُتَّحِدَةِ فِي 2 دَيْسَمَبَرِ 1971م، وَكَرَّسَتْ سُمُوهَا جُلَّ وَقْتِهَا وَاهْتِمَامِهَا لِلْعِنَايَةِ بِزَوْجِهَا  
وَأَبْنَائِهَا وَبَنَاتِهَا وَتَفَانَتْ فِي خِدْمَتِهِمْ.

أَدْرَكَتْ سُمُو الشَيْخَةِ فَاطِمَةَ أَهْمِيَّةَ الْعِلْمِ؛ لِذَا عَمَدَتْ إِلَى دِرَاسَةِ الْقُرْآنِ وَتَفْسِيرِهِ وَأُصُولِ الْفِقْهِ وَالْحَدِيثِ  
النَّبَوِيِّ الشَّرِيفِ، وَاهْتَمَّت بِدِرَاسَةِ الْأَدَابِ وَالْعُلُومِ، تَتَسَمَّى شَخْصِيَّتَهَا بِالتَّوَاضُعِ وَرَحَابَةِ الصَّدْرِ، وَقَبُولِ  
الْآخِرِ مِنْ إِيْمَانٍ قَوِيٍّ بِأَنَّ الْإِسْلَامَ دِينُ التَّسَامُحِ، إِلَى جَانِبِ حُبِّهَا اللَّامَحْدُودِ لِلْعَمَلِ الْخَيْرِيِّ وَالتَّطَوُّعِيِّ دَاخِلَ  
دَوْلَةِ الْإِمَارَاتِ وَخَارِجِهَا، فَقَدَ نَالَتْ سُمُوهَا لَقَبَ "أُمِّ الشُّيُوخِ"، ثُمَّ حَصَلَتْ فِي 21 مَارَسَ 2005م، عَلَى لَقَبِ  
"أُمِّ الْإِمَارَاتِ" بِمُنَاسَبَةِ يَوْمِ الْمَرْأَةِ الْعَالَمِيِّ وَهُوَ لَقَبٌ اسْتَحَقَّتْهُ عَن جَدَارَةٍ، وَفِي عَامِ 2006م مُنَحَتْ وَسَامَ  
"سَعْفِ النِّخِيلِ الْأَكَادِيمِيَّةِ" بِرُتْبَةِ فَارَسِ، وَالَّذِي يُعَدُّ أَحَدَ أَعْرَاقِ الْأَوْسَمَةِ الْفَرَنْسِيَّةِ، وَفِي عَامِ 1973م،  
أَسَّسَتْ وَرَأَسَتْ أَوَّلَ جَمْعِيَّةٍ نِسَائِيَّةٍ فِي إِمَارَةِ أَبُو ظَبْيٍ، هِيَ جَمْعِيَّةُ نَهْضَةِ الْمَرْأَةِ الظُّبْيَانِيَّةِ، وَفِي عَامِ 1975م،  
أَسَّسَتْ جَمْعِيَّةَ الْإِتِّحَادِ النِّسَائِيِّ الْعَامِ، وَانْتُخِبَتْ سُمُوهَا رَئِيسَةً لَهَا.

[https://gwu.ae/hh\\_resume/?lan=ar](https://gwu.ae/hh_resume/?lan=ar)



25

✿ ارسم دائرةً حول الإجابة الصحيحة لكل مما يلي:

16. وُلِدَت سُمُو الشَّيْخَة فَاطِمَة بِنْتُ مُبَارَك الْكَيْتِي فِي مَنطِقَة:

A. الْقُصَيْصَن

B. الْهَيْر

C. الْمَدَام

17. اتَّسَمَت شَخْصِيَّة سُمُو الشَّيْخَة فَاطِمَة بِنْتُ مُبَارَك بِالْبَسَاطَةِ؛ الَّتِي اسْتَمَدَّتْهَا مِنْ حَيَاتِهَا فِي بَيْئَةٍ:

A. الْقَرْيَة

B. الْمَدِينَة

C. الْبَادِيَة

18. اِهْتَمَّت سُمُو الشَّيْخَة فَاطِمَة بِنْتُ مُبَارَك بِدِرَاسَةِ الْقُرْآنِ وَالْأَدَابِ وَالْعُلُومِ الْإِنْسَانِيَّةِ:

A. لِإِدْرَاقِهَا أَهْمِيَّةَ الْعِلْمِ

B. لِلْحُصُولِ عَلَى شَهَادَاتٍ جَامِعِيَّةِ

C. لِشَغْلِ أَوْقَاتِ فَرَغِهَا

19. حَصَلَتْ سُمُو الشَّيْخَة فَاطِمَة بِنْتُ مُبَارَك فِي مَارَسٍ مِنْ عَامِ 2005، عَلَى لُقْبِ:

A. سَعْفِ النَّخِيلِ الْكَادِمِيَّةِ

B. أُمِّ الشَّيُوخِ

C. أُمِّ الْإِمَارَاتِ

20. الْعَامُ الَّذِي انْتُخِبَتْ فِيهِ سُمُو الشَّيْخَة فَاطِمَة بِنْتُ مُبَارَك رَئِيسَةً لِجَمْعِيَّةِ الْإِتِّحَادِ الْنِسَائِيِّ

الْعَامِ، هُوَ:

A. 1971 م

B. 1973 م

C. 1975 م

انتهت الأسئلة

دعواتنا لكم بالنجاح والتوفيق

