

تم تحميل هذا الملف من موقع المناهج الإماراتية



أسئلة الامتحان التعويضي القسم الورقي منهج انسابير

موقع المناهج ← المناهج الإماراتية ← الصف الثالث ← علوم ← الفصل الثاني ← الامتحان النهائي ← الملف

تاريخ إضافة الملف على موقع المناهج: 22:44:34 2025-03-09

ملفات اكتب للمعلم اكتب للطالب | اختبارات الكترونية | اختبارات | حلول | عروض بوربوينت | أوراق عمل
منهج انجليزي | ملخصات وتقارير | مذكرات وبنوك | الامتحان النهائي للمدرس

المزيد من مادة
علوم:

التواصل الاجتماعي بحسب الصف الثالث



صفحة المناهج
الإماراتية على
فيسبوك

الرياضيات

اللغة الانجليزية

اللغة العربية

التربية الاسلامية

المواد على تلغرام

المزيد من الملفات بحسب الصف الثالث والمادة علوم في الفصل الثاني

تجميعه اختبارات تدريبية منهج انسابير	1
أسئلة الامتحان النهائي القسم الورقي منهج انسابير	2
نموذج اختبار تدريبي متبوع بالإجابات منهج انسابير	3
نموذج إجابة أسئلة الامتحان النهائي القسم الورقي منهج بريدج	4
حل أسئلة مراجعة امتحانية اختيار من متعدد	5



Grade

3

الامتحان التعويضي لنهاية الفصل الدراسي الثاني 2023/2022

End of Term 2 Make up Exam 2022/2023

	اسم الطالب / Student Name
	المدرسة / School
3	الصف / Class
المسار العام / General	المسار / Stream
العلوم - انسيبير / Science Inspire	المادة / Subject

	اسم المعلم / Teacher Name
	التوقيع / sign

Grade	الدرجة
	110




- يحظر تصوير أو تداول الورقة الامتحانية قبل أو أثناء أو بعد الامتحان من خلال البريد الالكتروني أو وسائل التواصل الاجتماعي أو أي وسيلة أخرى ومن يخالف ذلك سيتخذ في حقه الإجراءات القانونية المتبعة.
- على إدارت المدارس ولجان الامتحانات ومراكز التقدير مراعاة ذلك و رصد أي مخالفات والعمل على اتخاذ الإجراءات اللازمة.





- It is prohibited to photocopy or circulate the exam paper before / during and after the exam through e-mail, social media or any other means; and whoever violates this will be subject to the followed legal proceedings.
- School Administrations, Exam Committees and Marking Centers shall take this into account, monitor violations and take necessary measures.
















Circle the letter corresponding to the correct answer. ضع دائرة حول رمز الإجابة الصحيحة.


Part 1	الجزء 1
---------------	----------------


Question	1	السؤال
Which of the following is an extinct animal?		أي مما يلي حيواناً مُنقرضاً؟
	  	
	<p>A B C</p>	
A		A
B		B
C		C

Question	2	السؤال
Which of the following does not belong to the ecosystem shown below?		أي مما يلي لا ينتمي إلى النظام البيئي المُوضح أدناه؟
		
A	Cactus	الصبار
B	Polar bears	الدببة القطبية
C	Polar rabbits	الأرانب القطبية


Question		3	السؤال
Which of the following is used by animals and produced by plants?		أي مما يلي تُنتجه النباتات وتحتاجه الحيوانات؟	
			
A	Nitrogen gas	غاز النيتروجين	
B	Food	الغذاء	
C	Carbon dioxide	ثاني أكسيد الكربون	


Question		4	السؤال										
Which of the following days has no precipitation?		أي من الأيام التالية لا يوجد به هطول؟											
<table border="1" style="margin: auto;"> <thead> <tr> <th>1st</th> <th>2nd</th> <th>3rd</th> <th>4th</th> <th>5th</th> </tr> </thead> <tbody> <tr> <td style="text-align: center;"></td> <td style="text-align: center;"></td> <td style="text-align: center;"></td> <td style="text-align: center;"></td> <td style="text-align: center;"></td> </tr> </tbody> </table>				1 st	2 nd	3 rd	4 th	5 th					
1 st	2 nd	3 rd	4 th	5 th									
													
A	The 1 st day	اليوم الأول											
B	The 2 nd day	اليوم الثاني											
C	The 5 th day	اليوم الخامس											


Question	5	السؤال
Which of the following readings is represented in the measurement tool shown in the figure below?		أي من القراءات التالية تُمثله أداة القياس الموضحة في الشكل أدناه؟
		
A		30 °F
B		60 °F
C		20 °F






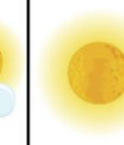












Question	6	السؤال
Which season is shown in the picture below?		أي موسم يظهر في الصورة أدناه؟
		
A	Fall	الخريف
B	Winter	الشتاء
C	Summer	الصيف

Part 2	الجزء 2
---------------	----------------

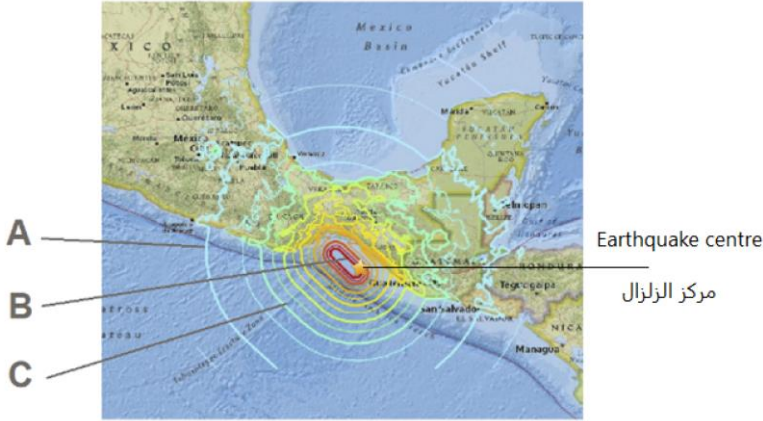
Question	7	السؤال
Which of the following layers is the most recent?		أي من الطبقات التالية هي الأحدث؟
		
A	1	
B	2	
C	3	


Question	8	السؤال
What can you infer about the animal that is shown in the fossil picture below?		ما الذي يُمكنك استنتاجه عن الحيوان الظاهر في الصورة الأحفورية أدناه؟
		
A	It could walk and run	كان يمشي ويجري
B	It flew from tree to tree	كان يطير من شجرة إلى شجرة
C	It lived in the ocean	عاش في المحيط


Question	9	السؤال
How do rabbits change the environment in the picture below?		كيف تُغير الأرانب البيئة في الصورة أدناه؟
		
A	Rabbits eat other animals	تأكل الأرانب حيوانات أخرى
B	Rabbits produce oxygen	تنتج الأرانب الأكسجين
C	Rabbits break up rocks	تفتت الأرانب الصخور

Question	10	السؤال														
The weather pattern for six days in October is shown below. What could be the type of weather on the seventh day?		يظهر أدناه نمط الطقس لستة أيام من شهر أكتوبر. ما الطقس المتوقع في اليوم السابع؟														
<table border="1" style="width: 100%; text-align: center;"> <thead> <tr> <th>1st</th> <th>2nd</th> <th>3rd</th> <th>4th</th> <th>5th</th> <th>6th</th> <th>7th</th> </tr> </thead> <tbody> <tr> <td></td> <td></td> <td></td> <td></td> <td></td> <td></td> <td>?</td> </tr> </tbody> </table>			1 st	2 nd	3 rd	4 th	5 th	6 th	7 th							?
1 st	2 nd	3 rd	4 th	5 th	6 th	7 th										
						?										
A	The weather will be very cold	سيكون الطقس بارداً جداً														
B	The weather will be sunny	سيكون الطقس مشمساً														
C	The weather will be snowy	سيكون الطقس مثلجاً														

Question		11	السؤال
Which of the following is not a natural hazard?			أي مما يلي لا يُمثل خطرًا طبيعيًا؟
A	Levees		السدود
B	Earthquake		الزلازل
C	Hurricane		الاعصار

Question		12	السؤال
In the figure below, which of the following areas of the earthquake will have the weakest vibrations?			في الشكل أدناه ، أي من مناطق الزلازل التالية ستكون بها الاهتزازات الأضعف ؟
			
A		A	
B		B	
C		C	

Question		13	السؤال
Which of the following might cause the landslides shown in the picture below?		أي مما يلي قد يتسبب في حدوث الانهيارات الأرضية في الصورة أدناه؟	
			
A	High temperature	ارتفاع درجة الحرارة	
B	Heavy rain	الأمطار الغزيرة	
C	Tornadoes	زوبعة هواء	

Question		14	السؤال
Which of the following natural hazards caused by heavy rainfalls?		أي من المخاطر الطبيعية التالية ناتج عن هطول الأمطار الغزيرة؟	
			
A		A	
B		B	
C		C	

Question		15	السؤال
Which of the following might be used to prevent flooding?			أي مما يلي يمكن استخدامه لمنع الفيضانات؟
A	Flexible bridges		الجسور المرنة
B	Levees		السدود
C	Lightning rods		مانع الصواعق

Question		16	السؤال
Which of the following is an emergency plan for natural hazards?			أي مما يلي هو خطة طوارئ للأخطار الطبيعية؟
A	Storing food		تخزين الطعام
B	Buying a big TV		شراء تلفزيون كبير
C	Video games		ألعاب الفيديو

Part 3	الجزء 3
---------------	----------------

Question	17	السؤال
----------	----	--------

The figure below represents three different types of fossils. Write the correct fossil type under each shape.

يمثل الشكل أدناه ثلاثة أنواع مختلفة من الأحافير. اكتب نوع الأحفورة الصحيح تحت كل صورة.



Question	18	السؤال
----------	----	--------

The figure below represents the four seasons. Study it and answer the following questions:

يمثل الشكل أدناه الفصول الأربعة. ادرسه وأجب عن الأسئلة التالية:



A


B

C

D

- Which letter represents the season that has the longest hours of sunlight during the day?
.....
- Which letter represents the season where the sun path is the lowest in the sky?
.....
- Which letter represents the spring season?
.....

- ما الحرف الذي يمثل فصلاً به أطول ساعات من ضوء الشمس خلال النهار?
.....
- ما الحرف الذي يمثل فصلاً يكون فيه مسار أشعة الشمس في أقل مستوياته?
.....
- ما الحرف الذي يُمثل فصل الربيع?
.....

Question	19	السؤال
<p>The figure below represents three tools used to measure the weather. Write the name of each tool in the adjacent box.</p>	  	<p>يمثل الشكل أدناه ثلاث أدوات تُستخدم لقياس الطقس، اكتب اسم كل أداة في المربع المجاور.</p>
	<input type="text"/>	
	<input type="text"/>	
	<input type="text"/>	

Question	20	السؤال
<p>Complete the following statements with one of these words: (Volcanos, climate, earthquakes, extinct, tilt, seasons)</p> <ul style="list-style-type: none"> All endangered organisms can become Average precipitation and temperature describe the Because of the Earth's.....the Sun's rays strike the Earth at different angles. Bridges can be built to bend without breaking in order to prevent damage in Times of the year with different weather patterns are called 	<p>أكمل العبارات التالية بإحدى هذه الكلمات:</p> <p>(البراكين ، المناخ ، الزلازل ، منقرضة ، ميلان ، الفصول)</p> <ul style="list-style-type: none"> جميع الكائنات الحية المهددة بالانقراض يمكن أن تصبح متوسط هطول الأمطار ودرجة الحرارة تصف تضرب أشعة الشمس الأرض بزوايا مختلفة وذلك بسببالأرض. يمكن بناء الجسور بحيث تنحني دون أن تنكسر لمنع الضرر من تسمى أوقات السنة ذات انماط الطقس المختلفة 	

***** BONUS *****

Question	21	21	السؤال																				
<p>The table below shows the average temperature in July in six countries. Arrange the countries in descending order according to the average temperature.</p>			<p>يوضح الجدول أدناه متوسط درجة الحرارة في يوليو في ستة بلدان. رتب البلدان ترتيباً تنازلياً وفقاً لمتوسط درجة الحرارة.</p>																				
	<table border="1"> <thead> <tr> <th colspan="5">متوسط الحرارة في تموز في July Average Temperature in July</th> </tr> <tr> <th>المكسيك</th> <th>البرازيل</th> <th>كينيا</th> <th>إيسلاند</th> <th>الصين</th> </tr> <tr> <th>Mexico</th> <th>Brazil</th> <th>Kenya</th> <th>Iceland</th> <th>China</th> </tr> </thead> <tbody> <tr> <td>30°C (86°F)</td> <td>29°C (84°F)</td> <td>25°C (77°F)</td> <td>13°C (56°F)</td> <td>28°C (83°F)</td> </tr> </tbody> </table>			متوسط الحرارة في تموز في July Average Temperature in July					المكسيك	البرازيل	كينيا	إيسلاند	الصين	Mexico	Brazil	Kenya	Iceland	China	30°C (86°F)	29°C (84°F)	25°C (77°F)	13°C (56°F)	28°C (83°F)
متوسط الحرارة في تموز في July Average Temperature in July																							
المكسيك	البرازيل	كينيا	إيسلاند	الصين																			
Mexico	Brazil	Kenya	Iceland	China																			
30°C (86°F)	29°C (84°F)	25°C (77°F)	13°C (56°F)	28°C (83°F)																			
<p>.....</p> <p>.....</p> <p>.....</p>																							

***** BONUS *****

Question	22	22	السؤال
<p>Put the sign <input checked="" type="checkbox"/> next to the true statement and <input type="checkbox"/> next to the False statement.</p> <ul style="list-style-type: none"> • Temperature is a measure of how cold or hot an object is. () • The spinning of Earth around itself causes different seasons. () • The pattern of weather in a certain place over a long period of time is called climate. () • A storm with lots of snow, cold temperatures, and strong wind is called a blizzard. () • Barometer is used to measure temperature. () 			<p>ضع إشارة <input checked="" type="checkbox"/> أمام العبارة الصحيحة و إشارة <input type="checkbox"/> أمام العبارة الخاطئة .</p> <ul style="list-style-type: none"> • درجة الحرارة هي مقياس مدى سخونة الجسم أو برودته . () • تختلف الفصول بسبب دوران الأرض حول نفسها. () • يسمى نمط الطقس في مكان معين على فترة زمنية طويلة بالمناخ. () • العاصفة المصحوبة بكثرة الثلوج ودرجات الحرارة الباردة والرياح القوية تسمى عاصفة ثلجية. () • يستخدم البارومتر لقياس درجة الحرارة. ()

انتهت الأسئلة