

أوراق عمل Material Review منهج انسابير



تم تحميل هذا الملف من موقع المناهج الإماراتية

موقع المناهج ← المناهج الإماراتية ← الصف الثاني ← علوم ← الفصل الثالث ← ملفات متنوعة ← الملف

تاريخ إضافة الملف على موقع المناهج: 2025-05-06 11:23:34

ملفات اكتب للمعلم اكتب للطالب | اختبارات الكترونية | اختبارات | حلول | عروض بوربوينت | أوراق عمل
منهج انجليزي | ملخصات وتقارير | مذكرات وبنوك | الامتحان النهائي | للمدرس

المزيد من مادة
علوم:

التواصل الاجتماعي بحسب الصف الثاني



صفحة المناهج
الإماراتية على
فيسبوك

الرياضيات

اللغة الانجليزية

اللغة العربية

التربية الاسلامية

المواد على تلغرام

المزيد من الملفات بحسب الصف الثاني والمادة علوم في الفصل الثالث

أوراق عمل إثرائية درس المغناطيس

1

حل مراجعة اختبار التقويم الأول

2

مراجعة اختبار التقويم الأول بدون الحل

3

أوراق عمل درس القوة بدون الحل

4

عرض بوربوينت حل درس المغناطيس

5

Grade 2
Science Review Material
Term 3

Choose the correct answer.

1-What is this material?

- A. Plastic.
- B. Metal.
- C. Glass.
- D. Cardboard.



2-Which picture is showing us clay?



3-Which object is made of glass?



4-What state of matter is milk?

- A. solid
- B. liquid
- C. gas



5-Which of the following is **solid**?



6-What are the **properties** of this picture?

- A. bendable and strong
- B. Light and waterproof
- C. hard and absorbent



7-**look** at the pictures:

- A. Soft, bendable and heavy
- B. Hard, breakable and light
- C. Absorb water, rough and clear



8-**What is this material?**

- A. It is wood.
- B. It is silver.
- C. It is cardboard.
- D. It is concrete.




9-Choose the **correct** option:

- A. You can squash a stone.
- B. You can squash silver.
- C. You can squash clay.
- D. You can squash glass.



10-Which material is absorbing water?



10-These are bottle tops.

- A. plastic
- B. wood
- C. glass



12-Wood is...

- A. Hard
- B. Soft
- C. Smooth
- D. Bendable




13- look at the pictures:

- A. Hard
- B. heavy
- C. rough
- D. Bendable



14-How something feels, hard or soft or smooth or rough is called

- A. Property
- B. Absorb
- C. Texture
- D. Solid



Match the term with the correct word on the side.

Materials that soak up water

Liquid

How something feels, hard or soft or smooth or rough

Property

The way something looks, feels, tastes, smells
sounds and looks

Solid

Materials that take shape of a container

Absorb

Materials than have a shape of their own.

Texture

Draw a line to match each item to the correct state of matter.

Solid



Liquid




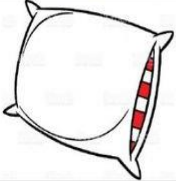


KIDPID.COM








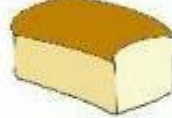



Gas




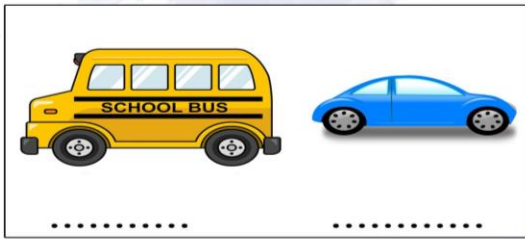

Choose the correct answer

OBJECTS	HARD	SOFT
	HARD	SOFT
	HARD	SOFT
	HARD	SOFT
	HARD	SOFT

Encircle the correct description of the picture.


 rough smooth	 rough smooth	 rough smooth
 rough smooth	 rough smooth	 rough smooth
 rough smooth	 rough smooth	 rough smooth

Compare the two objects. Write 'L' for light and 'H' for heavy.




Choose the correct answer

1. Which is a hard object?



2. Which is a rough object?



3. Which is a soft object?



4. Which is a smooth object?

