

## أوراق عمل دروس السلع والخدمات والإنتاج والاستهلاك وصنع في بلادي



### تم تحميل هذا الملف من موقع المناهج الإماراتية

موقع المناهج ← المناهج الإماراتية ← الصف الثاني ← اجتماعيات ← الفصل الثالث ← ملفات متنوعة ← الملف

تاريخ إضافة الملف على موقع المناهج: 11:51:28 2025-05-09

ملفات اكتب للمعلم اكتب للطالب ا اختبارات الكترونية ا اختبارات ا حلول ا عروض بوربوينت ا أوراق عمل  
منهج انجليزي ا ملخصات وتقارير ا مذكرات وبنوك ا الامتحان النهائي ا للمدرس

المزيد من مادة  
اجتماعيات:

### التواصل الاجتماعي بحسب الصف الثاني



صفحة المناهج  
الإماراتية على  
فيسبوك

الرياضيات

اللغة الانجليزية

اللغة العربية

التربية الاسلامية

المواد على تلغرام

### المزيد من الملفات بحسب الصف الثاني والمادة اجتماعيات في الفصل الثالث

أسئلة الاختبار التقويمي الأول بدون الحل	1
الاختبار التكويني الأول في درسي السلع والخدمات - الإنتاج والاستهلاك	2
أوراق عمل مراجعة امتحانية	3
ورقة عمل الدرس الأول السلع والخدمات من الوحدة الخامسة	4
التوزيع الزمني للخطة الفصلية للمقرر	5



وزارة التربية والتعليم  
MINISTRY OF EDUCATION

مراجعة لمادة الدراسات الاجتماعية و التربية الوطنية للصف الثاني  
(الدرس الأول: السلع والخدمات و الدرس الثاني: الإنتاج والاستهلاك و  
الدرس الثالث: صنع في بلادي)

الفصل الدراسي الثالث

2025 – 2024



الاسم: .....

الصف: الثاني / .....

السؤال الأول: ضع علامة ( √ ) امام الاجابة الصحيحة وعلامة ( X ) امام الاجابة الخاطئة:

1. الثلاجة من السلع التي نحصل عليها من الطبيعة دون ثمن ( )
2. تختلف السلع في أسعارها ( )
3. يعد الهواء من السلع الغير أساسية ( )
4. نحصل على الألعاب من متجر الألعاب ( )

السؤال الثاني: صنف السلع الآتية وفق الجدول الآتي:

الدرجة الهوائية	الغذاء	الملابس	المثلجات
سلع غير أساسية			

السؤال الثالث: اختر الإجابة الصحيحة ما بين القوسين:

1. ما تقدمه الدولة للمواطنين والمقيمين لتسهيل حياتهم .....  
( السلع - الخدمات - الإنتاج )
2. من الخدمات المجانية التي تقدمها الدولة .....  
( الكهرباء - التعليم - الصحة )
3. من الخدمات الغير مجانية التي تقدمها الدولة .....  
( الكهرباء - الطرق - المواصلات )

السؤال الرابع: صنف الخدمات الآتية وفق الجدول الآتي:

شبكات المياه	الحدائق	الدفاع المدني	المطارات
--------------	---------	---------------	----------

خدمات أساسية	خدمات غير أساسية

السؤال الخامس: حوّل الصورة المناسبة للجملة:

1. ما الذي كان يستخدم في العلاج قديماً  
 الأدوية  
 الأعشاب الطبية
2. ما المكان الذي كان يتعلم به الأولاد قديماً  
 المدرسة  
 الكتاب
3. من كان يعلم البنات قديماً  
 المطوع  
 المطوعة
4. ماذا نسمي المعالج قديماً  
 الدكتور  
 المداوي
5. ما المواد التي تدرس في الكتاب  


السؤال السادس: صنف الخدمات الآتية وفق الجدول الآتي:


المدارس	التطعيم	الكتب	الدواء
---------	---------	-------	--------

خدمات تعليمية	خدمات صحية

السؤال السابع: ضع علامة ( √ ) امام الاجابة الصحيحة وعلامة ( X ) امام الاجابة الخاطئة:

1. تعد الثروة الحيوانية و النباتية من الموارد الطبيعية للإنتاج ( )
2. يساعد الإنتاج في الحصول على النقود ( )
3. يمنج الإنتاج الإنسان الكسل ( )
4. يقوم عامل البناء بإنتاج الخضروات ( )
5. من اهمية الإنتاج توفير مانتاجه من السلع و الخدمات ( )

السؤال الثامن: صل العامل بإنتاجه:



السؤال التاسع: صنف السلع الآتية وفق الجدول الآتي:




الهاتف	معجون الأسنان	الطعام	السيارة	الماء	الألعاب
--------	---------------	--------	---------	-------	---------

سلع تستهلك كل يوم	سلع تستهلك خلال فترة زمنية طويلة

السؤال العاشر: ضع علامة ( √ ) امام السلوك الصحيح وعلامة ( X ) امام السلوك الخاطئ:

1. ترك صنبور المياه مفتوحاً عند تنظيف الأسنان ( )
2. الري بالرش أو التنقيط من اساليب ترشيد الإستهلاك ( )
3. فتح النوار في الأماكن الغير مشغولة ( )
4. شراء كميات كبيرة من الأغذية دون الحاجة إليها ( )
5. المساهمة في مشاريع حفظ النعمة ( )

السؤال الثالث عشر: اصل لاتعرف على المواد الخام المستخدمة فى الصناعات التالية:



السؤال الثالث: اختر الإجابة الصحيحة ما بين القوسين:

1. تحويل مادة خام إلى مادة جديدة يستفيد منها الإنسان يقصد بها .....

( الصناعة - الزراعة - التجارة )

2. اداة تستخدم لقطع الخشب .....

( السكين - المقص - المنشار )


3. المادة الخام المستخدمة في صناعة المندوس .....

( الخشب - الحديد - القطن )

4. المادة الخام المستخدمة في صناعة الجبن .....

( الماء - الحليب - القطن )

السؤال الثاني عشر: صنف الصورة التالية حسب نوع الصناعة بكتابة كلمة : ( قديمة - حديثة )



\_\_\_\_\_



\_\_\_\_\_



\_\_\_\_\_



\_\_\_\_\_



\_\_\_\_\_



\_\_\_\_\_

السؤال الثالث عشر: حوّل الصور التي تمثل المنتجات الوطنية في بلادنا:

