

تم تحميل هذا الملف من موقع المناهج الإماراتية




## حل مراجعة الاستعداد للاختبار النهائي

[موقع المناهج](#) ← [المناهج الإماراتية](#) ← [الصف الثاني](#) ← [رياضيات](#) ← [الفصل الثالث](#) ← [الملف](#)

تاريخ إضافة الملف على موقع المناهج: 20:26:02 2024-05-26

## التواصل الاجتماعي بحسب الصف الثاني



اضغط هنا للحصول على جميع روابط "الصف الثاني"

## روابط مواد الصف الثاني على تلغرام

[الرياضيات](#)

[اللغة الانجليزية](#)

[اللغة العربية](#)

[التربية الاسلامية](#)

## المزيد من الملفات بحسب الصف الثاني والمادة رياضيات في الفصل الثالث

[مراجعة الاستعداد للاختبار النهائي](#)

1

[أسئلة الامتحان النهائي](#)

2

[أسئلة الاختبار القصير الأول](#)

3

[أوراق عمل درس الساعة ومقارنة الأطوال](#)

4

[ورقة عمل درس الوقت](#)

5

## الاستعداد لاختبار الرياضيات النهائي الفصل الدراسي الثالث

اسم الطالب : ..... الصف الثاني : .....

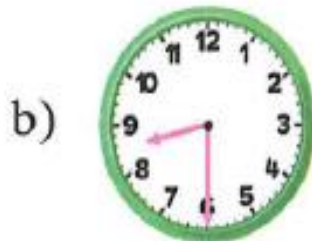
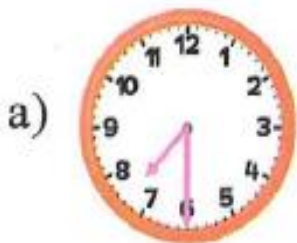
## السؤال الأول:




اختر الإجابة الصحيحة فيما يأتي وأرسم حولها دائرة  
1) ما الوقت الموضح في الساعة ؟



2) يغادر القطار الساعة 4:30 . أي ساعة تبين أن الساعة 4:30 ؟



3) حدد الساعة التي تظهر مثالا على الربع ساعة ؟



4) إذا اقترب عقرب الساعات من 8 وأشار عقرب الدقائق إلى 10 . ما الوقت ؟

a) 8:10

b) 9:50

c) 7:50



5) حدد الوقت الموضح لتناول طعام الغداء؟

- a) 3:30P.M b) 3:30A.M c) 3:00P.M

6) سافر مروان في عطلة لزيارة عمه وعمته ، وظل هناك لمدة اسبوعين ، كم المدة التي سافرها مروان؟

- a) 7 أسابيع b) 7 ساعات c) 14 يوم

7) اكتب اسم الشكل .



- a) متوازي أضلاع b) شبه منحرف c) مستطيل

8) حدد الشكل الذي يضم 8 أضلاع و8 زوايا

a)



b)

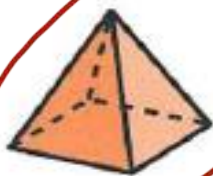


c)



9) أنا شكل ثلاثي الأبعاد ، لدي 5 أوجه . أي شكل أنا؟

a)



b)



c)




10) حدد الشكل الذي تكونه الأوجه؟

a)



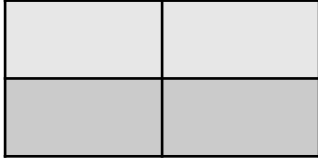
b)



c)



11) صف الأجزاء المتساوية ؟

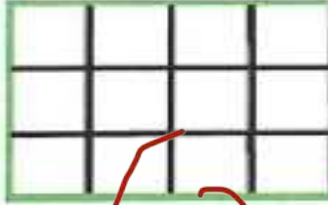


a) أنصاف

b) أرباع

c) أثلاث

12) كم عدد المربعات التي تكون المستطيل ؟



a) 12

b) 15

c) 16

13) تريد فاطمة أن ترسم دائرة باستخدام الأشياء أدناه. ما الأشياء التي يمكن استخدامها ؟ حوط تلك الأشياء



b)

c)



14) حدد الوقت الذي يستعد فيه أحمد للنوم ؟

a) 7:00 PM

b) 8:00 AM

c) 12:00AM

15) الساعة الرقمية هي الساعة التي تستخدم :

a) الأرقام

b) الملاعق

c) العقارب

16) الاستعداد للاختبار يحتاج

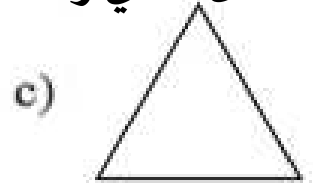
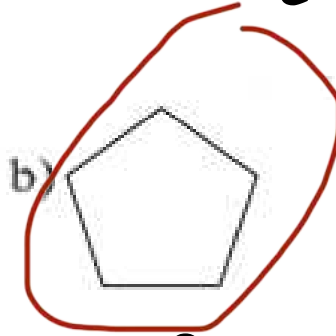
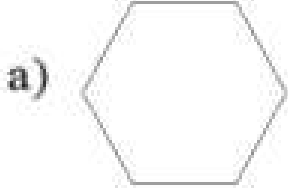
a) ثانية

b) دقائق

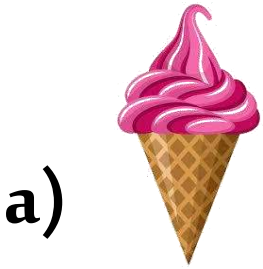
c) ساعات

17) رسم خالد شكلا فيه أضلاع أكثر من أضلاع المثلث أو المستطيل و أقل من أضلاع سداسي الأضلاع .

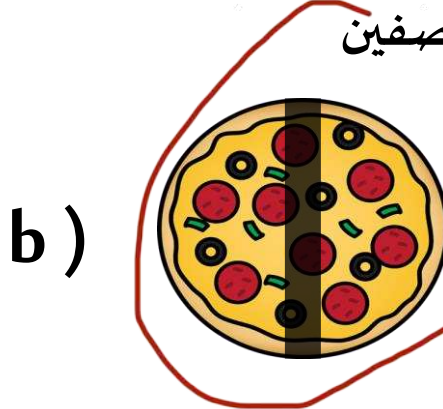

ما الشكل الذي رسمه ؟



18) شكل ثلاثي الأبعاد وجوهه 0



19) البيزا المقطعة الى نصفين



20) اذا اردت أن تشارك 3 من زملائك البيزا بالتساوي فكم سيكون نصيب كل منهم ؟




a) أنصاف

b) أثلاث


c) أرباع

السؤال الثاني : اقرأ الأسئلة الآتية ثم أجب عنها.


( 21



كم عدد

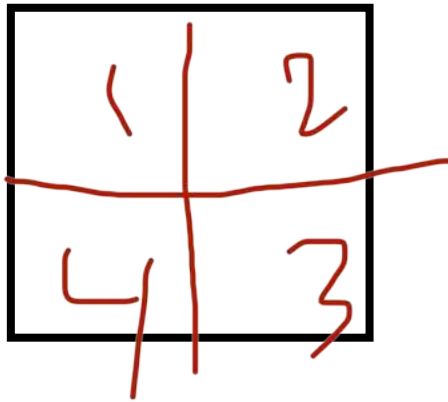


كم عدد

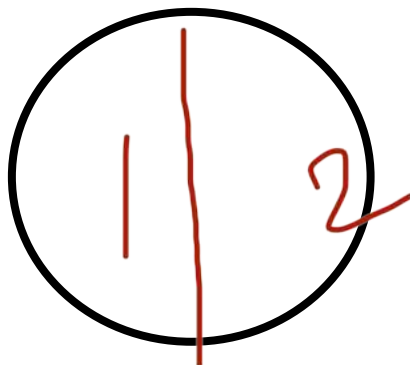


كم عدد



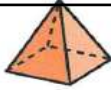

( 22) ارسم خطا لتقسيم الشكل إلى 4 أجزاء متساوية :



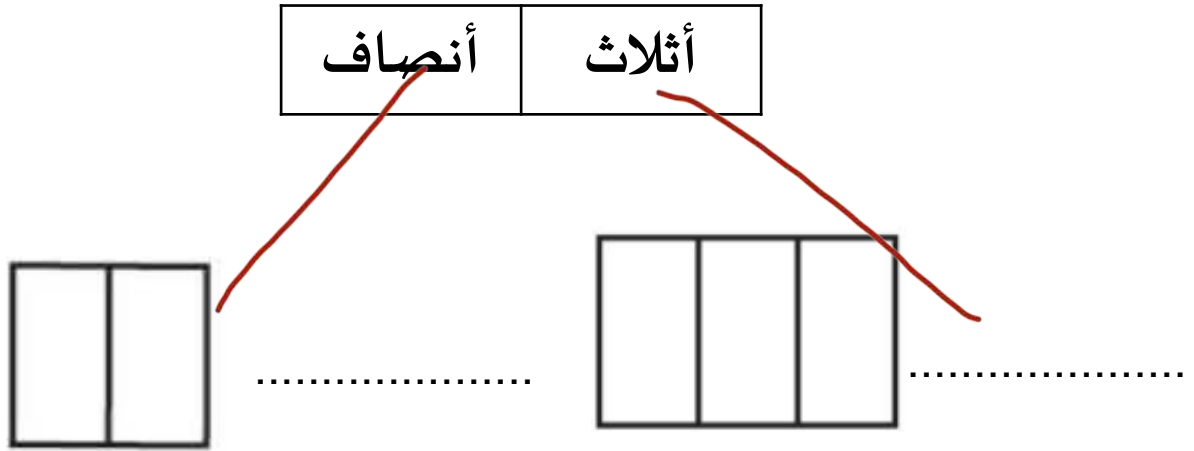
( 23) ارسم خطا لتقسيم الشكل إلى 2 أجزاء متساوية :



السؤال الثالث : اكتب عدد الأوجه :

الأوجه	الشكل
6	المكعب 
5	الكرة 
5	الهرم 
6	المنشور المستطيل 

السؤال الرابع : استخدم الكلمات التالية في المكان المناسب

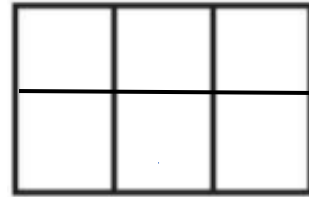


السؤال الخامس : أوجد مساحة المستطيل



مربعات

15



مربعات

6

تمنياتنا بالتوفيق والنجاح لجميع الطلبة