

حل أوراق عمل شاملة دروس الفصل



تم تحميل هذا الملف من موقع المناهج الإماراتية

موقع المناهج ← المناهج الإماراتية ← الصف الثاني ← علوم ← الفصل الثاني ← ملفات متنوعة ← الملف

تاريخ إضافة الملف على موقع المناهج: 10:12:17 2026-02-01

ملفات اكتب للمعلم اكتب للطالب | اختبارات الكترونية | اختبارات | حلول | عروض بوربوينت | أوراق عمل
منهج انجليزي | ملخصات وتقارير | مذكرات وبنوك | الامتحان النهائي | للمدرس

المزيد من مادة
علوم:

إعداد: وفاء

التواصل الاجتماعي بحسب الصف الثاني



صفحة المناهج
الإماراتية على
فيسبوك

الرياضيات

اللغة الانجليزية

اللغة العربية

التربية الاسلامية

المواد على تلغرام

المزيد من الملفات بحسب الصف الثاني والمادة علوم في الفصل الثاني

أسئلة الاختبار لنهاية الفصل

1

أسئلة اختبار نهاية الفصل

2

أسئلة الاختبار التكويني الثاني بدون حل

3

عرض بوربوينت حل درس الكائنات الحية والأشياء غير الحية

4

أسئلة الاختبار القصير الثاني

5

مراجعة مادة العلوم

أختر الإجابة الصحيحة:

1. . تسمى القطع الكبيرة من اليابسة الموجودة على سطح الأرض بـ _____

ج . محيط

ب . جزيرة

أ. قارة

2. . يوجد _____ قارات على سطح الأرض .

ج . 7

ب . 8

أ. 10

3. . معظم سطح الأرض مغطى بـ _____ .

ج . الجزيرة

ب . الماء

أ. اليابسة

4. . قطع صغيرة من اليابسة محاطة بالماء من جميع الاتجاهات .



ج . بحيرة



ب . المحيط



أ. الجزيرة

5. . تغطي المحيطات حوالي _____ سطح الأرض .

ج . أربعة ارباع

ب . ثلاثة ارباع

أ. ربع

6. ماء يحتوي على نسبة قليلة من الملح أو لا يحتوي على الملح .

ج . ماء عذب

ب . ماء مالح

أ. محيط

7. . مسطح كبير جدا من الماء المالح .



ج . بحيرة



ب . المحيط



أ . الجزيرة

8. . مسطح مائي تحيط به اليابسة من جميع الاتجاهات.



ج . بحيرة



ب . المحيط



أ . الجزيرة


9. . يطلق على الماء المتحرك الذي يصب في بحيرة أو المحيط .



ج . وادي



ب . نهر



أ . جبل

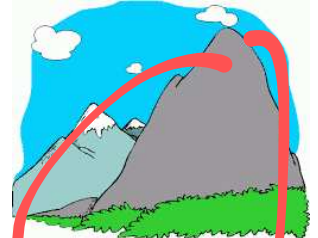
10. . ارض مرتفعة عن ما يجاورها .



ج . وادي



ب . نهر



أ . جبل


11. ارض منخفضة بين جبلين .



ج . وادي



ب . نهر



أ . جبل


12. الارض المستوية التي تمتد عبر مساحات واسعة.



ج . وادي



ب . سهول




أ . جبل

13. مسطح كبير جدا من الماء المالح .



ج . بحيرة



ب . المحيط




أ . الجزيرة

14. أي مما يلي لا يحتوي على ماء عذب



ج . بحيرة



ب . المحيط



أ . الجزيرة

15. تعمل جذور النباتات على تشقق وفتت الصخر .
ويسمى ذلك ب .



ج . الترسيب

ب . التعرية

أ . لتجوية

16. تغير و تفتت شكل و حجم الصخور .

ج . الترسيب

ب . التعرية

أ . التجوية

17. هو تجمع الصخر الذي تعرض لعوامل التجوية في أماكن بعيدة عن مكان تفتتها .

ج . الترسيب

ب . التعرية

أ . التجوية

18. عندما تحمل الرياح أو الماء أجزاء من الصخر و التربة إلى مكان جديد يسمى بـ .

ج . الترسيب

ب . التعرية

أ . التجوية

19. حوط الكائن الحي .



ج .

ب .

أ .

20. حوط الشيء الغير حي .



ج .

ب .

أ .

21. حوط المادة المصنعة .



أ.



ب .



ج .

21. مادة طبيعية لا يصنعها الإنسان .



أ.



ب .



ج .

22. حوط المورد الطبيعي .



أ.



ب .



ج .

24. جماد صلب من الأرض بأشكال و ألوان مختلفة .



أ.



ب .



ج .

25. نحت أبو الهول من ————— .

أ. الصحرا

ب . البلاستيك

ج . معدن




26. أداة تستخدم في نحت الصخور .



أ.




ب .



ج .

27. يستخدم معدن الجرافيت في صناعة .



أ.



ب .



ج .

28. يستخدم معدن الفيروز في صناعة .



أ.



ب .



ج .


29. يستخدم معدن الفلوريت في صناعة .



أ.



ب .



ج .

30. يستخدم معدن المجنتيت في صناعة .



أ.





ب . المعلمة وفاء



ج .

40. معدن يستخدم في صناعة قلم الرصاص .



ج . الفيروز



ب . الجرافيت



أ . المجنيتيت


40. معدن يستخدم في صناعة المغناطيس.



ج . الفيروز




ب . الجرافيت



أ . المجنيتيت

40. معدن يستخدم في صناعة معجون الأسنان .



ج . الفيروز



ب . الفلوريت



أ . المجنيتيت

41. معدن يستخدم في صناعة الحلي و الخواتم .



ج . الفيروز




ب . الفلوريت



أ . المجنيتيت

42. أداة تستخدم لاستخراج المعادن من الصخور .



ج .



ب .
المعلمة وفاء



أ .

• ضع اشارة (✓) أمام الاجابة الصحيحة وعلامة (X) أمام الاجابة الغير صحيحة

- 1 - من الطرق التي يمكن أن يغير بها الماء الأرض هي التجمد (✓)
- 2 - من أسباب تغير اليابسة وتشققها جذور النباتات (X)
- 3 - الوادي هو أعلى أشكال اليابسة (X)
- 4 - تغطي القارات معظم سطح الأرض (X)
- 5 - تتسبب الأنهار الجليديه حدوث التعرية ببطء اثناء تحركها (X)
- 6- تحدث التجوية ببطء لدرجة انك لا تستطيع ان تلاحظها (✓)
- 7 - تحدث التعرية ببطء فقط (X)
- 8 - الأشياء الغير حية تنمو و تتغير و تحتاج إلى ماء و هواء و غذاء و تنجب أبناء مثلها (X)
- 9- الصخور من الأشياء الغير حية (✓)
- 10 - الماء و الهواء و التربة من الموارد المصنعة (X)
- 11- يعد الزجاج و البلاستيك من المواد الطبيعية (X)
- 12- يعد الماء و الهواء و النباتات و الحيوانات و الصخور من موارد الأرض الطبيعية (✓)
- 13- لا توجد الصخور بجميع الأشكال و الأحجام (X)
- 14-المعادن هي أجزاء صلبة جامدة من الصخور و التربة (✓)
- 15 - تتكون الصخور من معدن واحد فقط (X)
- 16- يصنع معجون الأسنان من معد الفيروز (X)
- 17 - عدد القارات على الأرض هو 7 قارات (✓)

• صنف الصور التالية بحسب المطلوب في الجدول وذلك بكتابة الرقم الموجود اسفل

الصورة ؟



1



2



3



4



5



6

مواد مصنعة	موارد طبيعية
1	2
5	3
4	6



1



2



3



4





5



6

و أشياء غير حية	كائنات حية
2	1
3	4
5	6

صل الصور لتاليه بالمفردة المناسبة :



• النهر

• الجزيرة

• بحيرة

• محيط

• جبال

• سهل

• التجوية

• الوادي