

مراجعة وحدة الوقت بدون الحل



تم تحميل هذا الملف من موقع المناهج الإماراتية

موقع المناهج ← المناهج الإماراتية ← الصف الثاني ← رياضيات ← الفصل الثالث ← ملفات متنوعة ← الملف

تاريخ إضافة الملف على موقع المناهج: 13:08:48 2025-05-09

ملفات اكتب للمعلم اكتب للطالب ا اختبارات الكترونية ا اختبارات ا حلول ا عروض بوربوينت ا أوراق عمل
منهج انجليزي ا ملخصات وتقارير ا مذكرات وبنوك ا الامتحان النهائي ا للمدرس

المزيد من مادة
رياضيات:

التواصل الاجتماعي بحسب الصف الثاني



صفحة المناهج
الإماراتية على
فيسبوك

الرياضيات

اللغة الانجليزية

اللغة العربية

التربية الاسلامية

المواد على تلغرام

المزيد من الملفات بحسب الصف الثاني والمادة رياضيات في الفصل الثالث

أوراق عمل درس العلاقات الزمنية

1

مراجعة امتحانية Review Exam بدون الحل منهج ريفيل

2

مذكرة الوحدة 10 الأشكال الهندسية والحصص المتساوية

3

مذكرة الوحدة التاسعة الوقت

4

عرض بوربوينت درس الأشكال ثلاثية الأبعاد

5



مؤسسة الإمارات للتعليم المدرسي
EMIRATES SCHOOLS ESTABLISHMENT


مراجعة فصل الوقت



United Arab Emirates

اسمي الجميل:-----
صفي ثاني:

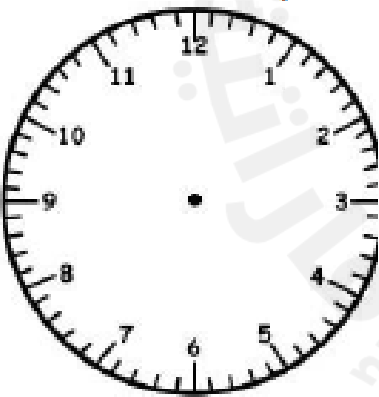
اذكر الوقت الظاهر أمامك ثم اكتب الوقت



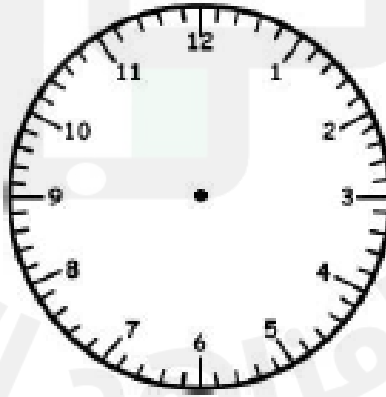
الساعة ----- و النصف

الساعة -----

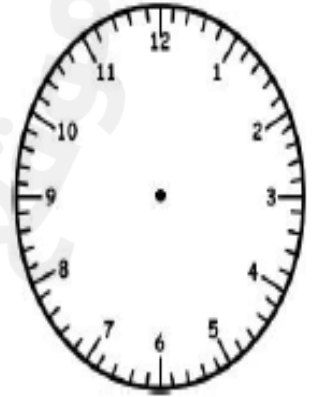
ارسم العقارب في كل ساعة ثم اكتب الوقت



8:15



6:30



3:00

ظل الوحدة الأفضل لقياس الوقت لكل حدث

اجراء امتحان في الرياضيات

رمي الكرة 5 مرات

دقائق

ساعات

ثواني

ساعات

اختر الاجابة الصحيحة



1- يشير الوقت الى ساعة

أ - 9 و نصف ب- 9 و ربع ج - 6 و نصف

2- اذا كان اليوم هو الثلاثاء ، فماذا سيكون غدا ؟

أ - الاربعاء ب- الخميس ج - الاثنين

3- العقرب الطويل في الساعة التناظرية هو عقرب ؟

أ - الثواني ب- الساعة ج -الدقائق

4- الساعة التي تستخدم الارقام لإظهار الوقت هي ساعة ؟

أ - تناظرية ب- رقمية ج - ماسية

5- 60 دقيقة هي ----- واحدة ؟

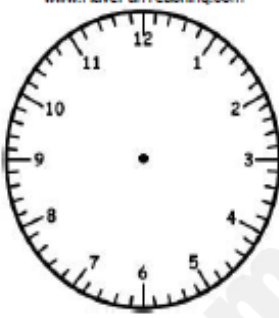
أ - دقيقة ب- ثانية ج - ساعة

حل المسائل

1- يغير طلاب المعلمة مريم الأنشطة كل ساعة في الصباح ، فتبدأ القراءة في الساعة 8:15 ، ثم يقومون بثلاثة أنشطة أخرى . فمتى يبدأ كل نشاط منها ؟

8:15 , ----- , ----- , -----

2- تشير الساعة إلى 2:25 و بعد ساعة سيذهب محمد الى المكتبة ، بين على الساعة المجاورة وقت ذهابه و حوط صباحا أو مساء



مساء

صباحا

3- ا كان اليوم هو الاربعاء . فماذا كان بالامس ؟ -----

أغسطس / آب						
الجمعة	الخميس	الأربعاء	الثلاثاء	الاثنين	الأحد	البر
5	4	3	2	1	7	6
12	11	10	9	8	14	13
19	18	17	16	15	21	20
26	25	24	23	22	28	27
		31	30	29		

إِسْتَحْدِمِ التَّقْوِيمَ (الرَّوْزَنَامَةَ) لِلْإِجَابَةِ
عَنِ السُّئَلَةِ.

6 ما عَدَدُ أَيَّامِ الْخَمِيسِ فِي تَقْوِيمِ شَهْرِ
أَغُسْطُسَ / آبٍ؟ _____

7 أَيُّ الْأَيَّامِ يُصَادِفُ الْيَوْمَ السَّادِسُ عَلَى
تَقْوِيمِ شَهْرِ أَغُسْطُسَ / آبٍ؟ _____