

ورقة عمل الوقت بالساعة بدون الحل



تم تحميل هذا الملف من موقع المناهج الإماراتية

موقع المناهج ← المناهج الإماراتية ← الصف الثاني ← رياضيات ← الفصل الثالث ← ملفات متنوعة ← الملف

تاريخ إضافة الملف على موقع المناهج: 14:05:55 2025-05-13

ملفات اكتب للمعلم اكتب للطالب | اختبارات الكترونية | اختبارات | حلول | عروض بوربوينت | أوراق عمل
منهج انجليزي | ملخصات وتقارير | مذكرات وبنوك | الامتحان النهائي | للمدرس

المزيد من مادة
رياضيات:

إعداد: مدرسة سلمان الفارسي الخاصة

التواصل الاجتماعي بحسب الصف الثاني



صفحة المناهج
الإماراتية على
فيسبوك

الرياضيات

اللغة الانجليزية

اللغة العربية

التربية الاسلامية

المواد على تلغرام

المزيد من الملفات بحسب الصف الثاني والمادة رياضيات في الفصل الثالث

مراجعة وحدة الوقت بدون الحل

1

أوراق عمل درس العلاقات الزمنية

2

مراجعة امتحانية Review Exam بدون الحل منهج ريفيل


3

مذكرة الوحدة 10 الأشكال الهندسية والحصى المتساوية

4

مذكرة الوحدة التاسعة الوقت

5







:- صل بين الساعة المناسبة والوقت :

① الساعة 7:00

① الساعة 11:30

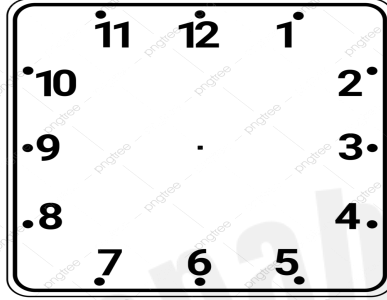
① الساعة 3:00




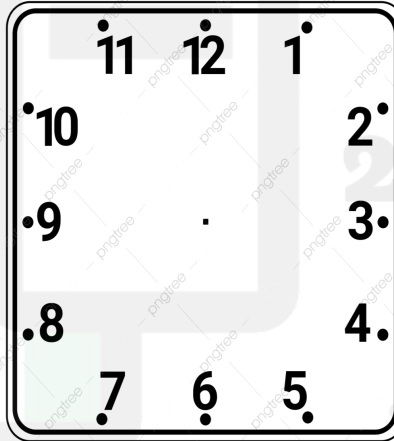
ارسم العقارب حسب الوقت المطلوب:

1. الساعة الخامسة تمامًا

2. الساعة 1:30



3. الساعة 8:00 صباحًا



اكتب 3 أنشطة تقوم بها يوميًا، وحدد الوقت المناسب لها (بالساعة أو النصف).

وأبدع قصة تستخدم فيها الاوقات المختلفه للانشطه اليوميه _____

ثم اختر أحدها، وارسم الساعة التي تمثله.

" إذا كان بإمكانك أن تعيش في وقت واحد فقط من اليوم، أي ساعة ستختار؟ ولماذا؟ وكيف سيكون شكل يومك لو بقيت دائمًا في هذه الساعة فقط؟

