

ورقة عمل درس الأشكال الهندسية



تم تحميل هذا الملف من موقع المناهج الإماراتية

موقع المناهج ← المناهج الإماراتية ← الصف الثاني ← رياضيات ← الفصل الثالث ← ملفات متنوعة ← الملف

تاريخ إضافة الملف على موقع المناهج: 09:40:03 2025-05-19

ملفات اكتب للمعلم اكتب للطالب | اختبارات الكترونية | اختبارات | حلول | عروض بوربوينت | أوراق عمل
منهج انجليزي | ملخصات وتقارير | مذكرات وبنوك | الامتحان النهائي | للمدرس

المزيد من مادة
رياضيات:

إعداد: خولة الدهماني

التواصل الاجتماعي حسب الصف الثاني



صفحة المناهج
الإماراتية على
فيسبوك

الرياضيات

اللغة الانجليزية

اللغة العربية

التربية الاسلامية

المواد على تلغرام

المزيد من الملفات بحسب الصف الثاني والمادة رياضيات في الفصل الثالث

ورقة عمل الوقت بالساعة بدون الحل

1

مراجعة وحدة الوقت بدون الحل

2

أوراق عمل درس العلاقات الزمنية

3

مراجعة امتحانية Review Exam بدون الحل منهج ريفيل

4

مذكرة الوحدة 10 الأشكال الهندسية والحصص المتساوية

5

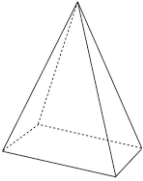
الاسم:----- الصف الثاني

المعلمة خولة الدهماني

1- شكل له طول وعرض وارتفاع

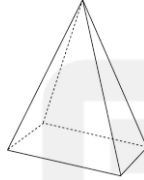
الشكل الثلاثي الأبعاد

الشكل الثنائي الأبعاد



2- شكل له 3 أضلاع و 3 زوايا

3- الصورة التي تحتوي على منشور مستطيل هي



4- شكل ثنائي الأبعاد له 4 أضلاع متساوية و 4 زوايا .



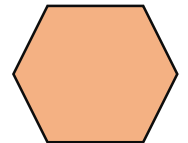
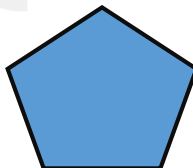
5- شبه المنحرف هو شكل ثنائي الأبعاد له 3 أضلاع و 3 رؤوس

خطاً

صواب



6- حوط الشكل خماسي أضلاع



المعلمة خولة الدهماني

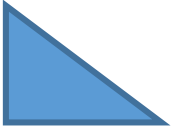
7- رسم أحمد 3 مربعات ورسم علي مثلث ومربعين ومستطيل , فمن رسم زوايا أكثر ؟ المعلمة خولة الدهماني

أحمد علي

8- شكل ثنائي الأبعاد لا أضلاع له ولا رؤوس له ما هو الشكل

المثلث متوازي الأضلاع الدائرة

9- حوط الشكل متوازي أضلاع



10- شكل ثلاثي الأبعاد له وجه واحد دائري و رأس واحد .



10- شكل علم دولة الإمارات العربية المتحدة هو .



خماس أضلاع

مستطيل

مربع

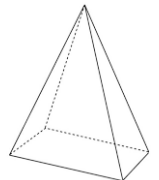
11- بكم يزيد عدد زوايا خماسي الأضلاع عن المثلث ؟؟؟

ثلاثة

أثنان

واحد

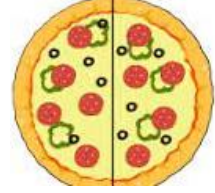
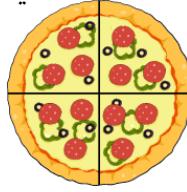

12- شكل ثلاثي الأبعاد له 4 وجوه مثلثة و قاعدة مربعة




المعلمة خولة الدهماني

13- البيتزا المقطعة الى أرباع هي .

المعلمة خولة الدهماني



14- ماهي مساحة المستطيل ؟



13

21

12

15- كم عدد الأوجه لهذا الشكل ؟

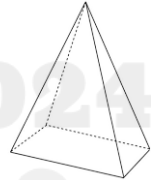


1 أوجه

0 أوجه

2 أوجه

16- أنا شكل ثلاثي الأبعاد لدي 2 أوجه و 0 رؤوس و 0 حواف فمن أنا ؟؟



17- اذا ركبنا مكعبين معا فما الشكل ثلاثي الأبعاد الذي ستكونه؟

مستطيل

منشور مستطيل

مكعب

18- ارسم الأجزاء المتساوية



أرباع



أنصاف



أنصاف