

تم تحميل هذا الملف من موقع المناهج الإماراتية



تجميع أسئلة وفق الهيكل الوزاري نموذج C

موقع المناهج ← المناهج الإماراتية ← الصف الثاني عشر المتقدم ← كيمياء ← الفصل الأول ← ملفات متنوعة ← الملف

تاريخ إضافة الملف على موقع المناهج: 19:53:14 2024-11-29

ملفات اكتب للمعلم اكتب للطالب | اختبارات الكترونية | اختبارات | حلول | عروض بوربوينت | أوراق عمل
منهج انجليزي | ملخصات وتقارير | مذكرات وبنوك | الامتحان النهائي للمدرس

المزيد من مادة
كيمياء:

التواصل الاجتماعي بحسب الصف الثاني عشر المتقدم



صفحة المناهج
الإماراتية على
فيسبوك

الرياضيات

اللغة الانجليزية

اللغة العربية

التربية الاسلامية

المواد على تلغرام

المزيد من الملفات بحسب الصف الثاني عشر المتقدم والمادة كيمياء في الفصل الأول

حل تجميع أسئلة وفق الهيكل الوزاري نموذج B

1

تجميع أسئلة وفق الهيكل الوزاري نموذج B

2

حل تجميع أسئلة وفق الهيكل الوزاري نموذج A

3

تجميع أسئلة وفق الهيكل الوزاري نموذج A

4

ملزمة شرح الوحدة الأولى الطاقة والتغيرات الكيميائية

5

(نموذج C هيكل ثاني عشر متقدم)

الفصل الدراسي الاول 2024-2025

الكيمياء الحرارية	الكيمياء الحركية	الاتزان الكيميائي
9 اسئلة	6 اسئلة	5 اسئلة

1

يحل المسائل التي تتضمن تغيرات في درجات الحرارة وتغيرات في الحالة مستخدماً المعادلات (e.g. $Q=mc\Delta T$)

Two pieces of aluminum and iron were left to sit in the Sun at the same time and for the same length of time. What is the mass of the piece of iron (g) whose temperature increases by the same amount as the piece of aluminum?

ثُرِكت قطعتان من الألمنيوم والحديد في الشمس في نفس الوقت ولنفس المدة الزمنية، ما كتلة قطعة الحديد (g) التي تزداد درجة حرارتها بنفس مقدار زيادة درجة حرارة قطعة الألمنيوم؟

الحديد Iron	الألمنيوم Aluminium	المادة Substance
.....	47.0 g	الكتلة Mass
0.449	0.897	الحرارة النوعية Specific Heat J/(g. °C)
30.0° C	30.0° C	ΔT

45.6	<input type="radio"/>	A
53.5	<input type="radio"/>	B
93.9	<input type="radio"/>	C
35.5	<input type="radio"/>	D

يصف العلاقة بين الحرارة النوعية لمادة ما ومقاومة التغير في درجة الحرارة

Equal masses of metals given in the following table were left to sit in the Sun at the same time and for the same length of time

تم ترك كتل متساوية من الفلزات الواردة في الجدول التالي في الشمس في نفس التوقيت ونفس المدة الزمنية

الفلز	الجالسيوم(s)	الحديد (s)	النحاس(s)	الفضة (s)
الحرارة النوعية $J/(g \cdot ^\circ C)$	0.900	0.449	0.385	0.240

Which metal is the highest increasing in the temperature?

أي الفلزات له أعلى زيادة في درجة الحرارة؟

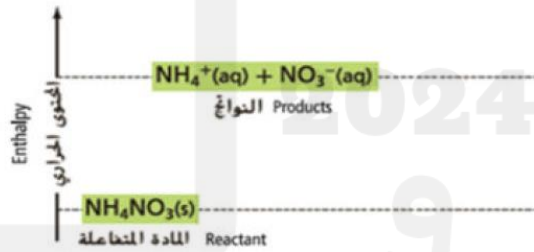
- Aluminium الجالسيوم(s) **A**
- Gold الحديد (s) **B**
- Iron النحاس(s) **C**
- Silver الفضة (s) **D**

3

يقارن ويقابل مخططات طاقة الوضع للتفاعلات الطاردة للحرارة والماصة للحرارة من حيث الشكل العام، المحتوى الحراري للمواد المتفاعلة وللمواد الناتجة، طاقة التنشيط للتفاعلات الأمامية والعكسية، المحتوى الحراري العام للتفاعل وإشارته

Which of the following is correct regarding the diagram and figures (1) and (2) below?

أي مما يأتي صحيح فيما يتعلق بالرسم البياني والشكلين (1) و (2) أدناه؟



The graph shows that the reaction is exothermic and is used to warm cold hands in figure (1)

يُوضح الرسم البياني أن التفاعل طارد للحرارة ويُستخدم لتدفئة اليدين الباردتين في الشكل (1)

A

The graph shows that the reaction is endothermic and used to warm cold hands in figure (1)

يُوضح الرسم البياني أن التفاعل ماص للحرارة ويُستخدم لتدفئة اليدين الباردتين في الشكل (1)

B

The graph shows that the reaction is endothermic and used to cool the leg of a person in figure (2)

يُوضح الرسم البياني أن التفاعل ماص للحرارة ويُستخدم لتبريد ساق الشخص في الشكل (2)

C

The graph shows that the reaction is exothermic and is used to cool the leg of a person in figure (2)

يُوضح الرسم البياني أن التفاعل طارد للحرارة ويُستخدم لتبريد ساق الشخص في الشكل (2)

D

يكتب معادلة كيميائية حرارية لتغيرات حالات المادة (التبخّر والإصهار، والتكثيف، والتجمّد)

Which of the following processes are endothermic?

أي العمليات التالية ماصة للحرارة؟

$C_2H_5OH(l) \rightarrow C_2H_5OH(g)$	1
$NH_3(g) \rightarrow NH_3(l)$	2
$NaCl(s) \rightarrow NaCl(l)$	3
$C_5H_{12}(l) + 8O_2(g) \rightarrow 5CO_2(g) + 6H_2O(l)$	4

- 1 and 2 2و1 **A**
- 2 and 3 3و2 **B**
- 1 and 3 3و1 **C**
- 2 and 4 4و2 **D**

يجري عمليات حسابية موزّعة المحتوى الحراري للاحتراق

What mass of methane CH_4 (by grams) must be burned

ما كتلة الميثان CH_4 (بالجرامات) التي يجب حرقها لإنتاج

in order to liberate 3564 kJ of heat?

3564 kJ من الحرارة؟

(Molar mass of $CH_4 = 16$ g/mol)

(الكتلة المولية لـ $CH_4 = 16$ g/mol)

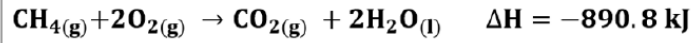
Substance المادة	Chemical formula الصيغة الكيميائية	ΔH_{comb}° (kJ/mol)
Methane الميثان	$CH_4(g)$	-891

- 4 g **A**
- 60 g **B**
- 64 g **C**
- 46 g **D**

موظفًا، قانون هس، يحسب ΔH المحتوى الحراري للتفاعل

Using Hess's law and the changes in enthalpy for the following reactions:

مُستخدماً قانون هس والتغيرات في المحتوى الحراري للتفاعلات التالية :



What is ΔH_f° for the following reaction?

ما قيمة ΔH_f° للتفاعل التالي؟



-74.3 kJ/mol A

-212.3 kJ /mol B

-181.2 kJ/mol C

-233.4 kJ/mol D

يحدّد حرارة التكوين القياسية للعناصر وحالتها القياسية

Which of the enthalpy changes in the following reactions represents a standard heat of formation (ΔH_f°) ?

أي من التغيرات في المحتوى الحراري في التفاعلات التالية يُمثّل حرارة تكوين قياسية (ΔH_f°) ؟

$2\text{Fe}_2\text{O}_3(s) \longrightarrow 4\text{Fe}_{(s)} + 3\text{O}_{2(g)} , \Delta H = 1625 \text{ kJ}$	A
$\text{CO}_{(g)} + \frac{1}{2} \text{O}_{2(g)} \longrightarrow \text{CO}_{2(g)} , \Delta H = -283 \text{ kJ}$	B
$2\text{S}_{(s)} + 3\text{O}_{2(g)} \longrightarrow 2\text{SO}_3(g) , \Delta H = -792 \text{ kJ}$	C
$\frac{1}{2} \text{N}_2(g) + \text{O}_2(g) \longrightarrow \text{NO}_2(g) , \Delta H = +33.2 \text{ kJ}$	D

يَتَنَبَّأ التغيّر في إنتروبي النظام ΔS ، (بالإستناد الى مجموعة من القواعد)

In which of the following processes a decrease in entropy of the system occurs?

في أي العمليات التالية يحدث نقصان في إنتروبي النظام؟

- A $H_2O(l) \rightarrow H_2O(g)$
- B $H_2O(s) \rightarrow H_2O(l)$
- C $H_2O(s) \rightarrow H_2O(g)$
- D $H_2O(g) \rightarrow H_2O(l)$

يحسب تغيّر الطاقة الحرة ، G ، عندما يتم إعطاء ΔS ، ΔH ، ودرجة الحرارة (في Kelvin أو Celsius) محدّدًا ما إذا كان التفاعل تلقائيًا أم غير تلقائي

For a process ,if you are given the information below.

في عملية ما، إذا أعطيت المعلومات أدناه.

$$\Delta H = -27.6 \text{ kJ} , \Delta S = -55.2 \text{ J/K} , T = 535 \text{ K}$$

Which of the data in the following table is correct?

أي من البيانات الواردة في الجدول التالي صحيحة؟

ΔG العملية Process	تلقائية العملية Process spontaneity	
+1.93 kJ	nonspontaneous غير تلقائية	A <input type="radio"/>
-1.93 kJ	spontaneous تلقائية	B <input type="radio"/>
+75.1 kJ	nonspontaneous غير تلقائية	C <input type="radio"/>
- 75.1 kJ	spontaneous تلقائية	D <input type="radio"/>

يحسب متوسط سرعة التفاعل باستخدام معدل استهلاك المواد المتفاعلة أو معدل تشكّل النواتج

In the gas – phase reaction $I_2 + Cl_2 \longrightarrow 2ICl$

$[I_2]$ changes from 0.400 M at 0.00 s

to 0.300 M at 4.00 s.

What is the average reaction rate over

the given time period expressed in mol/L.s?

$I_2 + Cl_2 \longrightarrow 2ICl$

في التفاعل الغازي

يتغير تركيز اليود I_2 من 0.400 M عند 0.00 s

إلى 0.300 M في 4.00 s .

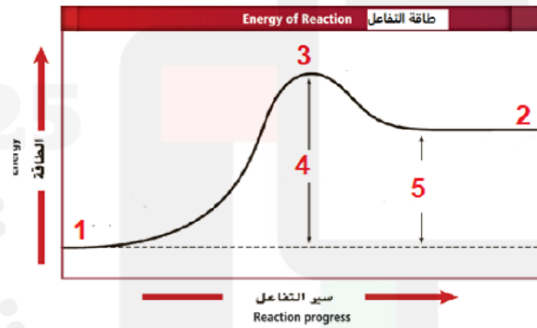
ما متوسط سرعة التفاعل خلال الفترة الزمنية المعطاة بوحدة mol/L.s؟

- 0.0250 **A**
- 0.0350 **B**
- 0.870 **C**
- 0.690 **D**

يفسّر التفاعلات التفاعلات الطاردة للحرارة والتفاعلات الماصة للحرارة موظفًا نظرية التصادم

Regarding the figure below, which of the following is correct?

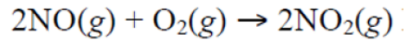
فيما يتعلق بالشكل أدناه ، أي مما يلي صحيح ؟



- 1 indicates products while 2 indicates reactants يدل الرقم 1 على النواتج بينما يدل الرقم 2 على المواد المتفاعلة **A**
- 4 indicates activation energy while 5 indicates energy absorbed by reaction يدل الرقم 4 على طاقة التنشيط بينما يدل الرقم 5 على الطاقة التي يمتصها التفاعل **B**
- 4 indicates activation energy while 5 indicates energy released by reaction يدل الرقم 4 على طاقة التنشيط بينما يدل الرقم 5 على الطاقة الناتجة عن التفاعل **C**
- 1 indicates activated complex while 2 indicates reactants يدل الرقم 1 على المعقد المنشط بينما يدل الرقم 2 على المواد المتفاعلة **D**

يصف العلاقة بين تراكيز المتفاعلات ومعدل سرعة التفاعل

التفاعل الكيميائي:



$$\text{Rate} = k[\text{NO}]^2[\text{O}_2]$$

له قانون السرعة التالي

إذا تضاعف تركيز NO ثلاث مرات ، ماذا سيحدث لسرعة التفاعل

- A تتضاعف سرعة التفاعل 6 مرات
- B تتضاعف سرعة التفاعل 8 مرات
- C تتضاعف سرعة التفاعل 9 مرات
- D تتضاعف سرعة التفاعل 27 مره

يوظف طريقة السرعات الابتدائية لتحديد رتبة التفاعل فيما يتعلق بكل متفاعل

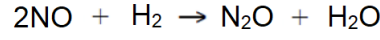
Using the experimental data in the following table, ما قانون السرعة للتفاعل؟
what is the rate law for the reaction?

aA + bB → products			
السرعة الابتدائية Initial Rate (mol/(L.s))	التركيز الابتدائي Initial concentration [B] (M)	التركيز الابتدائي Initial concentration [A] (M)	التجربة Trial
3.00×10^{-3}	0.273	0.273	1
6.00×10^{-3}	0.273	0.546	2
6.00×10^{-3}	0.546	0.273	3

- A Rate = k[A]
- B Rate = k[A][B]
- C Rate = k[A]²[B]
- D Rate = k[B]

يحسب السرعة اللحظية لتفاعل ما من خلال البيانات التجريبية

التفاعل الكيميائي :



له قانون السرعة التالي

$$\text{Rate} = k [\text{NO}]^2 [\text{H}_2]$$

و ثابت السرعة النوعية

$$k = 2.9 \times 10^2 \text{ L}^2 \text{ mol}^{-2} \text{ s}^{-1}$$

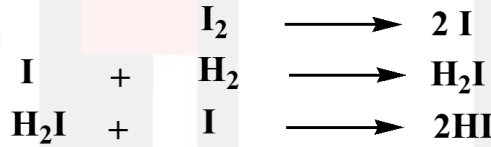
احسب سرعة التفاعل اللحظية عند تركيز المتفاعلات التالي:

$$[\text{NO}] = 0.002 \text{ M} \quad \text{و} \quad [\text{H}_2] = 0.004 \text{ M}$$

- A $2.24 \times 10^{-6} \text{ mol L}^{-1}\text{s}^{-1}$
- B $6.46 \times 10^{-6} \text{ mol L}^{-1}\text{s}^{-1}$
- C $4.64 \times 10^{-6} \text{ mol L}^{-1}\text{s}^{-1}$
- D $8.54 \times 10^{-6} \text{ mol L}^{-1}\text{s}^{-1}$

يحدّد، باستخدام آلية تفاعل معيّنة: الخطوة المحددة لسرعة التفاعل (الخطوة الأبطأ)، المادة الوسيط، والمعقد المنشط، التفاعل المعقد

إذا علمت ان احد التفاعلات يتم في الخطوات الثلاث التالية



ما المركبات الوسيطة

- A I_2 و H_2I
- B I و H_2I
- C I و H_2
- D I_2 و HI

16

يكتب تعبير ثابت الإتزان الكيميائي لنظام اتزان متجانس ونظام غير متجانس (Keq)

What is the equilibrium constant expression for the following reaction?

ما تعبير ثابت الاتزان للفاعل التالي؟



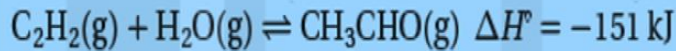
- A $\frac{[C][H_2O]}{[CO][H_2]}$
- B $\frac{[CO][H_2]}{[H_2O]}$
- C $\frac{[CO][H_2]}{[C][H_2O]}$
- D $\frac{[H_2O]}{[CO][H_2]}$

17

يشرح أثر التغيّر في (التراكيز، درجة الحرارة، الحجم والضغط، والعامل الحفاز) على نظام الاتزان الكيميائي

Which of the following increases CH_3CHO production in the following equilibrium reaction?

أي مما يلي يؤدي إلى زيادة إنتاج CH_3CHO في تفاعل الاتزان التالية؟



Decreasing temperature	خفض درجة الحرارة	1
Adding a lot of water	إضافة المزيد من الماء	2
Adding a catalyst	إضافة عامل حفاز	3
Adding a desiccant	إضافة عامل مجفف	4

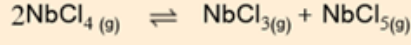
- A 1 و 4
- B 1 و 2
- C 3 و 4
- D 4 و 5

18

يحسب تراكيز المتفاعلات و/أو النواتج بالإستناد الى قيمة ثابت الإتزان و تراكيز المتفاعلات و/أو النواتج المعطاة عند الإتزان

The reaction below reaches equilibrium at a certain temperature

يصل التفاعل أدناه إلى حالة الاتزان عند درجة حرارة معينة،



, $K_{eq} = 6.90 \times 10^{-4}$, If the equilibrium concentrations are:

و $K_{eq} = 6.90 \times 10^{-4}$ ، إذا كانت تراكيز الاتزان هي:

$$\text{NbCl}_3 = 0.450 \text{ mol/L}, \quad \text{NbCl}_5 = 0.0380 \text{ mol/L}$$

What is the equilibrium concentration of NbCl_4 ?

فما تركيز الاتزان لـ NbCl_4 ؟

- A 5.65 mol/L
- B 1.69 mol/L
- C 4.98 mol/L
- D 2.75 mol/L

19

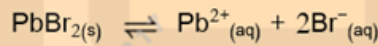
يحسب الإذابة (بالإعتماد على التراكيز) لمركب أيوني قليل الذوبان موظفًا ثابت حاصل الإذابة K_{sp}

What is the solubility in mol/L of lead bromide PbBr_2 at 298 K?

ما ذائبية بروميد الرصاص PbBr_2 عند 298 K (بوحدة mol/L)؟

if $K_{sp} = 6.6 \times 10^{-6}$

إذا كان $K_{sp} = 6.6 \times 10^{-6}$



- A 0.018
- B 0.024
- C 0.030
- D 0.012

يحدّد امكانية تشكّل الراسب أم لا (عن طريق الحساب وتوظيف العلاقة بين K_{sp} و Q_{sp}

If an equal volumes of the solutions 0.0322 M CaCl_2 and 0.0145 M NaOH are mixed, a precipitate of Ca(OH)_2 is predicted. Which of the following is true?

Solubility Product Constants at 298 K for the compound Ca(OH)_2 ($K_{sp} = 5.0 \times 10^{-6}$)

إذا تم خلط حجوم متساوية من محلول CaCl_2 تركيزه 0.0322 M ومحلول NaOH تركيزه 0.0145 M يُتوقع أن يتكون راسب من Ca(OH)_2 . أي مما يأتي صحيح؟

ثابت حاصل الإذابة عند 298 K للمركب Ca(OH)_2 هو ($K_{sp} = 5.0 \times 10^{-6}$)

$Q_{sp} = 2.5 \times 10^{-4}$ and a precipitate will not form

$Q_{sp} = 2.5 \times 10^{-4}$ ولا يتكون راسب

A

$Q_{sp} = 2.6 \times 10^{-5}$ and a precipitate will form

$Q_{sp} = 2.6 \times 10^{-5}$ ويتكون راسب

B

$Q_{sp} = 4.9 \times 10^{-10}$ and a precipitate will form

$Q_{sp} = 4.9 \times 10^{-10}$ ويتكون راسب

C

$Q_{sp} = 8.5 \times 10^{-7}$ and a precipitate will not form

$Q_{sp} = 8.5 \times 10^{-7}$ ولا يتكون راسب

D

مع تمنياتي للجميع بالنجاح والتوفيق د/أكرم البحيري