

تم تحميل هذا الملف من موقع المناهج الإماراتية



نموذج ثاني اختبار تجريبي وفق الهيكل الوزاري

موقع المناهج ← المناهج الإماراتية ← الصف الثاني عشر المتقدم ← رياضيات ← الفصل الأول ← اختبارات ← الملف

تاريخ إضافة الملف على موقع المناهج: 2024-11-25 16:53:48

ملفات اكتب للمعلم اكتب للطالب | اختبارات الكترونية | اختبارات | حلول | عروض بوربوينت | أوراق عمل
منهج انجليزي | ملخصات وتقارير | مذكرات وبنوك | الامتحان النهائي للمدرس

المزيد من مادة
رياضيات:

التواصل الاجتماعي بحسب الصف الثاني عشر المتقدم



صفحة المناهج
الإماراتية على
فيسبوك

الرياضيات

اللغة الانجليزية

اللغة العربية

التربية الاسلامية

المواد على تلغرام

المزيد من الملفات بحسب الصف الثاني عشر المتقدم والمادة رياضيات في الفصل الأول

نموذج أول اختبار تجريبي وفق الهيكل الوزاري

1

حل أسئلة الامتحان النهائي القسم الورقي العام 2023-2024

2

حل تجميعية أسئلة وفق الهيكل الوزاري منهج بريدج المسار العام

3

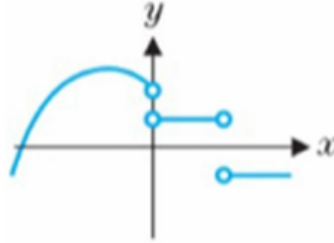
حل تجميعية أسئلة وفق الهيكل الوزاري منهج ريفيل المسار النخبة

4

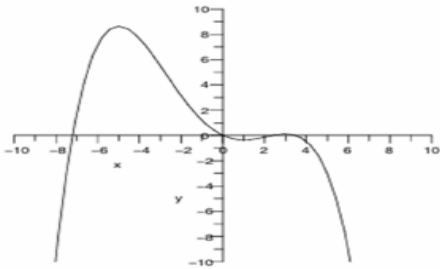
حل تجميعية أسئلة مراجعة وفق الهيكل الوزاري الالكتروني والورقي

5

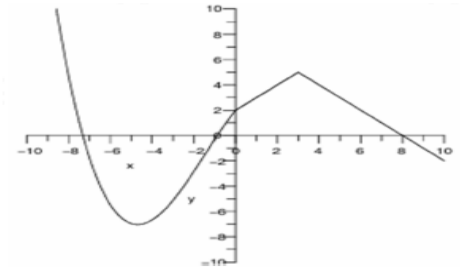
Q5 Use the graph of $y = f'(x)$ to sketch a graph of $y = f(x)$ استخدم التمثيل البياني لـ $y = f'(x)$ لرسم التمثيل البياني $y = f(x)$



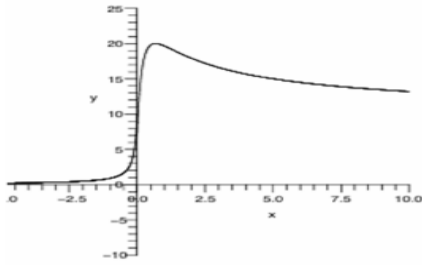
a)



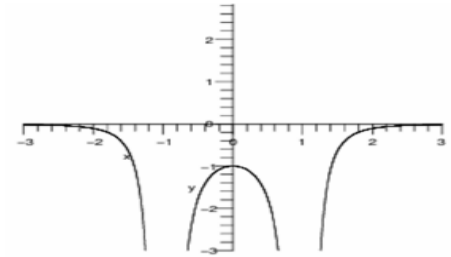
b)



c)



d)



Q7

For $f(x) = \begin{cases} x^2 + 2x, & x < 0 \\ ax + b, & x \geq 0 \end{cases}$

$f(x) = \begin{cases} x^2 + 2x, & x < 0 \\ ax + b, & x \geq 0 \end{cases}$

Find all real numbers a and b such that $f'(0)$ exists.

أوجد جميع الأعداد الحقيقية a و b بحيث تكون $f'(0)$ موجودة.

a) $a = -2, b = 0$

b) $a = 0, b = -2$

c) $a = 0, b = 2$

d) $a = 2, b = 0$

Q8

استخدم دالة الموقع لإيجاد دالتي السرعة المتجهة والتسارع
Use the given position functions to find the velocity and acceleration functions.

$$s(t) = \sqrt{t} + 2t^2$$

a) velocity = $v(t) = \frac{1}{2}t^{\frac{1}{2}} + 4t$, acceleration = $a(t) = \frac{1}{4}t^{-\frac{1}{2}} + 4$

b) velocity = $v(t) = -\frac{1}{2}t^{-\frac{1}{2}} + 4t$, acceleration = $a(t) = \frac{1}{4}t^{-\frac{3}{2}} + 4$

c) velocity = $v(t) = \frac{1}{2}t^{\frac{-1}{2}} + 2t$, acceleration = $a(t) = -\frac{1}{4}t^{-\frac{3}{2}} + 2$

d) velocity = $v(t) = \frac{1}{2}t^{\frac{-1}{2}} + 4t$, acceleration = $a(t) = -\frac{1}{4}t^{-\frac{3}{2}} + 4$

Q9

على فرض أن الدالة $h(x) = [1 + f(x)]^2$ Given that the function $h(x) = [1 + f(x)]^2$

اوجد $h'(x)$ Find $h'(x)$

a) $h'(x) = 2[f(x)]f'(x)$

b) $h'(x) = 2[1 + f(x)]f'(x)$

c) $h'(x) = 2[1 + f(x)][1 + f'(x)]$

d) $h'(x) = 2[1 + f'(x)]$

Q10

Given that the function.

$f(x) = \sqrt{x^3 + 2x + 4}$ has an inverse function g , compute $g'(2)$.

على فرض أن الدالة $f(x) = \sqrt{x^3 + 2x + 4}$

لها دالة عكسية g . احسب $g'(2)$

a) $g'(2) = \frac{1}{2}$

b) $g'(2) = -\frac{1}{2}$

c) $g'(2) = 2$

d) $g'(2) = 0$

Q11

Find the derivative of

$$f(x) = \sec(\tan^2 x)$$

أوجد مشتقة

- a) $f'(x) = (\sec(\tan^2 x) \tan(\tan^2 x))(2 \tan x)$
 b) $f'(x) = (\sec(\tan^2 x) \tan(\tan x))(2 \tan x \sec^2 x)$
 c) $f'(x) = (\sec(\tan x) \tan(\tan^2 x))(2 \tan x \sec^2 x)$
 d) $f'(x) = (\sec(\tan^2 x) \tan(\tan^2 x))(2 \tan x \sec^2 x)$

Q12

Find the derivative of

$$f(x) = x4^{3x}$$

أوجد مشتقة

- a) $f'(x) = 4^{3x}(1 + 3x)$
 b) $f'(x) = 4^{3x}(1 + x \ln 4)$
 c) $f'(x) = 4^{3x}(1 + 3x \ln 4)$
 d) $f'(x) = 4^{3x}(x + 3x \ln 4)$

Q12

Find the derivative

$$f(x) = \cos^{-1}(x^2 + x)$$

أوجد مشتقة

- a) $f'(x) = \frac{(2x+1)}{\sqrt{1-(x^2+x)^2}}$
 b) $f'(x) = \frac{-(2x+1)}{\sqrt{1-(x^2+x)^2}}$
 c) $f'(x) = -(2x+1) \sin^{-1}(x^2+x)$
 d) $f'(x) = \frac{-(2x+1)}{\sqrt{1-(x^2+x)^2}}$

Q13

Find the linear approximation to

أوجد التقريب الخطي للدالة

$$f(x) = \sin 3x, x_0 = 0$$

$$f(x) = \sin 3x, x_0 = 0$$

and use it to approximate 0.3 .

واستخدمه لتقريب 0.3

- a) $L(x) = 3x, f(0.1) \approx L(0.1) = 0.3$
 b) $L(x) = -3x, f(0.1) \approx L(0.1) = 0.3$
 c) $L(x) = x, f(0.1) \approx L(0.1) = 0.3$
 d) $L(x) = x + 3, f(0.1) \approx L(0.1) = 0.3$

Q15

Evaluate

$$\lim_{x \rightarrow 0} \frac{\sin x}{\sin^{-1} x}$$

أوجد قيمة

- a) 1
 b) -1
 c) 0
 d) $\frac{1}{2}$

Q16 a

Determine values of a and b that make the given function continuous.

حدد قيم a و b التي تجعل الدالة المعطاة متصلة.

$$f(x) \begin{cases} a(\tan^{-1}x + 2) & \text{if } x < 0 \\ 2e^{bx} + 1 & \text{if } 0 \leq x \leq 3 \\ \ln(x - 2) + x^2 & \text{if } x > 3 \end{cases}$$

Q16 b

Suppose that the length of a small animal t days after birth is $h(t) = \frac{100}{2+3(0.4)^t}$ mm . What is the length of the animal at birth? What is the eventual length of the animal (i.e., the length $t \rightarrow \infty$)

لنفترض أن طول حيوان صغير بعد t أيام من الولادة هو $h(t) = \frac{100}{2+3(0.4)^t}$ mm . فما طول الحيوان عند الولادة ؟ وما الطول النهائي للحيوان (أي . الطول عندما $t \rightarrow \infty$)

Q17

Use Definition 1.1 to find an equation of the tangent line to $f(x) = \sqrt{x+3}$ at $x = -2$

استخدم التعريف 1.1 لإيجاد معادلة المماس للمنحنى $f(x) = \sqrt{x+3}$ عندما $x = -1$

Q18

Find the derivative $y'(x)$ implicitly

أوجد المشتقة $y'(x)$ ضمناً

$$e^{x^2y} - e^y = x$$

Q19

Check the hypotheses of Rolle's Theorem the Mean Value Theorem and find a value of c that makes the appropriate conclusion true.

تحقق من فرضيات نظرية رول و نظرية القيمة المتوسطة ثم أوجد قيمة c الذي يجعل الاستنتاج الخاص بالنظريتين صحيحاً. $f(x) = x^3 + x^2$ في الفترة $[-1, 1]$

$f(x) = x^3 + x^2$ on the interval $[-1, 1]$

Q20

Evaluate

$$\lim_{x \rightarrow \infty} \left(\frac{x-3}{x+2} \right)^x$$

أوجد قيمة

خالص الأمنيات لجميع الطلاب بالتوفيق والتفوق
SAYED ELHASHASH 0567205221