

أوراق عمل درس الإحداثيات القطبية



تم تحميل هذا الملف من موقع المناهج الإماراتية

موقع المناهج ← المناهج الإماراتية ← الصف الحادي عشر المتقدم ← رياضيات ← الفصل الثالث ← ملفات متنوعة ← الملف

تاريخ إضافة الملف على موقع المناهج: 07:56:00 2025-04-21

ملفات اكتب للمعلم اكتب للطالب ا اختبارات الكترونية ا اختبارات ا حلول ا عروض بوربوينت ا أوراق عمل
منهج انجليزي ا ملخصات وتقارير ا مذكرات وبنوك ا الامتحان النهائي للمدرس

المزيد من مادة
رياضيات:

التواصل الاجتماعي بحسب الصف الحادي عشر المتقدم



صفحة المناهج
الإماراتية على
فيسبوك

الرياضيات

اللغة الانجليزية

اللغة العربية

التربية الاسلامية

المواد على تلغرام

المزيد من الملفات بحسب الصف الحادي عشر المتقدم والمادة رياضيات في الفصل الثالث

حل أسئلة الامتحان النهائي القسم الالكتروني منهج ريفيل

1

أسئلة الامتحان النهائي القسم الورقي منهج بريدج

2

أسئلة الامتحان النهائي القسم الورقي منهج ريفيل

3

حل القسم الورقي من نموذج امتحاني وفق الهيكل الوزاري

4

حل القسم الالكتروني من نموذج امتحاني وفق الهيكل الوزاري

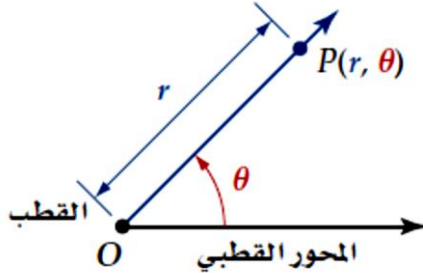
5

2 تمثيل المعادلات القطبية
بيانياً.

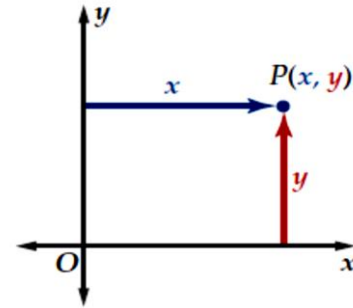
الإحداثيات القطبية

1 تمثيل النقاط بيانياً
بإستخدام الإحداثيات
القطبية.

نظام الإحداثيات القطبية



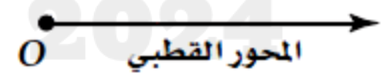
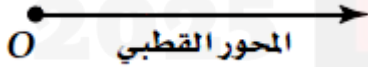
نظام الإحداثيات الديكارتية



مثل كل نقطة من النقاط الآتية في المستوى القطبي:

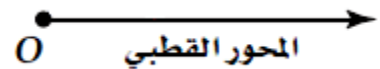
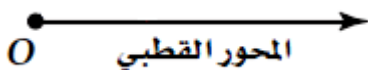
1 $A(2, 45^\circ)$

2 $B(-1.5, \frac{2\pi}{3})$



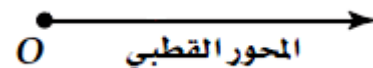
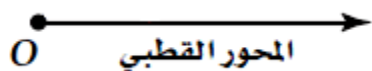
3 $C(3, -30^\circ)$

4 $D(-1, \frac{\pi}{2})$



5 $E(2.5, 240^\circ)$

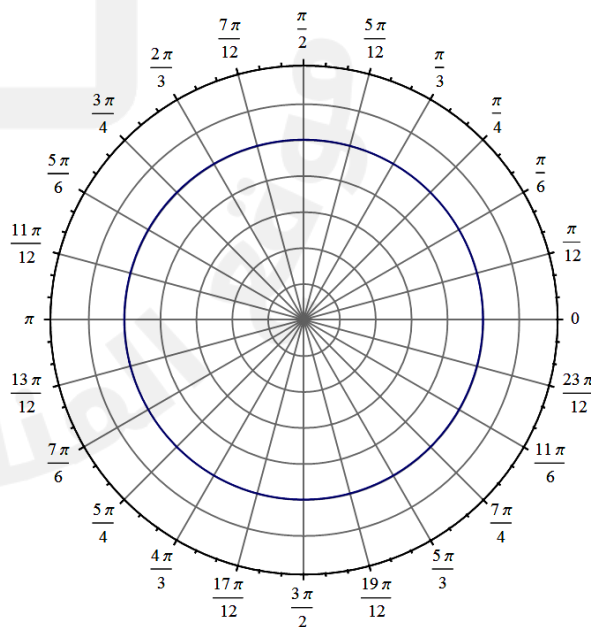
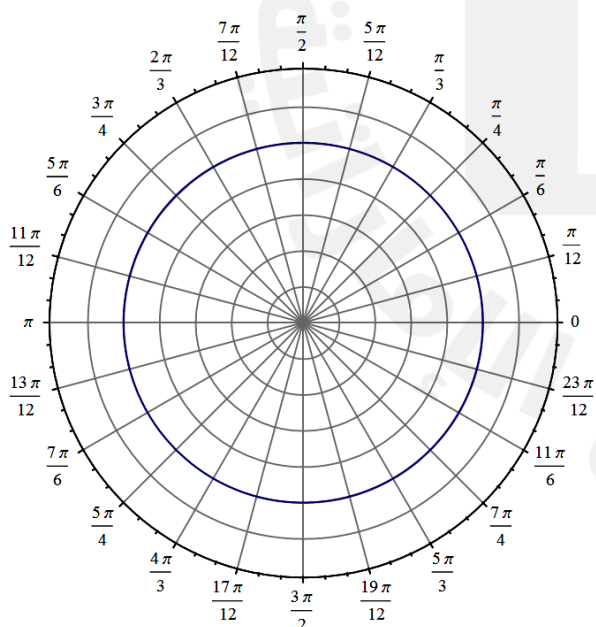
6 $F\left(4, -\frac{5\pi}{6}\right)$



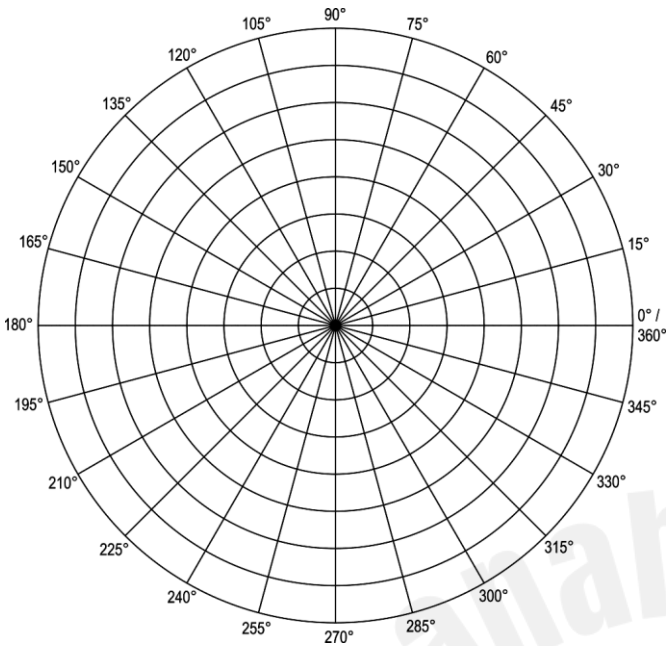
مثّل كلّاً من النقاط الآتية في المستوى القطبي:

7 $P\left(3, \frac{4\pi}{3}\right)$

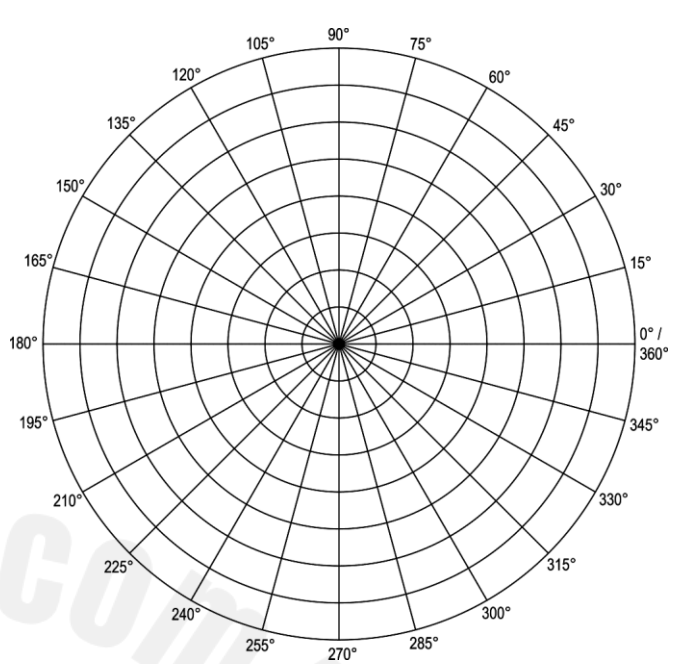
8 $R\left(1.5, -\frac{7\pi}{6}\right)$



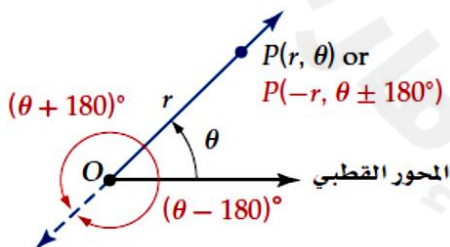
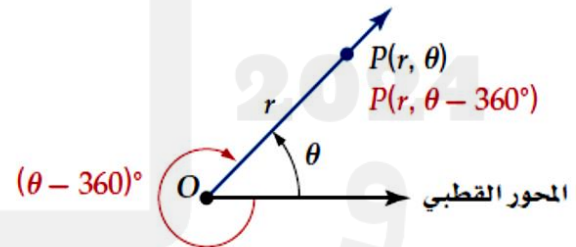
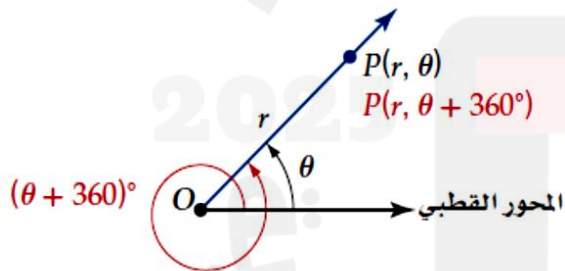
9

 $Q(-3.5, 150^\circ)$ 

10

 $S(-2, -135^\circ)$ 

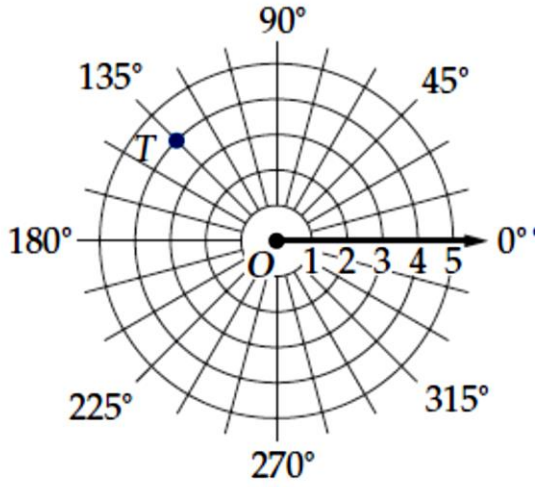
في نظام الإحداثيات الديكارتية كل نقطة يُعبّر عنها بزوج وحيد من الإحداثيات (x, y) . إلا أن هذا لا ينطبق على نظام الإحداثيات القطبية؛ وذلك لأن قياس كل زاوية يُكتب بعدد لانهائي من الطرائق؛ وعليه فإن للنقطة (r, θ) الإحداثيات $(r, \theta \pm 360^\circ)$ أو $(r, \theta \pm 2\pi)$ أيضًا كما هو مبين أدناه.



وكذلك لأن r مسافة متجهة، فإن (r, θ) و $(-r, \theta \pm 180^\circ)$ ، أو $(-r, \theta \pm \pi)$ تمثل النقطة نفسها، كما في الشكل المجاور.

وبصورة عامة، إذا كان n عددًا صحيحًا، فإنه يمكن تمثيل النقطة (r, θ) بالإحداثيات $(r, \theta + 360^\circ n)$ أو $(-r, \theta + (2n + 1)180^\circ)$. وبالمثل، إذا كانت θ مقيسة بالراديان، وكان n عددًا صحيحًا، فإنه يمكن تمثيل النقطة (r, θ) بالإحداثيات $(r, \theta + 2n\pi)$ أو $(-r, \theta + (2n + 1)\pi)$.

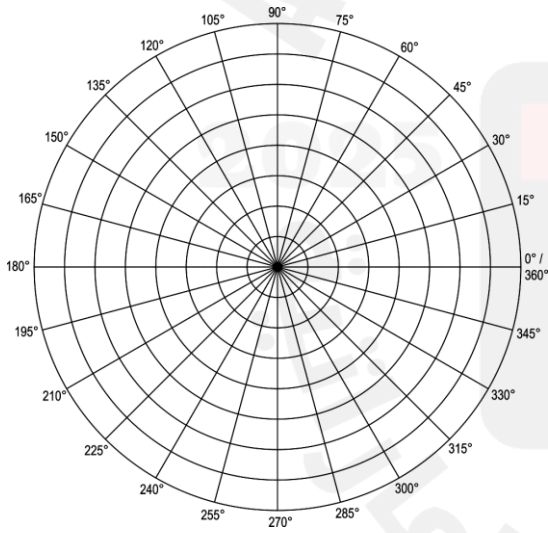
11 إذا كانت $-360^\circ \leq \theta \leq 360^\circ$ ، فأوجد أربعة أزواج مختلفة كل منها يمثل إحداثيين قطبيين للنقطة T في الشكل المجاور.



أوجد ثلاثة أزواج مختلفة كل منها يمثل إحداثيين قطبيين للنقطة المعطاة، علمًا بأن:
 $-360^\circ \leq \theta \leq 360^\circ$ ، أو $-2\pi \leq \theta \leq 2\pi$.

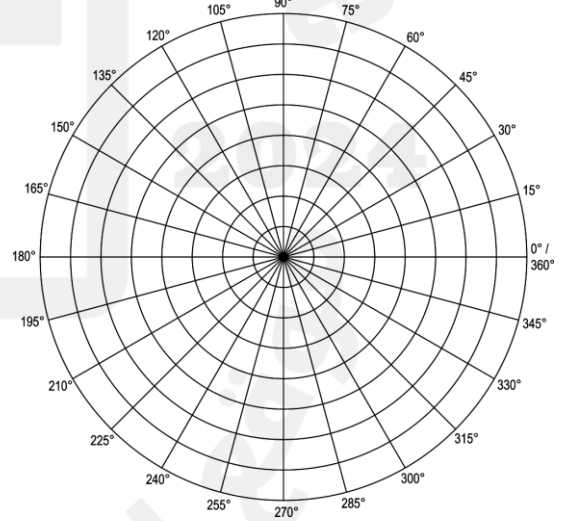
12

(5, 240°)



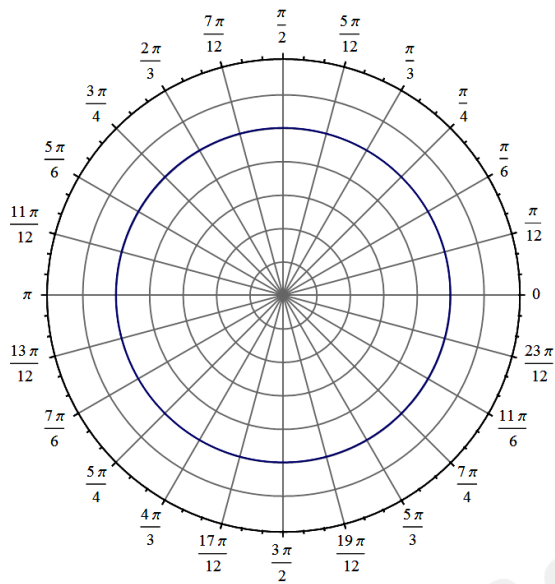
13

(-2, 300°)



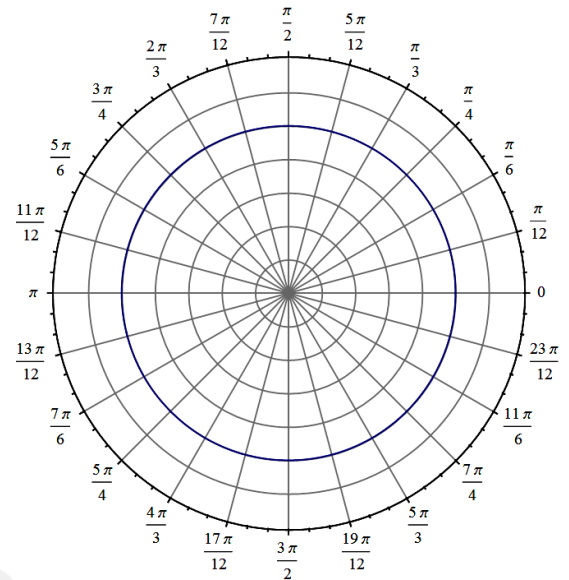
14

$$\left(-2, \frac{\pi}{6}\right)$$



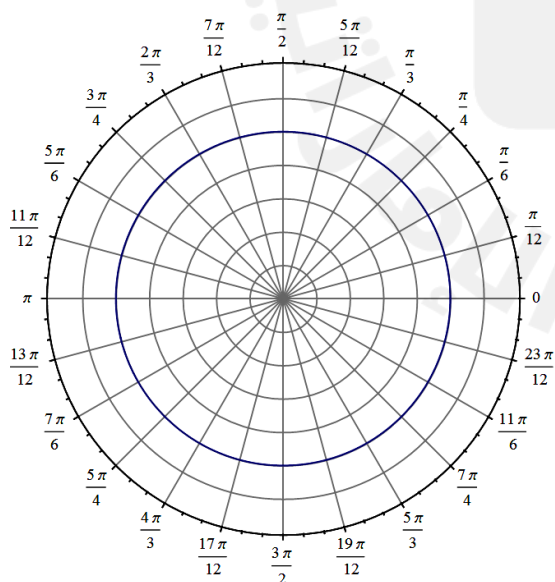
15

$$\left(-3, \frac{2\pi}{3}\right)$$



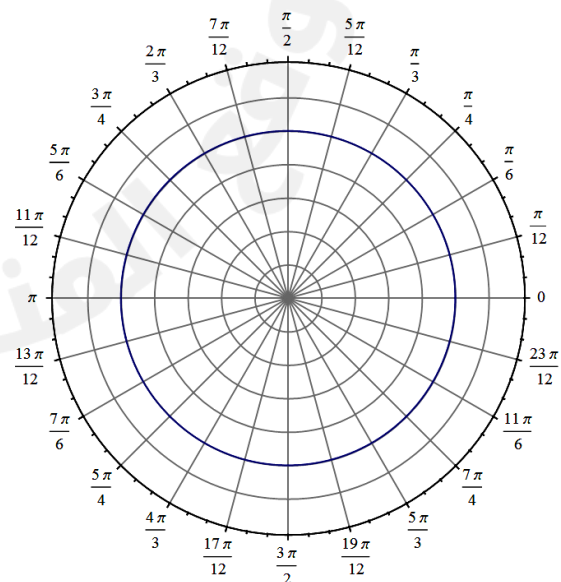
16

$$r = 2$$



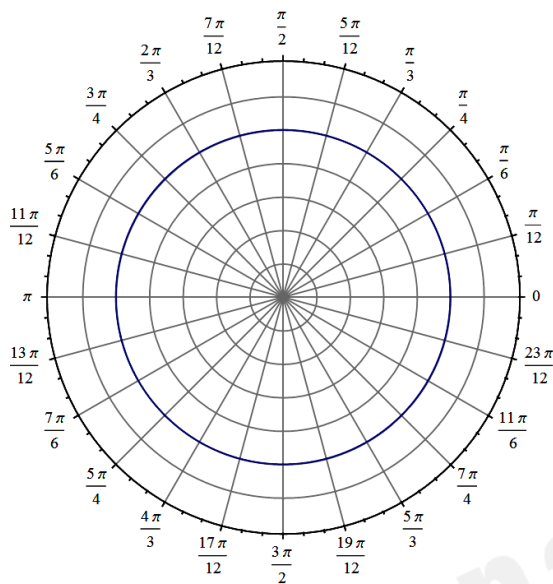
17

$$r = 3$$

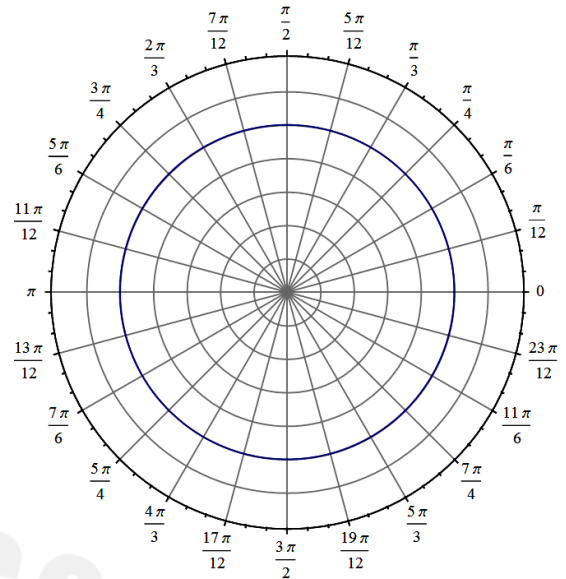


مثّل كل معادلة من المعادلات القطبية الآتية بيانياً:

$$18 \quad \theta = \frac{\pi}{6}$$



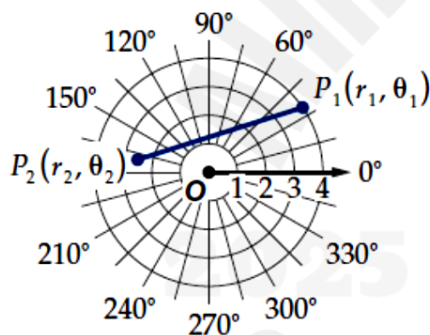
19 $\theta = \frac{2\pi}{3}$



مفهوم أساسي

المسافة بالصيغة القطبية

افترض أن $P_1(r_1, \theta_1), P_2(r_2, \theta_2)$ نقطتان في المستوى القطبي،
تُعطى المسافة P_1P_2 بالصيغة:

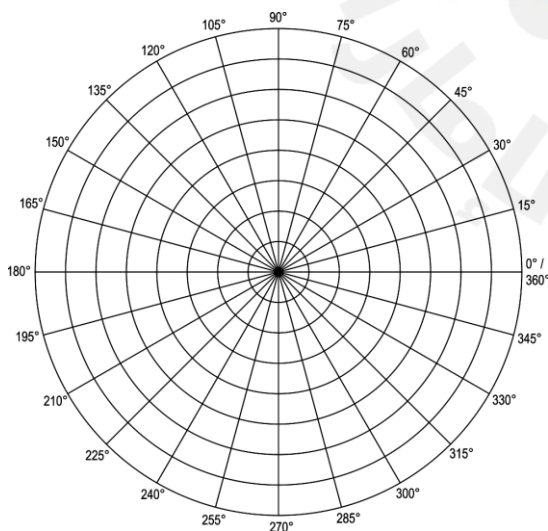


$$P_1 P_2 = \sqrt{r_1^2 + r_2^2 - 2r_1 r_2 \cos(\theta_2 - \theta_1)}$$

حركة جوية: يتابع مراقب الحركة الجوية طائرتين تطيران على الارتفاع نفسه، حيث إحداثيات موقعي الطائرتين هما $A(5, 310^\circ)$, $B(6, 345^\circ)$ ، وتقاس المسافة المتجهة بالأميال.

20

(a) مثل هذا الموقف في المستوى القطبي.

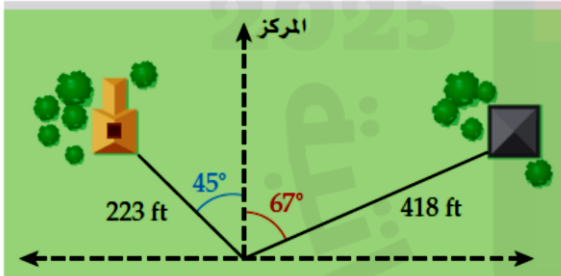
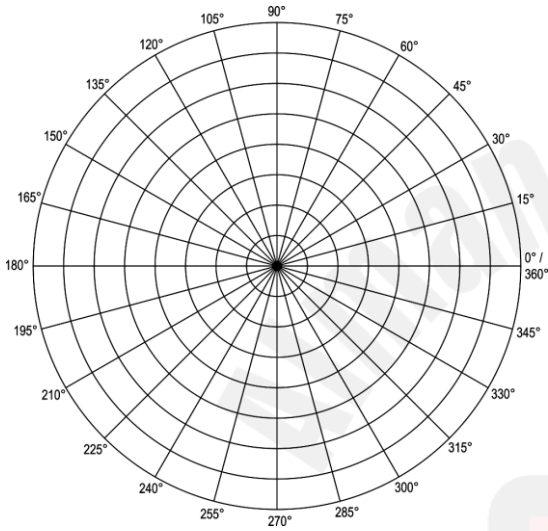


(b) إذا كانت تعليمات الطيران تتطلب أن تكون المسافة بين الطائرتين أكثر من 3 mi ، فهل تخالف هاتان الطائرتان هذه التعليمات؟ وضح إجابتك.

قوارب: يرصد رادار بحري حركة قاربين، إذا كانت إحداثيات موقعي القاربين $(8, 150^\circ)$ ، $(3, 65^\circ)$ ، حيث r بالأميال.

فمثل هذا الموقف في المستوى القطبي.

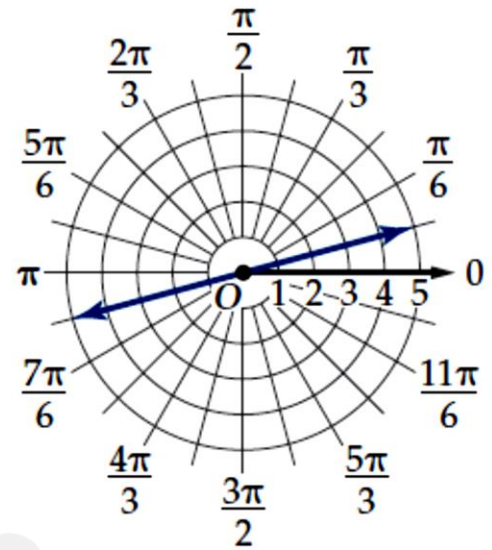
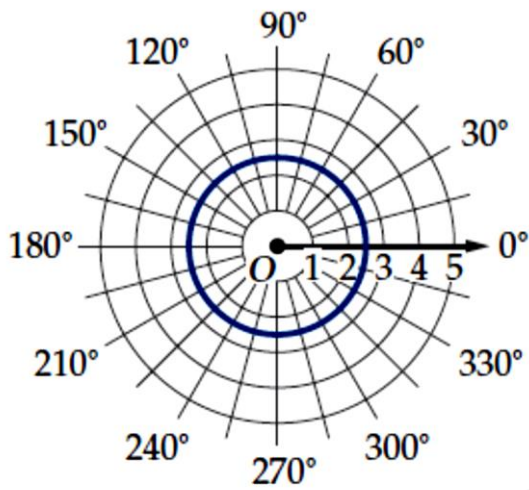
ما المسافة بين القاربين؟



22

مساحون: أراد مساح تحديد حدود قطعة أرض، فحدّد أثرًا يبعد 223 ft ، بزاوية 45° إلى يسار المركز ، وأثرًا آخر على بُعد 418 ft ، بزاوية 67° إلى يمين المركز، كما في الشكل أدناه، أوجد المسافة بين الأثرين.

23 اكتب المعادلة لكل تمثيل قطبي مما يأتي:



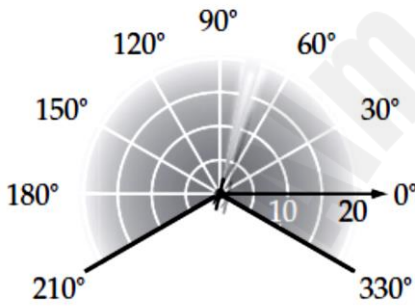
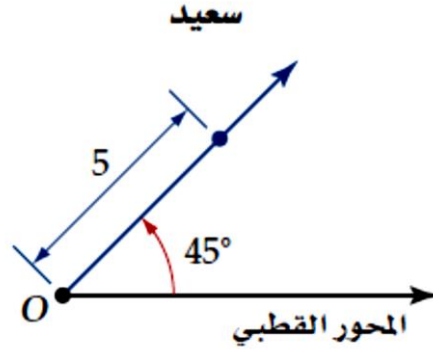
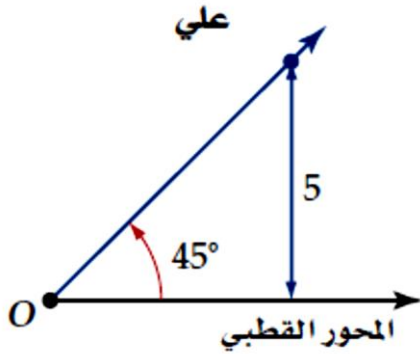
أوجد الإحداثي المجهول الذي يحقق الشروط المعطاة في كل مما يأتي:

$P_1 = (3, 35^\circ), P_2 = (r, 75^\circ), P_1P_2 = 4.174$ 24

$P_1 = (5, 125^\circ), P_2 = (2, \theta), P_1P_2 = 4, 0 \leq \theta \leq 180^\circ$ 25

اكتشف الخطأ: قام كل من سعيد وعلي بتمثيل النقطة $(5, 45^\circ)$ في المستوى القطبي كما هو مبين أدناه. أيهما كانت إجابته صحيحة؟ برّر إجابتك.

26



يستطيع رشاش ماء رش منطقة على شكل قطاع دائري يمكن تحديدها بالمتباينتين $-30^\circ \leq \theta \leq 210^\circ$, $0 \leq r \leq 20$ ، حيث r بالأقدام. ما المساحة التقريبية لهذه المنطقة؟

27

852 ft² C821 ft² A866 ft² D838 ft² B

أي المتجهات الآتية يمثل \overrightarrow{RS} ، حيث إن نقطة البداية $R(-5, 3)$ ، ونقطة النهاية $S(2, -7)$ ؟

28

 $\langle -7, 10 \rangle$ C $\langle 7, -10 \rangle$ A $\langle -3, -10 \rangle$ D $\langle -3, 10 \rangle$ B

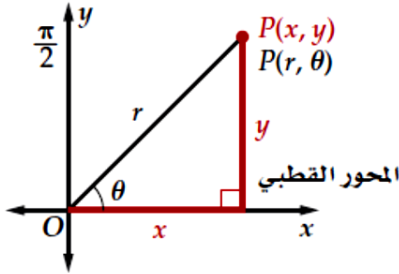
2 التحويل بين المعادلات القطبية والمتعامدة.

الصور القطبية والمتعامدة للمعادلات

1 التحويل بين الإحداثيات القطبية والإحداثيات المتعامدة.

تحويل الإحداثيات القطبية إلى الإحداثيات الديكارتية

مفهوم أساسي



إذا كان للنقطة P الإحداثيات القطبية (r, θ) ، فإن الإحداثيات الديكارتية (x, y) للنقطة P هي:

$$x = r \cos \theta, \quad y = r \sin \theta$$

أي أن $(x, y) = (r \cos \theta, r \sin \theta)$.

حوّل الإحداثيات القطبية إلى إحداثيات ديكارتية، لكل نقطة مما يأتي:

1 $P\left(4, \frac{\pi}{6}\right)$

2 $S\left(5, \frac{\pi}{3}\right)$

3 $Q(-2, 135^\circ)$

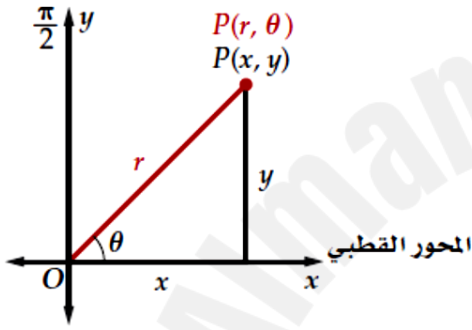
4 $V(3, -120^\circ)$

5 $T(-3, 45^\circ)$

6 $R(-6, -120^\circ)$

تحويل الإحداثيات الديكارتية إلى الإحداثيات القطبية

مفهوم أساسي



إذا كان للنقطة P الإحداثيات الديكارتية (x, y) ، فإن الإحداثيات القطبية للنقطة P هي (r, θ) حيث:

$$r = \sqrt{x^2 + y^2}, \quad \theta = \tan^{-1} \frac{y}{x} \text{ عندما } x > 0, \text{ وعندما } x < 0 \text{ فإن:}$$

$$\theta = \tan^{-1} \frac{y}{x} + \pi$$

$$\text{أو } \theta = \tan^{-1} \frac{y}{x} + 180^\circ$$

وعندما $x = 0$ فإن: $\theta = \frac{\pi}{2}$ إذا كانت $r = y$ ، $y > 0$

أو $\theta = -\frac{\pi}{2}$ إذا كانت $r = y$ ، $y < 0$

أوجد زوجين مختلفين كل منهما يمثل إحداثيين قطبيين لكل نقطة معطاة بالإحداثيات الديكارتية في كل مما يأتي:

7 $S(1, -\sqrt{3})$

8 $T(-3, 6)$

9

 $V(8, 10)$

10

 $W(-9, -4)$ 

لماذا؟

يبحث مِجَس مُثبت إلى رجل آلي أمواجًا فوق صوتية على شكل دوائر كاملة، وعندما تصطدم الأمواج بجسم، فإن المِجَس يستقبل إشارة، ويقوم بحساب بُعد الجسم عن مقدمة الرجل الآلي بدلالة المسافة المتجهة r ، والزاوية المتجهة θ . ويوصل المِجَس هذه الإحداثيات القطبية إلى الرجل الآلي الذي يحولها إلى الإحداثيات الديكارتية؛ ليتمكن من تعيينها على خريطة داخلية.

11 رجل آلي: بالرجوع إلى فقرة «لماذا؟»، افترض أن الرجل الآلي متجه إلى الشرق، وأن المِجَس قد رَصَدَ جسمًا عند النقطة $(5, 295^\circ)$.

(a) ما الإحداثيات الديكارتية التي يحتاج الرجل الآلي إلى حسابها؟

(b) إذا كان موقع جسم رُصد سابقًا عند النقطة التي إحداثياتها $(3, 7)$ ، فما المسافة وقياس الزاوية بين الجسم والرجل الآلي؟

صيد الأسماك: يُستعمل جهاز رصد مثبت في قارب صيد؛ لتحديد موقع وجود الأسماك تحت الماء. افترض أن قاربًا يتجه إلى الشرق، وأن جهاز الرصد قد رصد سربًا من الأسماك عند النقطة $(6, 125^\circ)$.

12

(A) ما الإحداثيات الديكارتية لموقع سرب الأسماك؟

(B) إذا كان موقع سرب الأسماك قد رُصد سابقًا عند النقطة التي إحداثياتها الديكارتية $(6, -2)$ ، فما الإحداثيات القطبية لموقع السرب؟

اكتب كل معادلة مما يأتي على الصورة القطبية:

13 $(x - 4)^2 + y^2 = 16$

14 $y = x^2$

.....

.....

.....

.....

.....

.....

.....

15 $x^2 + (y - 3)^2 = 9$

.....

.....

.....

.....

.....

.....

.....

16 $x^2 - y^2 = 1$

.....

.....

.....

.....

.....

.....

.....

عملية تحويل المعادلة القطبية إلى معادلة ديكارتية ليست مباشرة مثل عملية التحويل من المعادلة الديكارتية إلى المعادلة القطبية، ففي التحويل الثاني تلزمنا جميع العلاقات الآتية:

$$r^2 = x^2 + y^2, \tan \theta = \frac{y}{x}, x = r \cos \theta, y = r \sin \theta$$

اكتب كل معادلة قطبيّة مما يأتي على الصورة الديكارتية.

17 $\theta = \frac{\pi}{6}$

.....

.....

.....

.....

.....

.....

18 $\theta = \frac{\pi}{3}$

.....

.....

.....

.....

.....

.....

19 $r = 7$

.....

.....

.....

.....

.....

.....

20 $r = -3$

.....

.....

.....

.....

.....

.....

21 $r = -5 \sin \theta$

.....

.....

.....

.....

.....

.....

22 $r = 3 \cos \theta$

.....

.....

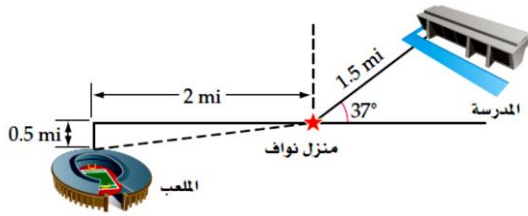
.....

.....

.....

.....

23 مسافات: إذا كانت مدرسة نواف تبعد 1.5 mi عن منزله، وتصنع زاوية مقدارها 53° شمال الشرق كما في الشكل أدناه، فأجب عن الفرعين **a, b**.



(a) إذا سلك نواف طريقاً للشرق ثم للشمال؛ كي يصل إلى المدرسة، فكم ميلاً يتحرك في كل اتجاه؟

(b) إذا كان الملعب على بُعد 2 mi غرباً، و 0.5 mi جنوباً، ومنزل نواف يمثل القطب، فما إحداثيات موقع الملعب على الصورة القطبية؟

24 أيُّ من النقاط الآتية يعد تمثيلاً آخر للنقطة $(-2, \frac{7\pi}{6})$ في المستوى القطبي؟

C $(2, \frac{-6\pi}{11})$

A $(2, \frac{\pi}{6})$

D $(-2, \frac{11\pi}{6})$

B $(-2, \frac{\pi}{6})$

25 إذا كان $m = \langle 5, -4 \rangle$ ، $n = \langle -7, 3 \rangle$ ، فأَيُّ مما يأتي يمثل k ، حيث $k = n - 2m$ ؟

C $\langle 17, -11 \rangle$

A $\langle -17, 11 \rangle$

D $\langle -17, 5 \rangle$

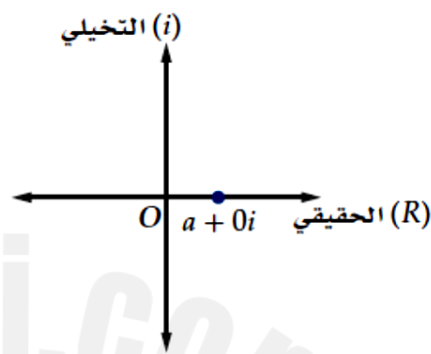
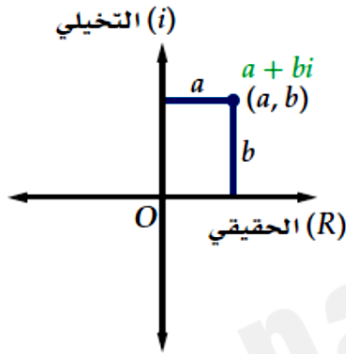
B $\langle -17, -5 \rangle$

2 إيجاد ناتج ضرب الأعداد المركبة وناتج قسمتها وأسمها وجذورها في الصورة القطبية.

الأعداد المركبة ونظرية دي موافر

1 تحويل الأعداد المركبة من الصورة المتعامدة إلى الصورة القطبية والعكس.

في العدد المركب $a + 0i$ (لاحظ أن $b = 0$). يكون الناتج عددًا حقيقيًا يمكن تمثيله على خط الأعداد أو على المحور الحقيقي. وعندما $b \neq 0$ ، فإننا سنحتاج إلى المحور التخيلي لتمثيل الجزء التخيلي.

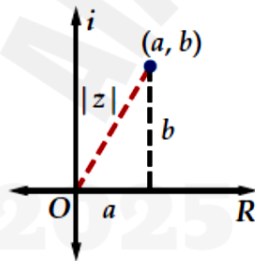


القيمة المطلقة لعدد مركب

مفهوم أساسي

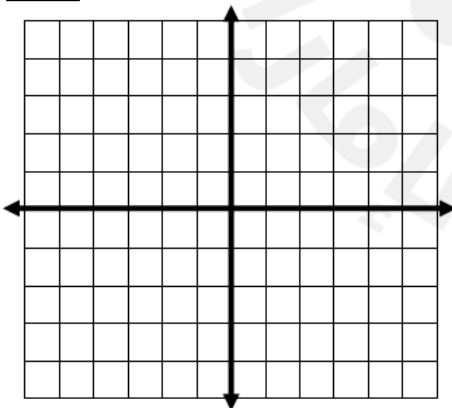
القيمة المطلقة للعدد المركب $z = a + bi$ هي:

$$|z| = |a + bi| = \sqrt{a^2 + b^2}$$

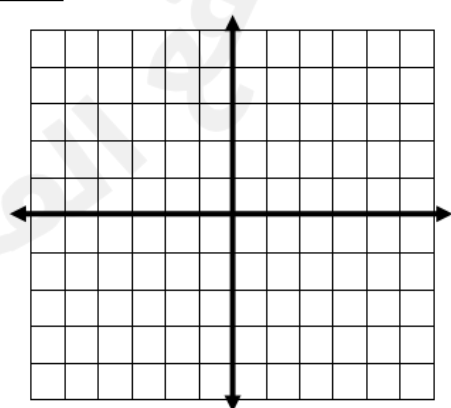


مثّل كل عدد مما يأتي في المستوى المركّب، وأوجد قيمته المطلقة:

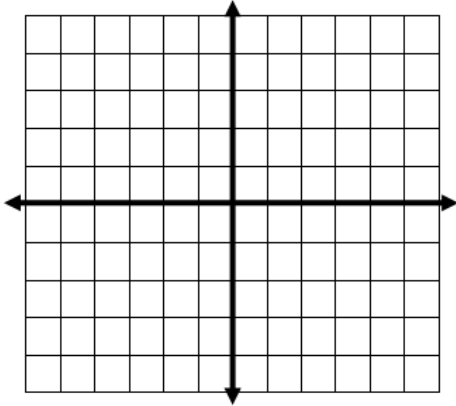
1 $z = 4 + 3i$



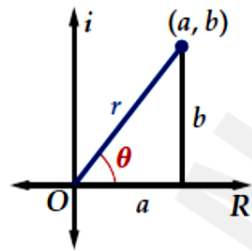
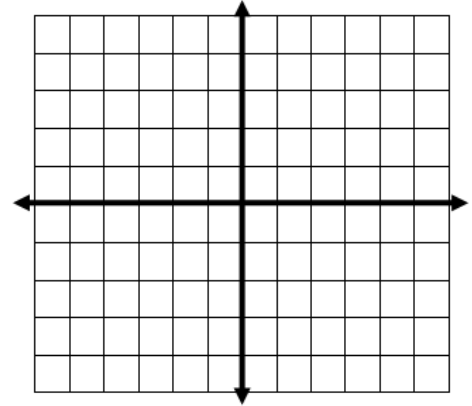
2 $z = -2 - i$



3 $-3 + 4i$



4 $5 + 2i$



الصورة القطبية لعدد مركب

مفهوم أساسي

الصورة القطبية أو المثلثية للعدد المركب $z = a + bi$ هي:

$$z = r(\cos \theta + i \sin \theta) \text{ ، حيث}$$

$$b = r \sin \theta , a = r \cos \theta , r = |z| = \sqrt{a^2 + b^2}$$

$$\theta = \tan^{-1} \frac{b}{a} \text{ عندما } a > 0 , \theta = \tan^{-1} \frac{b}{a} + \pi \text{ عندما } a < 0$$

$$\text{أما إذا كانت } a = 0 , \text{ فإن } \theta = \frac{\pi}{2} \text{ إذا كانت } b > 0 , \theta = -\frac{\pi}{2} \text{ إذا كانت } b < 0$$

عبّر عن كلّ عدد مركب مما يأتي بالصورة القطبية:

5 $-6 + 8i$

.....

.....

.....

.....

.....

.....

.....

.....

6 $4 + \sqrt{3}i$

.....

.....

.....

.....

.....

.....

.....

.....

7

$9 + 7i$

.....

.....

.....

.....

.....

.....

.....

8

$-2 - 2i$

.....

.....

.....

.....

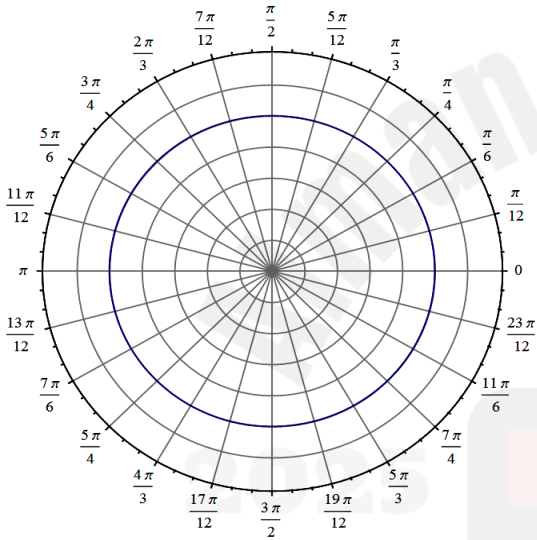
.....

.....

.....

مثّل العدد $z = 3\left(\cos \frac{\pi}{6} + i \sin \frac{\pi}{6}\right)$ في المستوى القطبي، ثم عبّر عنه بالصورة الديكارتية.

9



.....

.....

.....

.....

.....

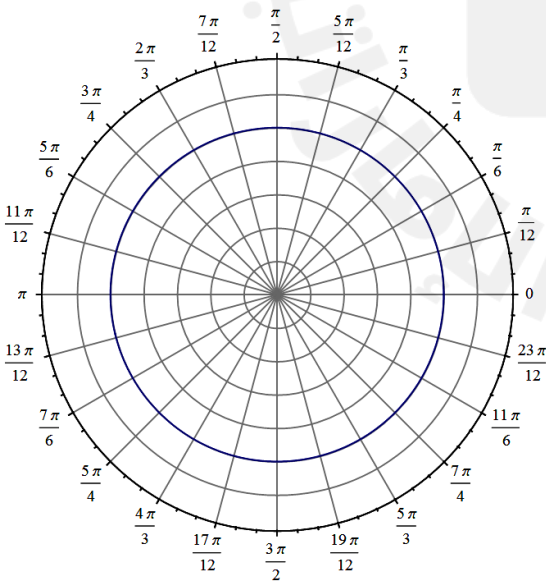
.....

.....

مثّل كل عدد مركب مما يأتي في المستوى القطبي، ثم عبّر عنه بالصورة الديكارتية:

$$5\left(\cos \frac{3\pi}{4} + i \sin \frac{3\pi}{4}\right)$$

10



.....

.....

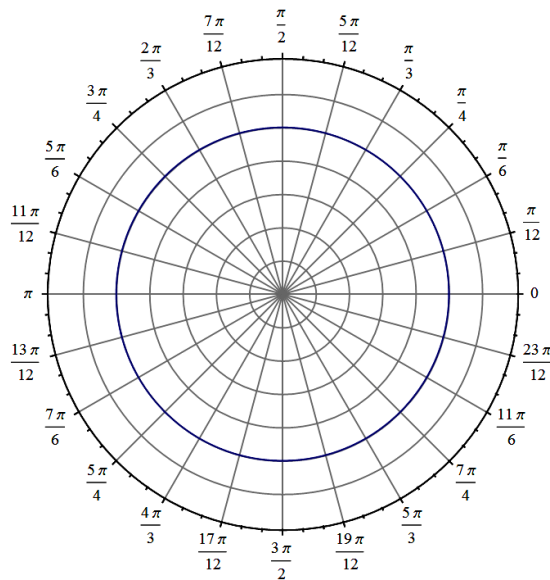
.....

.....

.....

.....

.....



$$4\left(\cos \frac{5\pi}{3} + i \sin \frac{5\pi}{3}\right) \quad 11$$

[illegible]

مفهوم أساسي

ضرب الأعداد المركبة على الصورة القطبية وقسمتها

للعديدين المركبين $z_2 = r_2(\cos \theta_2 + i \sin \theta_2)$ ، $z_1 = r_1(\cos \theta_1 + i \sin \theta_1)$ ، فإن:

$$z_1 z_2 = r_1 r_2 [\cos(\theta_1 + \theta_2) + i \sin(\theta_1 + \theta_2)] \quad \text{صيغة الضرب}$$

صيغة القسمة $r_2 \neq 0, z_2 \neq 0$ حيث $\frac{z_1}{z_2} = \frac{r_1}{r_2} [\cos(\theta_1 - \theta_2) + i \sin(\theta_1 - \theta_2)]$

أوجد الناتج على الصورة القطبية، ثم عبّر عنه بالصورة الديكارتية لكل مما يأتي:

$$12 \quad 2\left(\cos \frac{5\pi}{3} + i \sin \frac{5\pi}{3}\right) \cdot 4\left(\cos \frac{\pi}{6} + i \sin \frac{\pi}{6}\right)$$

المجلس الأعلى للمعاهد العليا

13 $3\left(\cos \frac{\pi}{3} + i \sin \frac{\pi}{3}\right) \cdot 5\left(\cos \frac{\pi}{4} + i \sin \frac{\pi}{4}\right)$

14 $-6\left(\cos \frac{3\pi}{4} + i \sin \frac{3\pi}{4}\right) \cdot 2\left(\cos \frac{2\pi}{3} + i \sin \frac{2\pi}{3}\right)$

15 **الكهرباء** إذا كان الجهد الكهربائي لدائرة كهربائية E يساوي 150 والمعاوقة Z تساوي $6 - 3j$ أوم. فأوجد شدة التيار I بالأمبير في الدائرة الكهربائية في الصورة المتعامدة. استخدم $E = I \cdot Z$.

كهرباء: إذا كان فرق جهد دائرة كهربائية 120 V ، وكانت شدة التيار $(8 + 6j)$ أمبير ، فاكتب كلاً من فرق الجهد وشدة التيار بالصورة القطبية، ثم أوجد المعاوقة واكتبها على الصورة الديكارتية.

16

نظريّة

نظريّة ديموافر

إذا كان $z = r(\cos \theta + i \sin \theta)$ عددًا مركبًا على الصورة القطبية، وكان n عددًا صحيحًا موجبًا، فإن:

$$z^n = [r(\cos \theta + i \sin \theta)]^n = r^n(\cos n\theta + i \sin n\theta)$$

أوجد الناتج في كلٍّ مما يأتي، وعبر عنه بالصورة الديكارتية:

17 $(4 + 4\sqrt{3}i)^6$

18

$$(1 + \sqrt{3}i)^4$$

19

$$(2\sqrt{3} - 2i)^8$$

مفهوم أساسي

الجزور المختلفة

لأي عدد صحيح $n \geq 2$ ، فإن للعدد المركب $r(\cos \theta + i \sin \theta)$ من الجذور النونية المختلفة، ويمكن إيجادها باستعمال الصيغة :

$$r^{\frac{1}{n}} \left(\cos \frac{\theta + 2k\pi}{n} + i \sin \frac{\theta + 2k\pi}{n} \right)$$

حيث $k = 0, 1, 2, \dots, n - 1$.

أوجد الجذور الرباعية للعدد المركب $-4 - 4i$.

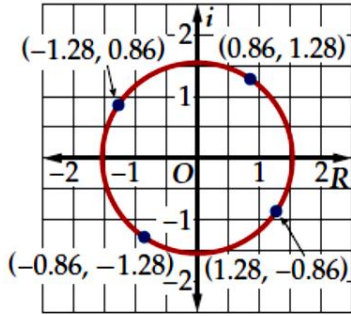
20

أوجد الجذور التكعيبية للعدد $2 + 2i$ 21

Almanah.com/ae

أوجد الجذور التكعيبية للعدد 8

Blank lined paper for writing.



لاحظ أن الجذور الأربعة التي أوجدناها في المثال 7 تقع على دائرة. فإذا نظرنا إلى الصورة القطبية لكل جذر، نجد أن لكل منها مقياساً قيمته $(\sqrt[3]{32} \approx 1.54)$ ، ويمثل نصف قطر الدائرة. كما أن المسافات بين الجذور على الدائرة متساوية، وذلك نتيجة للفرق الثابت بين قيم السعة؛ إذ يساوي $\frac{2\pi}{4}$.

تحدث إحدى الحالات الخاصة عند إيجاد الجذور النونية للعدد 1، فعند كتابة 1 على الصورة القطبية، فإن قيمة r التي نحصل عليها هي $r = 1$. وكما ذكرنا في الفقرة السابقة، فإن مقياس الجذور هو طول نصف قطر الدائرة الناتجة عن تمثيل الجذور في المستوى المركب؛ لذا فإن الجذور النونية للعدد واحد تقع على دائرة الوحدة.

أوجد الجذور الثمانية للعدد واحد.

23

أوجد الجذور التكعيبية للعدد واحد.

24



أوجد الجذور السداسية للعدد واحد.

25

