

تم تحميل هذا الملف من موقع المناهج الإماراتية



الملف أوراق عمل شاملة وحدة الوراثة المعقدة

[موقع المناهج](#) ⇨ [المناهج الإماراتية](#) ⇨ [الصف الحادي عشر المتقدم](#) ⇨ [علوم](#) ⇨ [الفصل الأول](#)

روابط مواقع التواصل الاجتماعي بحسب الصف الحادي عشر المتقدم



روابط مواد الصف الحادي عشر المتقدم على تلغرام

[الرياضيات](#)

[اللغة الانجليزية](#)

[اللغة العربية](#)

[التربية الاسلامية](#)

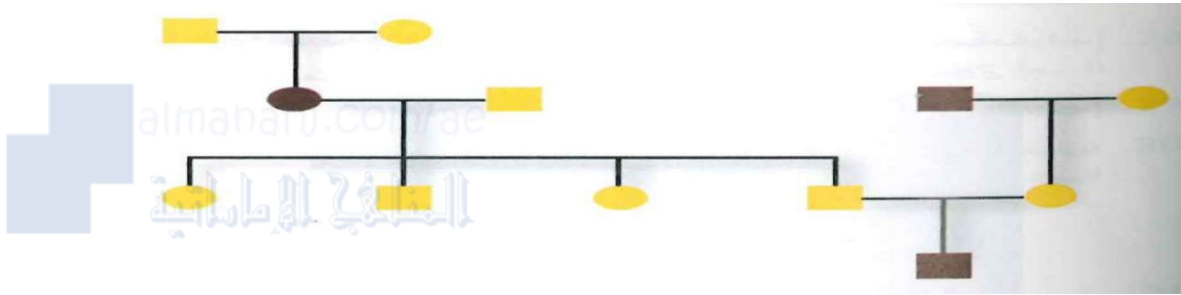
المزيد من الملفات بحسب الصف الحادي عشر المتقدم والمادة علوم في الفصل الأول

شرح الجهاز العصبي	1
نموذج امتحاني تحريبي	2
دليل المعلم كتاب النشاط بالانكليزي	3
الوحدة الثانية	4
دليل تصحيح امتحان نهاية الفصل الاول لمادة الاحياء	5

اختار الإجابة الصحيحة :-

1. أي من الحالات التالية تورث في شكل أليل سائد؟
 - المهاق - التليف الكيسي - مرض تاي - ساكس - مرض هنتجتون
2. أي مما يلي لا يعد من خصائص الشخص المصاب بالتليف الكيسي؟
 - اختلال في قنوات الكلوريد - مشكلات هضمية - فقدان صبغة الجلد - تكرار إصابته الرئتين بالأمراض

استخدم الرسم التالي للإجابة علي السؤالين 3 و4



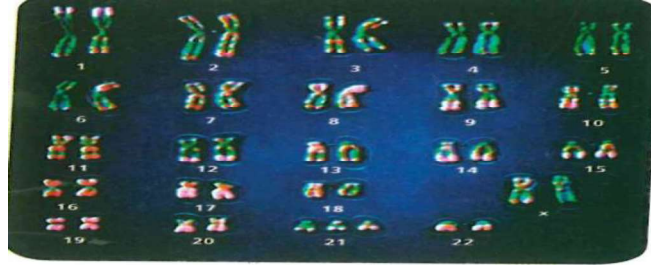
3. أي الاختلالات التالية لا ينطبق عليه نمط الوراثة الموضح في الرسم؟
 - التليف الكيسي - المهاق - مرض تاي - ساكس - مرض هنتجتون
4. ما عدد كل من الذكور والإناث المصابين في سجل النسب؟
 - ذكر واحد - أنثيان - ذكر واحد - أنثي واحدة - ذكران - أنثيان
5. ما الذي يحدد الجنس في الإنسان؟
 - الكروموسومات X و Y - الكروموسوم - السيادة المشتركة - تفوق الجينات
6. ما المصطلحان اللذان يصفان وراثة فصائل الدم في الإنسان علي أفضل نحو؟
 - السيادة غير التامة والسيادة المشتركة - السيادة المشتركة والاليلات المتعددة - السيادة غير التامة والاليلات المتعددة - السيادة المشتركة وتفوق الجينات

استخدم الصور التالية للإجابة عن السؤال 7 .



7. تتحكم السيادة غير التامة في تحديد لون الفجل . يوضح الشكل اعلاه الطرز الظاهرية لكل لون . ما نسب الطرز الظاهرية التي تتوقعها عند تزاوج نباتين متخالفين الجينات؟
 - 2:2 احمر : ابيض - 1:1:1 احمر : ارجواني : ابيض - 1:2:1 احمر : ارجواني : ابيض - 1:3 احمر : ابيض
8. علام يدل نمط نووي بشري يحوي 47 كروموسوما؟
 - مجموعة احادية الكروموسومات - مجموعة ثلاثية الكروموسومات - صفة سائدة - السيادة المشتركة

9. لماذا يحدث عدم الانفصال ؟
 - عدم انقسام السيتوبلازم
 - عدم انفصال الكروماتيدات الشقيقة
 - عدم تكاثف الكروموسومات بصورة صحيحة
 10- استخدم الشكل الوارد ادناه للإجابة عن السؤال 10 .



10. ما الاختلال الذي يظهر في النمط النووي ؟
 - متلازمة تيرنر - متلازمة كlineفلتر - متلازمة داون - لا يظهر النمط النووي اي اختلالات
11. اي من العبارات التالية المتعلقة بالقطع النهائية غير صحيح؟
 - تتواجد في نهايات الكروموسومات - تتكون من DNA وسكريات - تحمي الكروموسومات - لها دور في الشيخوخة
- 11- ما الإنزيم الذي يسبب غيابه مرض تاي - ساكس؟
 - جانجليوسايدز - جالت - السكريز - البليمرز
- 12- ما الإنزيم الذي يسبب غيابه مرض الجلاكتوسيميا؟
 - جانجليوسايدز - جالت - السكريز - البليمرز
- 13- ما المرض الذي ينتج عن خلل في الكروموسوم رقم 15 ؟
 - التليف الكيسي - المهاق - تاي - ساكس - القماءة
- 14- ما المرض الذي ينتج عن فقد صبغة الميلانين ؟
 - التليف الكيسي - المهاق - تاي - ساكس - القماءة
- 15- مرض من أعراضه قصور عقلي وتضخم الكبد وفشل كلوي
 - التليف الكيسي - المهاق - تاي - ساكس - الجلاكتوسيميا
- 16- مرض ينتج عن نقص إنزيم الكابتنيوريا ومن أعراضه بول أسود
 - هنتجتون - الكابتنيوريا - تاي - ساكس - الجلاكتوسيميا
- 17- أي الأمراض التالية مرض متحي
 - هنتجتون - الكابتنيوريا - القماءة - عدم نمو الغضاريف
- 18- أي الأمراض التالية مرض متحي
 - هنتجتون - المهاق - القماءة - عدم نمو الغضاريف
- 19- أي الأمراض التالية مرض سائد
 - هنتجتون - المهاق - تاي - ساكس - التليف الكيسي
- 20- يخضع لون الأزهار في نبات شب الليل لنمط وراثي يسمى
 - السيادة غير التامة - الأليلات المتعددة - الجينات المتعددة - تفوق الجينات
- 21- يخضع مرض أنيميا الخلايا المنجلية لنمط وراثي يسمى
 - السيادة غير التامة - السيادة المشتركة - الجينات المتعددة - تفوق الجينات
- 22- تخضع فصيلة الدم AB لنمط وراثي يسمى
 - السيادة غير التامة - السيادة المشتركة - الجينات المتعددة - تفوق الجينات
- 23- يخضع لون الفراء في الأرانب لنمط وراثي يسمى
 - السيادة غير التامة - الأليلات المتعددة - الجينات المتعددة - تفوق الجينات

- 24- كم عدد الطرز الجينية للون الفراء في الأرانب
4 - 10 - 15 - 3
- 25- كم عدد الأليلات التي تتحكم في فصائل الدم
4 - 10 - 15 - 3
- 26- تظهر نتائج تفوق الجينات في
لون الفراء في الأرانب - القطط السيامية - كلاب اللابرادور - قطط الكاليكو
- 27- عندما يخفي أليل متحي تأثير أليل آخر يسمى ذلك
السيادة التامة - السيادة المشتركة - تفوق الجينات - تعويض الجرعة
- 28- عندما يتوقف كروموسوم X في الأنثى عن العمل بشكل عشوائي يسمى ذلك
السيادة التامة - السيادة المشتركة - تفوق الجينات - تعويض الجرعة
- 29- يسمى كروموسوم X في الأنثى داكن اللون وغير فاعل بـ
جسم بار - صفة مرتبطة بالجنس - صفة متأثرة بالجنس - لاشئ مما سبق
- 30- تسمى الصفات التي تحمل جيناتها على الكروموسوم الجنسي X بـ
جسم بار - صفة مرتبطة بالجنس - صفة متأثرة بالجنس - لاشئ مما سبق
- 31- تسمى الصفات التي تحمل جيناتها على الكروموسومات الجسمية وتتأثر بالهرمونات الجنسية بـ
جسم بار - صفة مرتبطة بالجنس - صفة متأثرة بالجنس - لاشئ مما سبق
- 32- إذا كانت الأم مصابة بمرض عمى الألوان فإن نسبة إصابة الذكور (100% - 50% - 25% - 75%)
33- إذا كانت الأم حاملة لمرض نزف الدم فإن نسبة إصابة الذكور (100% - 50% - 25% - 75%)
34- يعتبر الصلع (صفة مرتبطة بالجنس - صفة متأثرة بالجنس - سيادة مشتركة - أليلات متعددة)
35- إذا كان الشخص متخالفاً الجينات لدراسة الصلع يكون
أبشعر - ب- أصلع - لديه عمى الألوان - أ و ب معاً
- 36- الذكر يرث عمى الألوان من (الأم - الأب - الأم والأب معاً)
37- الأنثى ترث عمى الألوان من (الأم - الأب - الأم والأب معاً)
38- يخضع لون الجلد ولون العينين والطول ونمط بصمة الأصبع إلى
السيادة المشتركة - الأليلات المتعددة - الصفات متعددة الجينات - تفوق الجينات
- 39- تسمى صورة الكروموسومات المصبوغة بـ
القطع النهائية - متلازمة داون - النمط النووي - معدل التوافق
- 40- تتربك القطع النهائية من
DNA فقط - DNA وسكريات - DNA وبروتينات - RNA فقط
- 41- يسمى الإنقسام الخلوي الذي تفشل خلاله الكروماتيدات الشقيقة في الانفصال عن بعض بصورة صحيحة
التكرار - الحذف - عدم الانفصال - الانقلاب
- 42- التركيب الكروموسومي لذكر داون هو
XY + 45 - XX + 44 - XY + 44 - XX + 44
- 43- التركيب الكروموسومي لأنثى داون هو
XY + 45 - XX + 44 - XY + 44 - XX + 44
- 44- التركيب الكروموسومي لأنثى تيرنر هو
XY + 45 - XX + 44 - X0 + 44 - XX + 45
- 45- التركيب الكروموسومي لذكر كليفلتر هو
XY + 45 - XX + 44 - XY + 44 - XX + 45
- 46- التركيب الكروموسومي لذكر داون هو
2n-1 - 2n - XY + 44 - 2n+1
- 47- التركيب الكروموسومي لأنثى تيرنر هو
2n-1 - 2n - XY + 44 - 2n+1
- 48- مرض لا يميز الشخص بين اللونين الأحمر والأخضر (- عمى الألوان - نزف الدم - السرطان - الأنيميا المنجلية)

- 49- أي من الطرق التالية تستخدم في الفحص الجنيني
 - فحص السائل الأمنيوسي - فحص الخلايا الكوريونية - أخذ عينات من دم الجنين - جميع ما سبق
- 50- مرض ينتج عن غياب بروتين التجلط (- عمى الألوان - الهيموفيليا - السرطان - الأنيميا المنجلية)
- 51- العالم الذي اكتشف مرض الكابتنيوريا هو (- مندل - جارود - أرسطو - واتسون)

• 52- أكمل الجدول التالي

الطراز الظاهري	الطراز الجيني
زهرة شب الليل حمراء	
زهرة شب الليل وردية	
زهرة شب الليل بيضاء	
زهرة شب الليل متخالفة الجينات	
فصيلة الدم A متماثل الجينات	
فصيلة الدم A متخالف لجينات	
فصيلة الدم B متماثل الجينات	
فصيلة الدم B متخالف الجينات	
فصيلة الدم O	
فصيلة الدم AB	
أرنب بلون واحد متماثل الجينات	
أرنب بأكثر من لون متماثل الجينات	
أرنب هيمالايا متماثل الجينات	
أرنب أمهق	
ذكر مصاب بعمى الألوان	
ذكر غير مصاب بعمى الألوان	
انثى مصابة بعمى الألوان	
انثى حاملة لمرض نزف الدم	
انثى سليمة من مرض عمى الألوان	

-53

EEBB	EeBB	EEbb	eeBB	eeBb	eebb	الطراز الجيني
						الطراز المظهري
						لكلاب اللابرادور

-54

نمط الوراثة (نوع الوراثة)	المثال
	لون الأزهار في نبات شب الليل
	مرض أنيميا الخلايا المنجلية
	فصائل الدم
	فصيلة الدم AB
	لون الفراء في الأرانب
الصفات متعددة الجينات و و
	لون كلاب اللابرادور
	قط الكاليكو
صفات مرتبطة بالجنس
	الصلع عند الإنسان

علل لما يأتي :-

55- انتشار الصلع بين الذكور أكثر من الإناث

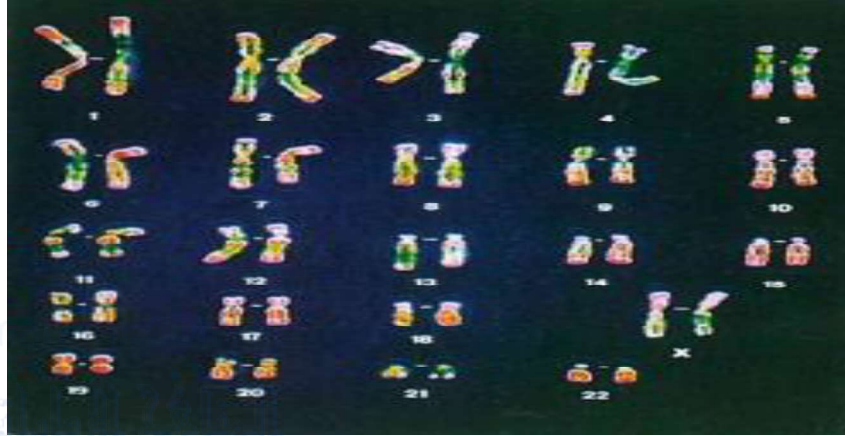
.....
.....

56- انتشار مرض عمى الألوان والهيموفيليا بين الذكور أكثر من الإناث

.....
.....

أجب عن الأسئلة التالية :-

- 57- ما المصطلح الذي يصف الشخص متخالف الجينات لاختلال ساند؟.....
- 58- ما المخطط الي يمثل نمط الوراثة بين الآباء والابناء؟.....
- 59- استخدم الشكل الوارد ادناه في (وصف الفحص الجيني الذي نجم عنه النمط النووي الموضح)



60- استخدم الشكل التالي للإجابة عن السؤال

تخيل ان للحيوانات كلها الاختلالات الوراثية نفسها الموجودة لدي الانسان .فما الاسم البيولوجي للاختلال الوراثي الذي ينطبق علي ضفدع الاشجار القزم هذا؟ صف النمط الوراثي للاختلال الوراثي .



61- توقع الطراز الجينية لابناء من اب مصاب بمرض هنتجتون وام سليمه.

62- استنتج خلاصة حول العلاقة بين ايونات الكلور والمخاط الكثيف في المرضى المصابين بالتليف الكيسي

63- استبدل كل كلمة تحتها خط بالمصطلح الصحيح .

أ- السيادة المشتركة نمط وراثي ينتج فيه الطراز الجيني المتخالف الجينات طرازا ظاهريا وسيطا بين الطراز الظاهري السائد والمتنحي

ب- تسمى الحالة التي لها اكثر من زوج من الصفات الوراثية المحتملة تفوق الجينات.

ج- ترتبط الجينات الموجودة علي الكروموسومات الجنسية في الايالات المتعددة.

64. كيف يفسر تفوق الجينات الاختلاف في لون الفرو لدي كلاب اللابرادور؟

65. اشرح ما إذا كان يمكن ان تكون صفة عمي اللونين الاحمر والاخضر متخالفة الجينات في الذكر.

66- ما انواع الطرز الظاهرية التي يمكن ان نبحت عنها اذا كان الطراز الظاهري سببة وراثة متعددة الجينات ؟

67- قيم لماذا قد يكون التحليل الوراثي في الإنسان صعباً؟

68- لخص ما المقصود من المعلومات التالية المتعلقة بوراثة الصفات :للتوائم المتطابقة معدل توافق يبلغ 54 بالمئة وللتوائم الشقيقة معدل توافق اقل من خمسة بالمئة لوراثة صفة معينة .

69- حدد المصطلح الذي ينطبق على كل تعريف مما يلي.

- أ- النهاية الطرفية الواقية للكروموسوم
- ب- خطأ يحدث في الانقسام الخلوي
- ج- صورة دقيقة للكروموسومات المصبوغة

70- ما الاعراض المرتبطة بمتلازمة داون ؟

71- معظم الحالات الناتجة عن المجموعات الاحادية والثلاثية الكروموسومات مميتة بالنسبة الي البشر . لماذا؟

72- ضع فرضيه حول سبب حاجة الكروموسومات الي القطع النهائية .

73- اشرح لماذا تكون الفتاة المصابة بمتلازمة تيرنر مصابة بعمي اللونين الأحمر والاخضر حتي وان كانت الرؤية لدي والديها طبيعية

74- وضح ما السبب المحتمل لوجود كروموسوم اضافي في المثال التالي .

قام فني بانشاء نمط نووي من خلايا جنين ذكر. واكتشف وجود كروموسوم واحد X اضافي في هذه الخلايا

75- ارسم سجل نسب لعائلة من أبوين سليمين وابن يعاني التليف الكيسي

76- ما نوع الوراثة المتعلقة بمرض هنتجتون ومرض القماءة ؟

77- ما نوع الوراثة المتعلقة بمرض تاي ساكس والتليف الكيسي والجلكتوسيميا ؟

78- فسر . هل يمكن لأبوين مصابين بالمهاق أن ينجبا طفلاً سليماً ؟

79- ارسم سجل نسب لأبوين يستطيعان ثني لسانهما لكن ابنهما لا يمكنه ذلك وسم كل رمز بما يناسبه من الطرز الجينية

80- مرض فينيل كيتونيوريا (PKU) مرض متنحي

إذا كان الأبوان حاملين للمرض . أ- ما احتمال أن ينجبا طفلاً مصاباً بالمرض ؟

ب- ما احتمال أن ينجبا طفلين مصابين بالمرض ؟

81- حينما يطلب زوجان فحوصاً لجين التليف الكيسي . ما الأسئلة التي قد يطرحها الطبيب قبل طلب هذه الفحوص؟

82- اشرح ما المقصود بتفوق الجينات وبين وجه الاختلاف بينه وبين السيادة

83 - كيف تساعد دراسات التوائم في التمييز بين التأثيرات الوراثية والتأثيرات البيئية

84- فسر . لأنيميا الخلايا المنجلية سلبية وإيجابية

85- ما احتمال إنجاب ابن طبيعي الرؤية إذا كان الأب مصاباً بمرض عمى الألوان والأم طبيعية متماثلة الجينات لهذه الصفة ؟ اشرح باستخدام مربع بانيت

86- ما هي استخدامات النمط النووي في دراسة الاختلالات الوراثية ؟

87- ما دور القطع النهائية ؟

88- أنشئ نمطاً نووياً لكائن حي أنثى لديها $2n=8$ وتظهر ثلاثية المجموعة الكروموسومية في الكروموسوم 3

حل المسائل التالية

89- تم التزاوج بين أرنب بلون واحد مع أرنبه بلون واحد فأنتجا أرنب هيمالايا . فسر ذلك

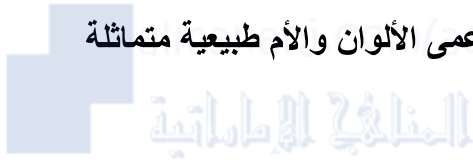
ثم احسب نسب الطرز المظهرية والجينية في الأبناء . وما نمط التوارث ؟

90- تم التزاوج بين أرنب هيمالايا مع أرنبه هيمالايا فأنتجا أرنب أمهق . فسر ذلك

ثم احسب نسب الطرز المظهرية والجينية في الأبناء . وما نمط التوارث ؟

91- تزوج رجل فصيلة دمه A من امرأة فصيلة دمها B . فأجبا طفل فصيلته O فما نسب الطرز الظاهرية والجينية في الأبناء

92- ما احتمال إنجاب ابن طبيعي الرؤية إذا كان الأب مصاباً بمرض عمى الألوان والأم طبيعية متماثلة الجينات لهذه الصفة ؟ اشرح باستخدام مربع بانيت



93- تزوج رجل غير مصاب بمرض نزف الدم من امرأة غير مصابة فأنجبا ذكراً مصاباً . فسر ذلك وما نسبة الإصابة في الذكور والأبناء . وما نمط التوارث

♂	I^B
♀	$I^A I^B$	$I^B I^B$
.....	$I^A i$	$I^B i$
i		

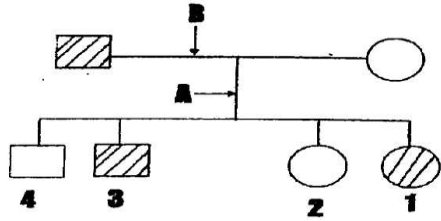
94- أكمل كتابة التراكيب الجينية للأمشاج بالجدول ؟

2- ما التراكيب الجينية للأبوين ؟

3- اكتب أنواع فصائل الدم المحتمل ظهورها في الأبناء ؟

4- ما حكمك في ولادة طفل فصيلته O لهذه العائلة ؟

95- أمعن النظر في سجل النسب المبين بالشكل المجاور يوضح توارث مرض نزف الدم ثم أجب عن الأسئلة التالية :



أ- اكتب مدلولات الرموز B

ب- من أي الأبوين انتقل الأليل المسؤول عن المرض إلى الفرد رقم 3 ؟

ج- ما الفرق بين الشكل (1) والشكل (2)

د- كم أليلاً يحتاج ظهور هذا المرض في الرجل ؟

هـ- أي الأبناء في الجيل الثاني الأكبر عمراً ؟

96- إذا كنت مستشاراً وراثياً وتجمعت لديك البيانات حول عائلة ما :

- الأب غير مصاب بمرض نزف الدم - الأم حامل للمرض - الابن الأول غير مصاب - الابن الثاني مصاب

- الابنة الأولى عندما تزوجت برجل سليم أنجبت طفلاً ذكراً مصاباً بالمرض : **المطلوب : حول هذه البيانات إلى سجل نسب**

.....

.....

.....

.....

.....

اختر الإجابة الصحيحة :-

97- عند ولادة طفل فصيلة دمه O فإن أحد أبويه لن تكون فصيلة دمه (O - A - B - AB)

98- ما فصيلة دم الولد الذي يرث الأليل (IB) من الأم والأليل (IA) من الأب ؟ (O - A - B - AB)

99- إذا أنجب أبوان أربعة أطفال فصائل دمهم مختلفة فما فصيلة دم الأبوين ؟

(A و B و AB / A و AB / B و O و AB)

100- إذا اتحد المشيخ المذكر للرجل من نوع X مع المشيخ المؤنث للمرأة . فإن احتمال أن يكون المولود أنثى هو

(صفر - 25% - 50% - 100%)

101- إذا تزوج رجل مصاب بمرض نزف الدم من فتاة حامل للمرض . فاحتمال ظهور المرض في الأبناء الذكور هو

(- 100% - 75% - 50% - صفر%)

102- لدى أسرة ثلاثة أطفال ذكور . ما احتمال أن يكون المولود الرابع ذكراً (1/2 - 1/3 - 1/4 - 1/8)

103- يتم تعطيل كروموسوم X في تعويض الجرعة في (الأنثى فقط - الذكر فقط - الأنثى والذكر معاً)

104- يتم تعطيل كروموسوم X في تعويض الجرعة في

(الخلايا الجسمية في الأنثى - الخلايا الجنسية في الأنثى - الخلايا الجسمية في الذكر - في الخلايا الجسمية للأنثى)

105- علل : اختلاف الفرو في الأرناب

.....

الإجابة

- 1- مرض هنتجتون 2- فقدان صبغة الجلد 3- مرض هنتجتون 4- ذكران وأنثى 5- الكروموسومات X و Y
- 6- السيادة المشتركة والأليلات المتعددة 7- 1: 2: 1 8- مجموعة ثلاثية الكروموسومات 9- عدم انفصال الكروماتيدات الشقيقة
- 10- متلازمة داون 11- تتكون من DNA وسكريات 12- جالت 13- تاي ساكس 14- المهاق
- 15- الجلاكتوسيميا 16- الكابتينوريا 17- الكابتينوريا 18- المهاق 19- هنتجتون 20- السيادة غير التامة
- 21- السيادة المشتركة 22- السيادة المشتركة 23- الأليلات المتعددة 24- 10- 25- 3 26- كلاب اللابرادور
- 27- تفوق الجينات 28- تعويض الجرعة 29- جسم بار 30- صفة مرتبطة بالجنس 31- صفة متأثرة بالجنس 32- 100% 33- 50% 34- صفة متأثرة بالجنس 35- أ وب معاً 36- الأم 37- الأم والأب معاً 38- الصفات متعددة الجينات 39- النمط النووي
- 40- DNA وبيرونتيات 41- عدم الانفصال 42- XY +45 43- XX +45 44- X0 +44 45- XXY +44 46- 2n+1 47- 2n-1 48- عمى الألوان 49- جميع ما سبق 50- الهيموفيليا 51- جارود
- 52- بالترتيب $C^{ch}C^{ch} / CC / I^A I^B / ii / I^B i / I^B I^B / I^A i / I^A I^A / C^R C^W / C^W C^W / C^R C^W / C^R C^R$
- 53- بالترتيب من اليمين (أصفر - أصفر - بني داكن - بني داكن - أسود داكن)
- 54- بالترتيب (السيادة غير التامة / السيادة المشتركة / الأليلات المتعددة / السيادة المشتركة / الأليلات المتعددة / لون الجلد و لون العيون و الطول وبصمة الإصبع / تفوق الجينات / تعويض الجرعة / عمى الألوان ونزف الدم / صفة متأثرة بالجنس
- 55- لأن الذكر يحتاج لأليل سائد بينما الأنثى تحتاج لأليلين متحيين
- 56- لأن الذكر يحتاج لأليل متحي بينما الأنثى تحتاج لأليلين متحيين
- 57- الناقل (أو الهجين) 58- سجل النسب 59- (فحص السائل الأمنيوني وفحص الخلايا الكورينية وأخذ عينة من دم الجنين)
- 60- الاسم البيولوجي (القماءة) ونمط الوراثة (سائد)
- 61- AA X aa الناتج كله Aa
- 62- عند خروج أيونات الكلور وعدم امتصاص الخلايا له تزداد كثافة المخاط
- 63- أ- السيادة غير التامة ب- الصفات متعددة الجينات ج- الصفات المرتبطة بالجنس
- 64- وجود أليل متحي (ee) يخفي تأثير أليل سائد B
- 65- لأن الذكر لديه كروموسوم X واحد فقط 66- طرز ظاهرية متعددة
- 67- صعوبة التجريب على الإنسان - قلة عدد الأفراد والأسر - كثرة عدد الجينات والكروموسومات والصفات الوراثية
- 68- التوائم المتطابقة تتشابه بدرجة كبيرة جداً جينياً وظاهرياً بينما التوائم الشقيقة تختلف بدرجة كبيرة جداً جينياً وظاهرياً
- 69- أ- القطع النهائية ب- عدم الانفصال ج- النمط النووي 70- الوجه المميز - قصور عقلي - قصور في القلب - قصر القامة
- 71- بسبب زيادة أو نقص عدد الكروموسومات عن الحد الطبيعي 72- لحماية الكروموسومات
- 73- لأن لديها كروموسوم جنسي X واحد فقط 74- رسم كروموسوم X بجوار XY
- 75- ارسم أيها الطالب (الأب والأم حاملين للمرض (نصف مظل) والإبن مظل كامل
- 76- سائدة 77- متحية 78- لا (لأن مرض المهاق متحي)
- 79- ارسم أيها الطالب (الأب والأم هجين (نصف مظل) والإبن غير مظل والطرز الجينية Aa x Aa والابن aa
- 80- أ- 4/1 ب- 4/1 x 4/1 = 16/1
- 81- هل يعاني أحد من العائلة من المرض - هل لديهم صعوبة في التنفس - هل لديهم صعوبة في الهضم - هل المخاط كثيف
- 82- تفوق الجينات (وجود أليل متحي (ee) يخفي تأثير أليل سائد B) أما السيادة (وجود أليل سائد يخفي تأثير الأليل المتحي)

- 83- التوائم المتطابقة تتشابه بدرجة كبيرة جداً جينياً وظاهرياً بينما التوائم الشقيقة تختلف بدرجة كبيرة جداً جينياً وظاهرياً
- 84- السلبية (قلة كفاءة خلايا الدم الحمراء في نقل الأكسجين - الهيموجلوبين غير طبيعي - انسداد الأوعية الدموية الصغيرة في الدورة الدموية) الإيجابية (عدم الإصابة بمرض الملاريا)
- 85- نفس إجابة 92 86- معرفة الاختلالات الكروموسومية والوراثية - معرفة جنس الجنين
- 87- حماية الكروموسوم 88- نرسم 8 كروموسومات وعند الكروموسوم 3 نرسم واحد إضافي
- 89- أرنب بلون واحد CC^h

♂	C	C^h
♀	CC	CC^h
C	CC^h	C^hC^h
C^h		

نسب الطراز الظاهري : أرنب بلون واحد 3 : أرنب هيمالايا 1
نسب الطراز الجيني : CC : CC^h : C^hC^h 1
نمط الوراثة (أليات متعددة)

90- قم بحلها أيها الطالب في الجدول ($C^hc \times C^hc$) وأكمل الحل مثل السؤال السابق

91- الأبوان $I^B i \times I^A i$ ثم أكمل

92- الأب $X^B Y$ الأم $X^B X^B$ ثم أكمل

93- الأب $X^B Y$ الأم $X^B X^b$ ثم أكمل

94- الفراغات في الجدول الأب I^A الأم I^B 2- الأب $I^A I^B$ الأم $I^B i$ 3- A - B - AB 4- ليس ابنهم

95- أ- خط الزواج ب- الأم ج- الشكل 1 أنثى مصابة الشكل 2 أنثى سليمة د- أليل واحد ه- رقم 4

96- ارسم من اليسار أيها الطالب الأب (مربع غير مظلّل) الأم (دائرة نصف مظللة) الأبناء من اليسار مربع غير مظلّل والثاني مربع مظلّل والأنتى (دائرة نصف مظللة) وزوجها مربع غير مظلّل والإبن مربع مظلّل (لا تنسى تكتب الأجيال على اليسار

97- AB 98- AB 99- A و B 100- 100% 101- 50% 102- 2/1 103- الأنتى فقط 104- الخلايا الجسمية للأنتى 105- بسبب تفاعل جين الفرو مع جينات أخرى