

تم تحميل هذا الملف من موقع المناهج الإماراتية



النموذج التدريبي لامتحان النهائي

موقع المناهج ← المناهج الإماراتية ← الصف العاشر المتقدم ← كيمياء ← الفصل الثالث ← الملف

تاريخ إضافة الملف على موقع المناهج: 09:52:06 2024-06-13

إعداد: مدرسة درب السعادة

التواصل الاجتماعي بحسب الصف العاشر المتقدم



اضغط هنا للحصول على جميع روابط "الصف العاشر المتقدم"

روابط مواد الصف العاشر المتقدم على تلغرام

[الرياضيات](#)

[اللغة الانجليزية](#)

[اللغة العربية](#)

[التربية الاسلامية](#)

المزيد من الملفات بحسب الصف العاشر المتقدم والمادة كيمياء في الفصل الثالث

[مراجعة نهائية وفق الهيكل الوزاري منهج انسابير](#)

1

[تجميع أسئلة واختبارات سابقة وفق الهيكل الوزاري](#)

2

[الهيكل الوزاري الحديد منهج انسابير المسار المتقدم](#)

3

[الهيكل الوزاري الحديد منهج بريدج المسار المتقدم](#)

4

[حل أسئلة الامتحان النهائي الالكتروني](#)

5

المادة المطلوبة

وحدة حالات المادة: درسين – وحدة الغازات: ثلاث دروس –
 درس الرابطة الفلزية – درس السالبة والقطبية


مادة الكيمياء الصف العاشر

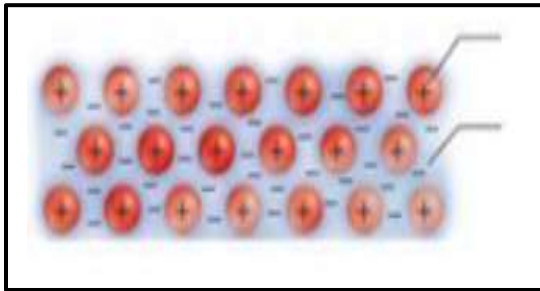
الحقيبة التدريبية وفق الهيكل الوزاري

 للفصل الدّراسي الثالث 2023 – 2024

ملاحظة: الحقيبة التدريبية للتركيز على أغلب أنماط الأسئلة الموافقة لنواتج الهيكل لكن لا تغني عن دراسة الكتاب ومسائل الكتاب .

1	State the properties of metallic bond	عدد خصائص الرابطة الفلزية	نص الكتاب + الشكل 11
			Textbook + Figure 11

Which is the best description of the valence electrons in the metallic bond?	ما الوصف الأفضل لإلكترونات التكافؤ في الرابطة الفلزية؟
	
A. Have a fixed position in the lattice	A. لديها مواقع ثابتة في الشبكة
B. It is a sea of free-moving electrons	B. هي بحر من الإلكترونات الحرة الحركة
C. The electron density is concentrated around specific atoms	C. تتركز كثافة الإلكترون حول ذرات معينة
D. The positive charges repulse with negative charges in it	D. تتنافر فيها الشحنات الموجبة مع الشحنات السالبة



ما العبارة الصحيحة بالنسبة لنموذج الترابط الموضح في الشكل أدناه؟

A - تتحرك إلكترونات التكافؤ بحرية بين النوى الفلزية
 B - ينتج عنه مادة هشة
 C - تنقل الكاتيونات الكهرباء على امتداد الفلز
 D - تكوّن الذرات الفلزية "بحر" من الأيونات المشحونة بشحنات سالبة

2	يشرح بعض الخصائص الفيزيائية (نقاط الانصهار والغليان - التوصيل الحرري والكهربائي - قابلية الطرق والسحب - المalleability - التمدد والتمدد) OIM.S.1.02.023.03 Explain some physical properties of metals (Melting and boiling points, Thermal and electrical conductivity, Malleability, ductility, durability, Hardness and strength)	نص الكتاب Textbook
---	--	-----------------------

What explain malleability of metals? ما الذي يُفسر قابلية الفلزات للطرق؟

أقوة مؤثرة خارجية
External force

The movement of the free (delocalized) electrons more easily	حركة الإلكترونات الحرة (غير المتموضعة) بسهولة كبيرة
The reaction of free (delocalized) electrons with light	تفاعل الإلكترونات الحرة (غير المتموضعة) مع الضوء
The movement of metallic cations through free (delocalized) electrons	حركة أيونات الفلزات عبر الإلكترونات الحرة (غير المتموضعة)
The movement of fixed electrons around the metallic cation	حركة الإلكترونات المقيدة حول الكاتيون الفلزي

What explain the luster of metals? ما الذي يُفسر لمعان الفلزات؟

The movement of the free (delocalized) electrons more easily	حركة الإلكترونات الحرة (غير المتموضعة) بسهولة كبيرة
The reaction of free (delocalized) electrons with light	تفاعل الإلكترونات الحرة (غير المتموضعة) مع الضوء
The movement of metallic cations through free (delocalized) electrons	حركة أيونات الفلزات عبر الإلكترونات الحرة (غير المتموضعة)
The movement of electrons is fixed around the metallic cation	حركة الإلكترونات مقيدة حول الكاتيون الفلزي

3	يشرح بين أنواع المختلفة من السبائك وكيف بعض استخداماته OIM.S.1.02.023.08 Differentiate between the different type of alloys (substitutional and interstitial)	نص الكتاب Textbook
---	--	-----------------------

3	2	1	رقم السبيكة Alloy number
الفضة الإسترلينية Sterling silver	ال فولاد الكربوني Carbon steel	سبيكة من التيتانيوم والفاناديوم Titanium and vanadium alloy	السبيكة Alloy

أي مما يلي **صحيح** فيما يتعلق بالسبائك الواردة في الجدول المجاور:

أ_ كلاً من السبيكة 2 و3 تعتبر مثلاً على السبائك الفراغية	ب_ السبيكة 3 تعتبر مثلاً على السبائك الفراغية
ج_ تستخدم السبيكة 1 في صناعة أجزاء الدراجات	د_ السبيكة 2 تعتبر مثلاً على السبائك الاستبدالية

يعتبر الفولاذ من أمثلة السبائك الفراغية ، ما العنصر الذي يتم إضافته الى بلورة الحديد للحصول على الفولاذ :

أ_ الكربون C	ب_ الفضة Ag
ج _ القصدير Sn	د_ الرصاص Pb


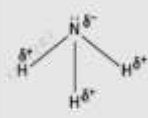
4	CHM.5.1.01.011 Predict the periodicity of electronegativity in the periodic table, explaining the type of bonds formed between the elements (e.g. ionic, covalent and metallic bonds)	نص الكتاب + الشكل 20 و 21 + الجدول 7 Textbook + Figures 20, 21 + table 7
---	---	---

H	O	العنصر Element
2.20	3.44	السالبية الكهربية Electronegativity

ما نوع الرابطة في الجزيء H_2O :

أ_ أيونية غالباً	ب_ تساهمية غير قطبية
ج _ تساهمية قطبية	د_ تساهمية غالباً

5	CHM.5.1.01.011.10 Diferenciar entre enlaces covalentes polares y no polares, comparando la localización de los electrones compartidos - define si el compuesto es polar o no polar.	نص الكتاب + الشكل 23 Textbook + Figure 23
---	---	--

		شكل الجزيء Molecule's shape
2	1	رقم الجزيء Molecule's number

أي مما يأتي صحيح فيما يتعلق بالجزيئين في الجدول المجاور :

أ_ الجزيء 1 غير قطبي بسبب تناظر الجزيء	ب_ كلا الجزيئين قطبي
ج _ الجزيء 2 غير قطبي بسبب تناظر الجزيء	د_ كلا الجزيئين غير قطبي

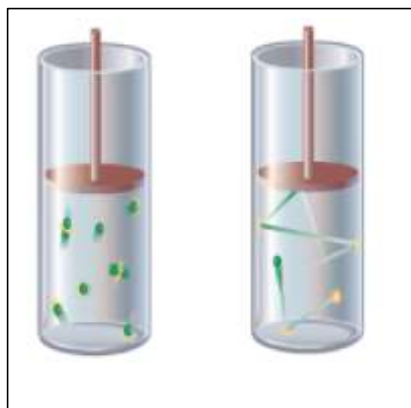
6	CHM.5.2.01.003 Use the kinetic molecular theory to explain the properties and behaviour of gases	نص الكتاب + الشكل 2 و 3 Textbook + Figures 2, 3
---	--	--

في نظرية الحركة الجزيئية أي من المصطلحات التالية هي مقياس لمتوسط الطاقة الحركية للجسيمات لعينة من المادة :

أ_ الحجم	ب_ الكتلة
ج _ درجة الحرارة	د_ الكثافة

أي العبارات التالية ليست افتراضاً لنظرية الحركة الجزيئية :

أ_ لكل جسيمات الغاز في عينة ما نفس السرعة	ب_ لا تتجاذب أو تتنافر جسيمات الغاز مع بعضها
ج_ يكون التصادم بين جسيمات الغاز مرناً	د_ لكل الغازات في درجة حرارة معينة نفس متوسط الطاقة الحركية



أي العبارات التالية صحيحة :

أ_ جسيمات الغاز تتصادم مع بعضها البعض ومع جدران الوعاء وهذه التصادمات غير مرنة	ب_ جسيمات الغاز تتصادم بجدار الوعاء فقط
ج_ جسيمات الغاز لا تتصادم	د_ جسيمات الغاز تتصادم مع بعضها البعض ومع جدران الوعاء وهذه التصادمات مرنة

7	قارن بين انتشار وانسحق النوع مختلف من الغازات	نفس الكون + مثال + تطبيقات
	Diff.5.2.D1.005.01 Compare between diffusion and effusion for different types of gases	Textbook + Example 1 + Applications

غاز النيون له كتلة مولية 20.0 g/mol وغاز كلوريد الهيدروجين له كتلة مولية 36.5 g/mol ، ماهي نسبة معدلات انتشارها ؟

أ_ 0.54	ب_ 0.77
ج_ 1.35	د_ 1.83

ما نسبة معدلات انتشار ثالث أكسيد الكبريت (SO_3) وثاني أكسيد الكبريت (SO_2) ؟

علماً أن: الكتلة المولية لثالث أكسيد الكبريت = 80 g/mol

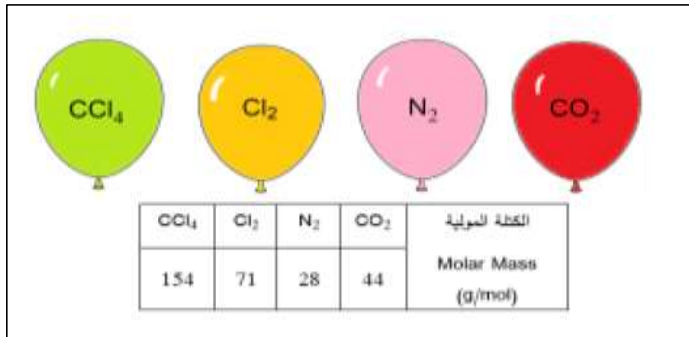
الكتلة المولية لثاني أكسيد الكبريت = 64 g/mol

أ_ 1.12	ب_ 2.50
ج_ 0.894	د_ 0.768

غاز مجهول يتدفق أسرع ب 1.25 مرات من غاز N_2O_4 ما الكتلة المولية للغاز المجهول ؟ الكتلة المولية لغاز $N_2O_4 = 92.0 \text{ g/mol}$

أ_ 36.2 g/mol ب_ 58.9 g/mol

ج_ 7.7 g/mol د_ 18.6 g/mol



CCl_4	Cl_2	N_2	CO_2	الكتلة المولية Molar Mass (g/mol)
154	71	28	44	

أربع بالونات متطابقة تم ملؤها بنفس الحجم من غازات مختلفة ،
أي البالونات سيتدفق الغاز منه بشكل أسرع ؟

أ_ CO_2 ب_ N_2

ج_ CCl_4 د_ Cl_2

8

CHM.5.2.01.004.07 Use the mathematical formula of Dalton's law of partial pressures to calculate partial pressures and total pressure of a mixture of gases

CHM.5.2.01.004.07 يستخدم قانون دالتون للضغوط الجزئية لحساب الضغوط الجزئية والضغط الكلي لمختلطة من الغازات

نص الكتاب + مثال 2 + تطبيقات + الشكل 8

Textbook + example 2 + Applications: Figure 8

ما الضغط الجزئي لبخار الماء في عينة من الهواء عندما يكون الضغط الكلي 1.00 atm والضغط الجزئي للنتروجين 0.79 atm
والضغط الجزئي للأكسجين 0.20 atm والضغط الجزئي لجميع الغازات الأخرى 0.0044 atm ؟

أ_ 0.9956 atm ب_ 0.80 atm

ج_ 0.0056 atm د_ 0.2100 atm



ما الضغط الكلي لخليط يحتوي على ثلاث غازات ضغوطها الجزئية كالتالي :
 5.22 KPa , 3.81 KPa , 1.35 KPa ؟

أ_ 7.68 KPa ب_ 12.76 KPa

ج - 10.38 KPa د_ 6.57 KPa



وعاء مغلق يحتوي خليط من غازات الأكسجين والهيليوم والنيتروجين ، إذا كان الضغط الكلي في الوعاء 4.711 atm والضغط الجزئي لل O_2 هو 2.592 atm والضغط الجزئي لل He هو 0.836 atm ، ما هو الضغط الجزئي لل N_2 ؟

أ_ 2.955 atm	ب_ 8.139 atm
ج_ 0.467 atm	د_ 1.283 atm

9	DIM.S.1.02.007 Explain how the physical and chemical properties of a solid or liquid depend on the present particles, the type of bonds, and the intermolecular and intramolecular force	نص الكتاب + المثال 9 و 10 و 11 Textbook + Figures 9, 10, 11
10	DIM.S.1.02.007.12 Compare and contrast the Intermolecular forces (dispersion forces, dipole-dipole forces, and hydrogen bond) with regard to type of molecules involved and strength	نص الكتاب + الجدول 3 Example 3 + table 3

أي مما يلي **يعتبر** من القوى البين الجزيئية :

أ_ الروابط الهيدروجينية	ب_ الروابط الأيونية
ج_ الروابط الفلزية	د_ الروابط التساهمية

أي من الجزيئات التالية يمكن أن تشكل روابط هيدروجينية :

أ_ HCL	ب_ HF
ج_ F_2	د_ CH_4

عنصر الأستاتين هو أثقل عنصر معروف في مجموعة الهالوجينات ، ما حالته الفيزيائية المتوقعة في درجة حرارة الغرفة ؟

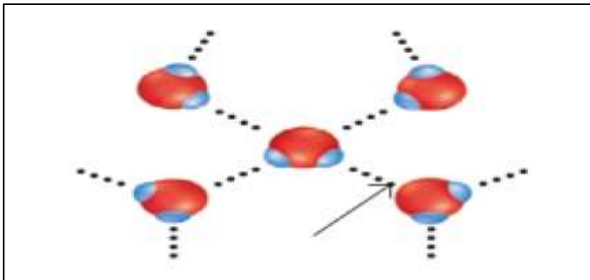
أ_ الصلبة	ب_ السائلة
ج_ البلازما	د_ الغازية

درجة الغليان (°C) Boiling Point (°C)	الكتلة المولية (g/mol) Molar Mass (g/mol)	تركيب الجزيء Molecular Structure	المركب Compound
100	18.0		ماء (H ₂ O) Water
-33.3	17.0		الأمونيا (NH ₃) Ammonia

ما الذي يفسر انخفاض درجة غليان الأمونيا مقارنة مع درجة غليان الماء	
أ_ لا تكون جزيئات الامونيا روابط هيدروجينية	ب_ جزيئات الامونيا غير قطبية
ج_ قوى الجذب بين جزيئات الأمونيا أكبر من	د_ قوى الجذب بين جزيئات الأمونيا
قوى الجذب بين جزيئات الماء	أقل من قوى الجذب بين جزيئات الماء

Group 17 The Halogen Group	Fluorine 9 F	Boiling point increases تزداد درجة الغليان
	Chlorine 17 Cl	
	Bromine 35 Br	
	Iodine 53 I	
	Astatine 85 At	

تزداد درجات غليان الهالوجينات كما هو موضح بالجدول الدوري التالي بسبب الزيادة في	
أ_ الروابط الهيدروجينية	ب_ الروابط الأيونية
ج_ القوى ثنائية القطب	د_ قوى التشتت



مانوع القوى المشار لها في الشكل أدناه :	
أ_ الرابطة التساهمية	ب_ الروابط الأيونية
ج_ قوى التشتت	د_ الروابط الهيدروجينية

15	CHM3.2.06.04.11 Use the mathematical formula of Boyle's law to calculate volume-pressure changes for a gas sample at constant temperature	CHM3.2.06.002 يستخدم قانون بويل لحساب تغير الحجم - الضغط لعيينة من غاز عند درجة حرارة ثابتة	نص الكتاب + المثال 1 + تطبيقات Textbook + figure 1+ example 1 + Applications
----	---	---	---

$V_1 = 5.00 \text{ L}$
 $P_1 = 1.00 \text{ atm}$
 $T_1 = 25.0^\circ\text{C}$

$V_2 = 2.00 \text{ L}$
 $P_2 = 3.00 \text{ atm}$

حجم عينة من غاز النيتروجين على درجة حرارة 25°C وضغط 1.00 atm هو 5.00 L ، إذا تم ضغط الغاز ل 3.00 atm واصبح الحجم 2.00 L فما درجة الحرارة النهائية للغاز؟	
أ_ 98.2°C	ب_ 20.3°C
ج_ 30.0°C	د_ 84.6°C



عند ازدياد الضغط على الغاز في البالون في الشكل ، ماتأثير ذلك على حجم البالون عند ثبات درجة الحرارة :

أ_ سوف يزداد	ب_ سيبقى كما هو
ج_ سوف يقل	د_ يزداد ثلاثة أضعاف

هواء محصور في أسطوانة مغلقة بمكبس يشغل 365.5 ml عند ضغط 0.985 atm , ما الحجم الجديد (ml) اذا تم ضغط المكبس بحيث يزيد الضغط بمقدار 50% ؟
ننتبه لمقدار الزيادة المئوية

أ_ 244	ب_ 354
ج_ 198	د_ 455

12	DM3.2.01.001 يستخدم قانون بويل لحساب التوازن الحجمي لجزء معين من الغاز عند ضغط ثابت DM3.2.01.004.13 Use the mathematical formula of Boyle's law to calculate volume/temperature changes for a gas sample at constant pressure	نص الكتاب + الشكل 2 + مثال 2 + تطبيقات Textbook + figure 2 + example 2 + Applications
----	--	--



ما حجم الغاز الموجود في البالون المجاور عندما تتغير درجة الحرارة الى 348 K ؟

أ_ 4.01 L	ب_ 3.84 L
ج_ 2.31 L	د_ 2.73 L

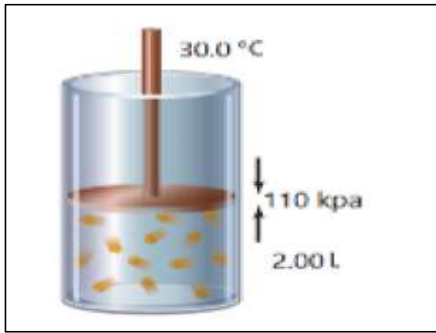
تشغل عينة من غاز حجماً 6.50 L عند درجة حرارة 95.0°C فما درجة الحرارة ($^\circ\text{C}$) التي يصبح عندها حجم عينة الغاز 1.63 L ؟

أ_ -181	ب_ -92
ج_ 365	د_ 418

13	استخدم قانون جاي ليويلاند لحساب التغيرات في الضغط - درجة الحرارة لمعينة من غاز عند حجم ثابت. DIM.3.2.21.004.13	نص الكتاب + المثال 3 + تمارين 3 + تطبيقات
	DIM.3.2.21.004.13 Use the mathematical formula of Gay-Lussac's law to calculate pressure-temperature changes for a gas sample at constant volume	Textbook + figure 3 + example 3 + Applications

الضغط لغازي في اسطوانة 1.00 atm عند 300 K كم سيصبح الضغط إذا زادت درجة الحرارة إلى 400 K	
أ_ 0.75 atm	ب_ 2.67 atm
ج_ 2.44 atm	د_ 1.3 atm

14	استخدم القانون العام للغازات لحساب التغيرات في الحجم - الضغط - درجة الحرارة لمعينة من غاز عند حجم ثابت. DIM.3.2.21.004.14	نص الكتاب + مثال 4 + تطبيقات 4 + التمارين 4
	DIM.3.2.21.004.14 Use the combined gas law to calculate the volume-pressure-temperature changes for a gas sample	Textbook + examples 4 + Applications + table 4



عينة من الغاز بدأت عند 110.0 KPa ، 30.0 C^0 ، 2.00 L ما الحجم إذا زادت درجة الحرارة إلى 80.0 C^0 وزاد الضغط إلى 440.0 KPa ؟	
أ_ 0.64 L	ب_ 0.58 L
ج_ 1.3 L	د_ 8.1 L

15	استخدم القانون العام للغازات لحساب التغيرات في الحجم - الضغط - درجة الحرارة لمعينة من غاز عند ضغط ثابت. DIM.3.2.21.005.15	نص الكتاب + المثال 5 + تمارين 5 + تطبيقات
	DIM.3.2.21.005.15 Use the mathematical formula of Avogadro's law to calculate volume-mole changes for a gas sample at constant pressure	Textbook + figure 5 + example 5 + Applications

" الأحجام المتساوية من الغازات تحتوي عند نفس الضغط ودرجة الحرارة على أعداد متساوية من الجسيمات " هونص؟	
أ_ مبدأ أفوجادرو	ب_ مبدأ لوشاتولييه
ج_ القانون الغاز المثالي	د_ القانون العام للغازات

6.02×10^{23}	ثابت أفوجادرو Avogadro's constant(number)
$R = 0.0821 \text{ L.atm/mol.K}$	

ما عدد ذرات النيون في 1.86 L منه عند الضغط ودرجة الحرارة القياسيين ؟ STP	
أ_ 5.00×10^{22}	ب_ 2.70×10^{23}
ج_ 3.50×10^{24}	د_ 1.40×10^{25}



16	CHM.5.2.01.004.20 Use the ideal gas law to calculate pressure, volume, temperature, mass, for a gas sample when three quantities are given.	اسم الكتاب + الجدول 2 + مثال 5 + تطبيقات Textbook + table 2 + example 5 + Applications
----	---	---

ما حجم عينة من الغاز عدد مولاتها 0.323 mol عند 12 C^0 ، 0.900 atm ؟ $R=0.0821 \text{ L.atm/mol.K}$

أ_ 6.52 L	ب_ 8.40 L
ج_ 7.26 L	د_ 3.53 L

ما حجم عينة من غاز الهليوم مقدارها 0.216 mol عند درجة حرارة 30 C^0 وضغط 7.16 atm ؟ $R=0.0821 \text{ L.atm/mol.K}$

أ_ 0.750 L	ب_ 1.40 L
ج_ 0.375 L	د_ 2.85 L

17	CHM.5.2.01.004.20 يستخدم قانون الغاز المثالي لحساب الكثافة وكتلة المول الجزيئية لعينة من غاز	اسم الكتاب Textbook
----	--	------------------------

ما الكتلة المولية لغاز مجهول عند درجة الحرارة والضغط القياسيين STP ، إذا كانت كثافة الغاز 1.70 g/L

$R=0.0821 \text{ L.atm/mol.K}$

أ- 87.3 g/mol	ب_ 25.6 g/mol
ج_ 38.1 g/mol	د_ 5.11 g/mol

دورق حجمه 4.25 L مملوء بـ غاز البيوتان (C_4H_{10}) عند ضغط 1.5 atm ودرجة حرارة 20 C^0 - فما كتلة البيوتان في الدورق ؟

<table border="1"> <tr> <td>R</td> <td>الكتلة المولية للبيوتان C_4H_{10} Molar mass of butane C_4H_{10}</td> </tr> <tr> <td>$0.0821 \text{ L.atm/mol.K}$</td> <td>$58.1 \text{ g/mol}$</td> </tr> </table>	R	الكتلة المولية للبيوتان C_4H_{10} Molar mass of butane C_4H_{10}	$0.0821 \text{ L.atm/mol.K}$	58.1 g/mol	
R	الكتلة المولية للبيوتان C_4H_{10} Molar mass of butane C_4H_{10}				
$0.0821 \text{ L.atm/mol.K}$	58.1 g/mol				
أ_ 17.8 g	ب_ 8.9 g				
ج_ 26.7 g	د_ 13.5 g				



18	DM.5.2.01.008.15 Predict the conditions under which a real gas might deviate from ideal behavior while expanding to effect	Textbook
----	--	----------

أي مما يلي من خصائص الغاز المثالي ؟

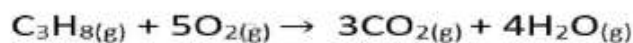
أ_ تتحرك جسيماته بسرعات متغيرة وبمسارات متعرجة	ب_ تشغل جسيماته حيزاً من الفراغ ويعبر عنها بوحدة الحجم (L)
ج_ تتعرض جسيماته لقوى تجاذب بينها	د_ تتصادم جسيماته ببعضها أو مع جدران الوعاء تصادمان مرنة بشكل مثالي

متى يسلك الغاز الحقيقي مثل الغاز المثالي ؟

أ_ عند الضغط العالي ودرجة الحرارة المنخفضة	ب_ عندما تتحول حالة الغاز الى سائل عند التأثير عليه بضغط مرتفع
ج_ عندما تقترب الجزيئات لبعضها البعض وتزداد قوى التجاذب	د_ عندما تبتعد الجزيئات عن بعضها البعض وتقل قوى التجاذب

19	DM.5.2.01.006.03 Identify what the coefficients in a balanced chemical equation specify	نص الكتاب + المثال 10 + مثال 7 + تطبيقات Textbook + figure 10 + example 7 + Applications
20	calculate the amounts of gaseous reactants and products in a chemical reaction	نص الكتاب + مثال 8 + تطبيقات Textbook + examples 8 + Applications

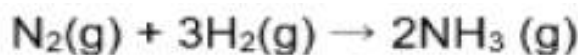
كم عدد لترات غاز البروبان (C₃H₈) التي سيتم احتراقها بالكامل بوجود 30.0 L من غاز الاكسجين ، افترض ثبات الضغط ودرجة الحرارة ؟



أ_ 5 L	ب_ 2 L
ج_ 1 L	د_ 6 L



يتفاعل غاز الهيدروجين مع غاز النيتروجين لتكوين غاز الأمونيا (NH₃) وما حجم الأمونيا التي تنتج من تفاعل 8.75 L من غاز

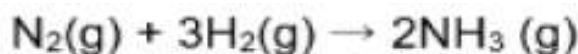


الهيدروجين H₂ .

افتراض ثبات درجة الحرارة والضغط

أ_ 5.80 L	ب_ 9.50 L
ج_ 13.3 L	د_ 15.8 L

ما كتلة غاز الأمونيا (NH₃) التي يمكن أن تتشكل من 13.7L من غاز الهيدروجين H₂ عند درجة حرارة 93°C وضغط 0.396 atm



بحسب التفاعل التالي:

الكتلة المولية لغاز الأمونيا (NH₃) - (17.04 g/mol) - (R = 0.0821 L.atm/mol.K)

أ_ 0.274 g	ب_ 2.05 g
ج_ 0.122 g	د_ 1.24 g

عندما يصدأ الحديد ، فإنه يمر بتفاعل مع الأكسجين لتكوين أكسيد الحديد (III) ما حجم غاز الأكسجين عند درجة الحرارة



الكتلة المولية لـ Fe = 55.85 g/mol

R = 0.0821 L.atm/mol.K

والضغط القياسي (STP) اللازم للتفاعل

تماماً مع 78.0 g من الحديد ؟

أ_ 23.5 L	ب_ 27.7 L
ج_ 14.9 L	د_ 18.5 L



ما حجم غاز ثاني أكسيد الكربون الناتج من التفكك التام لـ 25 g من كربونات الكالسيوم بالتسخين ، وفقاً للمعادلة أدناه وعند درجة الحرارة والضغط القياسيين ؟



علماً أن الكتلة المولية $\text{CaCO}_3 = 100\text{g/mol}$

$R = 0.0821 \text{ L.atm/mol.K}$

أ_ 5.60 L	ب_ 8.22 L
ج_ 12.3 L	د_ 89.7 L

انتهت الحقيبة التدريبية وبالتوفيق طلبتي

معلمة المادة : أماني عبد الجبار