

تم تحميل هذا الملف من موقع المناهج الإماراتية



## أسئلة الاختبار التقييمي الأول

موقع المناهج ← المناهج الإماراتية ← الصف الأول ← علوم ← الفصل الأول ← اختبارات ← الملف

تاريخ إضافة الملف على موقع المناهج: 11:48:04 2024-10-10

ملفات اكتب للمعلم اكتب للطالب الاختبارات الكترونية | اختبارات | حلول | عروض بوربوينت | أوراق عمل  
منهج انجليزي | ملخصات وتقارير | مذكرات وبنوك | الامتحان النهائي للمدرس

المزيد من مادة  
علوم:

إعداد: سنية مصطفى توفيق

## التواصل الاجتماعي بحسب الصف الأول



صفحة المناهج  
الإماراتية على  
فيسبوك

الرياضيات

اللغة الانجليزية

اللغة العربية

التربية الاسلامية

المواد على تلغرام

## المزيد من الملفات بحسب الصف الأول والمادة علوم في الفصل الأول

أسئلة الاختبار التقييمي الأول

1

كتاب الطالب الوحدة الثانية Animals and how they communicate مناهج انسابير

2

عرض بوربوينت الدرس الثاني ما وظيفة أجزاء النبات

3

عرض بوربوينت الدرس الأول تعرف على الكائنات الحية من وحدة النباتات كائنات حية

4

بوربوينت شرح وحل مراجعة درس الحيوانات

5



الاختبار الأول من الفصل الدراسي الأول في مادة العلوم للصف الأول الأساسي 2024-2025

25

10

السؤال الأول : حو ط الاجابة الصحيحة .1 - كائن حي .2 عندما تأكل 2 فانت تأكل أي جزء من النبتة ؟
 أوراق



 بذور

 ساق

 جذور
3 يسمى الساق السميك لهذه الشجرة .
 ورقة

 بذورة

 جذع

 ثمرة
4 - ما هو الشيء الذي لا تحتاج إليه النبات لكي تنمو .5 - حو ط جذر النبات الذي نأكله .

السؤال الثاني : حوط الاجابة الصحيحة .

6 - أي مما يلي ليست ثمارًا .

- الخوخ       الخس       البرتقال       التفاح

7 - يسمى جزء النبات الذي ينتج لبذور

- زهرة       ثمرة       ورقة       قرفة

8 - حوط الجزء المسؤول عن صنع الغذاء في النبات .



9 - تحصل النباتات من التربة على .


- العصير       المواد الغذائية       الضوء       الحليب

10 - عندما تأكل نبات القرفة ، فأنت تأكل أي جزء من النبتة ؟



- جذر       ساق       أوراق       ثمار

السؤال الثاني : اكتب الأجزاء التالية على النبتة .



ساق - زهرة - ورقة - جذور