

تم تحميل هذا الملف من موقع المناهج الإماراتية



الملف أوراق عمل مراجعة شاملة

موقع المناهج ⇌ المناهج الإماراتية ⇌ الصف الأول ⇌ علوم ⇌ الفصل الأول

روابط مواقع التواصل الاجتماعي بحسب الصف الأول



روابط مواد الصف الأول على تلغرام

[الرياضيات](#)

[اللغة الانجليزية](#)

[اللغة العربية](#)

[التربية الاسلامية](#)

المزيد من الملفات بحسب الصف الأول والمادة علوم في الفصل الأول

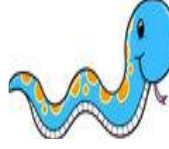
اختبار التقويم الأول	1
ورقة عمل الإختبار الأول	2
اختبار التقويم الثاني	3
تحميل دليل المدرس	4
8 أوراق عمل	5

مراجعة

1- ضع إشارة (x) في المربع تحت رسم الحيوان الذي ينتمي إلى الزواحف:

☐☐☐☐☐

2- لون بالأحمر المربع تحت رسم الحيوان الذي ينتمي إلى البرمائيات:

☐☐☐☐☐

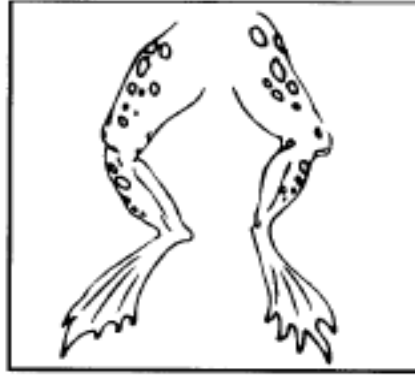
3- صل الصور المناسبة للكلمة



الحشرات



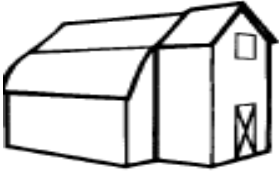
حَوِّطِ الشَّيْءَ الَّذِي يُغَطِّي جِسْمَ الطَّيُورِ فَقَطْ.



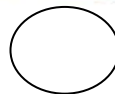
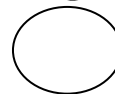
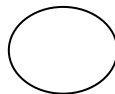
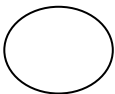

5- حوط المكان الذي تحتاج إليه لتعيش فيه :



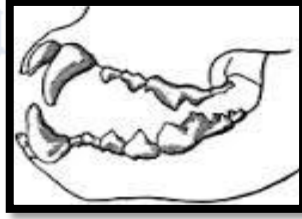
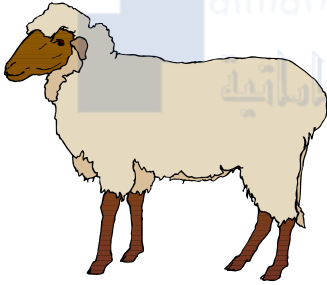


6. صِلْ بِحَظِّ الْحِصَانِ مَعَ الْأَشْيَاءِ الَّتِي يَخْتِاجُ إِلَيْهَا.



7 – رتب نمو حياة الدجاجة



7 - صل بين الحيوان و أسنانه



8- ضع إشارة (√) أمام العبارة الصحيحة و إشارة (×)
أمام العبارة الخاطئة يا عبقرى .

1.. يكون الأرنب كبيرا عندما يولد ()

2 . عدد أرجل الحشرات سبعة . ()

3 . يتنفس السمك الهواء بواسطة الخياشيم . ()