

تم تحميل هذا الملف من موقع المناهج الإماراتية



الملف نموذج اختبار التقييم الأول للفصل الأول

[موقع المناهج](#) ← [المناهج الإماراتية](#) ← [الصف الأول](#) ← [اجتماعيات](#) ← [الفصل الأول](#)

روابط مواقع التواصل الاجتماعي بحسب الصف الأول



روابط مواد الصف الأول على تلغرام

[الرياضيات](#)

[اللغة الانجليزية](#)

[اللغة العربية](#)

[التربية الاسلامية](#)

المزيد من الملفات بحسب الصف الأول والمادة اجتماعيات في الفصل الأول

تحميل دليل المعلم	1
تحميل كتاب الطالب	2
الفصل الأول اجتماعيات ورقة عمل أسرتي	3
مراجعة نهائية	4
تحميل دليل المعلم	5

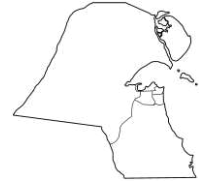
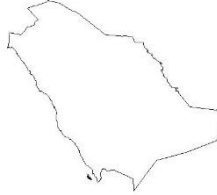
اسم الطالب : الصف الأول

السؤال الأول (5 درجات)

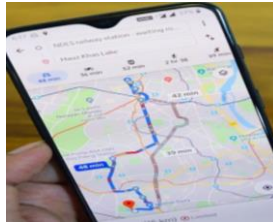
1- علم الجغرافيا هو علم دراسة



2- شكل خريطة الإمارات



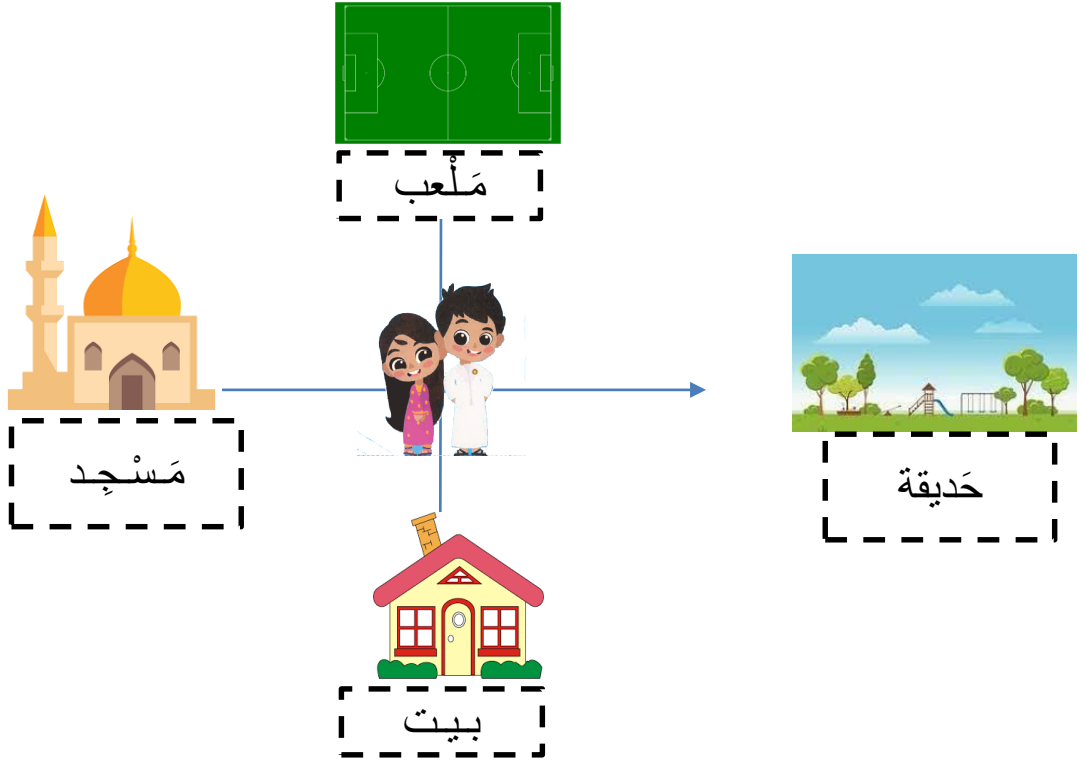
3- ارسم دائرة حول الخريطة الإلكترونية



4- التاريخ هو علم دراسة



- ساعد لطيفة و راشد في الوصول إلى الوجهة الصحيحة




5- يريد أن يذهب راشد إلى الملعب في أي اتجاه يذهب
(شمال - جنوب - شرق)

6- ترغب لطيفة في الذهاب إلى الحديقة في أي اتجاه تذهب
(شمال - جنوب - شرق)

7 - أكتب الحرف الناقص في الكلمة



....ريخ



غر.....

