

تم تحميل هذا الملف من موقع المناهج الإماراتية



## نموذج اختبار تشخيصي

[موقع المناهج](#) ← [المناهج الإماراتية](#) ← [الصف الأول](#) ← [اجتماعيات](#) ← [الفصل الأول](#) ← [الملف](#)

تاريخ إضافة الملف على موقع المناهج: 2024-08-24 04:11:32

## التواصل الاجتماعي بحسب الصف الأول



اضغط هنا للحصول على جميع روابط "الصف الأول"

## روابط مواد الصف الأول على تلغرام

[الرياضيات](#)

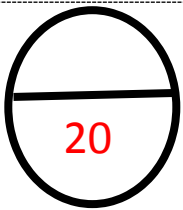
[اللغة الانجليزية](#)

[اللغة العربية](#)

[التربية الاسلامية](#)

## المزيد من الملفات بحسب الصف الأول والمادة اجتماعيات في الفصل الأول

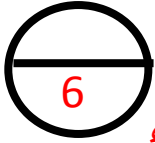
<a href="#">مراجعة الاختبار التكويني الثاني</a>	1
<a href="#">أوراق عمل مراجعة</a>	2
<a href="#">أسئلة الاختبار التشخيصي</a>	3
<a href="#">كتاب الطالب</a>	4
<a href="#">نموذج اختبار نهائي</a>	5



المادة : الدراسات الاجتماعية  
الصف : الأول



مدرسة الامل للصم  
الاسم / .....

التاريخ : / /



اختبار تشخيصي الفصل الدراسي الأول ( 2022-2023 ) الصف الأول

ضع إشارة ✓ ( أمام الصورة التي تدل على فصل الشتاء



# السؤال الثاني : صل بين الصورة والفصل المناسب



الربيع



الصيف

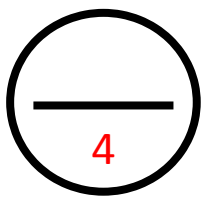


الخريف

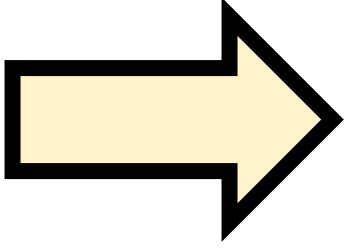


الشتاء






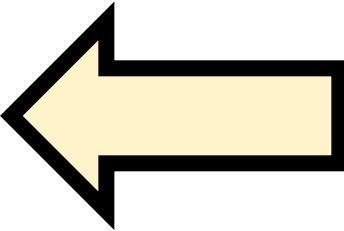
السؤال الثالث : صل بين الصورة والمفهوم  
الصحيح




الشمال



الجنوب



الشرق



الغرب

## السؤال الرابع ( أ ) : صل بين الصورة والمفهوم

4

الشيخ

خليفة



الشيخ

زايد



2

## السؤال الرابع ( ب ) : لون علم الإمارات
