

أسئلة الاختبار التشخيصي بدون الحل



تم تحميل هذا الملف من موقع المناهج الإماراتية

موقع المناهج ← المناهج الإماراتية ← الصف الأول ← رياضيات ← الفصل الثالث ← ملفات متنوعة ← الملف

تاريخ إضافة الملف على موقع المناهج: 09:50:07 2025-05-19

ملفات اكتب للمعلم اكتب للطالب | اختبارات الكترونية | اختبارات | حلول | عروض بوربوينت | أوراق عمل
منهج انجليزي | ملخصات وتقارير | مذكرات وبنوك | الامتحان النهائي | للمدرس

المزيد من مادة
رياضيات:

إعداد: مدرسة اليحر الخاصة

التواصل الاجتماعي بحسب الصف الأول



صفحة المناهج
الإماراتية على
فيسبوك

الرياضيات

اللغة الانجليزية

اللغة العربية

التربية الاسلامية

المواد على تلغرام

المزيد من الملفات بحسب الصف الأول والمادة رياضيات في الفصل الثالث

أسئلة الاختبار التكويني الأول بلا الحل

1

أسئلة الاختبار التكويني الأول بدون الحل

2

أوراق عمل مراجعة الاختبار الأول

3

الخطة الفصلية لتوزيع المقرر الفصل الثالث

4

أوراق عمل الوحدة السابعة التمثيلات البيانية بدون حل

5



الاختبار التشخيصي - Diagnostic Test

Academic year 2024-2025 / العام الدراسي 2024 - 2025

Math - مادة الرياضيات

Grade — الصف / الأول

STUDENT NAME / اسم الطالب	
Esis Number / رقم ايسس	
Section / الشعبة	الأول /
Student mark / درجة الطالب	100

مدير المدرسة د. خالد منصور

School Principal Dr. Khaled Mansour

حوط رمز الإجابة الصحيحة ..




1- ما عدد النمر ؟

A 6

B 4

C 3



2- حدد المجموعة التي تحتوي على نفس عدد العناصر ؟

A



B



C



3 - حدد الشكل المختلف

A



B



C



4 - حوط الشكل الذي يبين الكرة (فوق) الطاولة

A




B



C



5- ما هو العدد الموضح في النموذج



A 12

B 17

C 19



6- اختر جملة الجمع الصحيحة التي تمثل النموذج

A $3 - 1 = 2$

B $2 + 2 = 4$

C $4 + 2 = 6$



7- اختر جملة الطرح التي تمثل النموذج

A $2 - 1 = 1$

B $5 - 2 = 3$

C $3 + 2 = 5$



8 - حوط الحقيبة التي تتسع أكثر



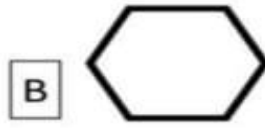
9 - حوط الأطول



10 - اكمل النمط



11 - حوِّط شكل المثلث





12 - حوِّط العدد الأكبر ؟

A 5

B 2

C 9

عد العناصر واكتب العدد ..



اجمع :

$3+2 =$

$2+5 =$

$1 + 8 =$

$2 + 7 =$