

أسئلة الاختبار التكويني الأول بدون الحل



تم تحميل هذا الملف من موقع المناهج الإماراتية

موقع المناهج ← المناهج الإماراتية ← الصف الأول ← رياضيات ← الفصل الثالث ← ملفات متنوعة ← الملف

تاريخ إضافة الملف على موقع المناهج: 12:42:01 2025-05-02

ملفات اكتب للمعلم اكتب للطالب | اختبارات الكترونية | اختبارات | حلول | عروض بوربوينت | أوراق عمل
منهج انجليزي | ملخصات وتقارير | مذكرات وبنوك | الامتحان النهائي | للمدرس

المزيد من مادة
رياضيات:

إعداد: مدرسة الروضة للتعليم الأساسي

التواصل الاجتماعي بحسب الصف الأول



صفحة المناهج
الإماراتية على
فيسبوك

الرياضيات

اللغة الانجليزية

اللغة العربية

التربية الاسلامية

المواد على تلغرام

المزيد من الملفات بحسب الصف الأول والمادة رياضيات في الفصل الثالث

أوراق عمل مراجعة الاختبار الأول

1

الخطة الفصلية لتوزيع المقرر الفصل الثالث

2

أوراق عمل الوحدة السابعة التمثيلات البيانية بدون حل

3

أسئلة الامتحان النهائي

4

عرض بوربوينت حل درس قراءة التمثيلات البيانية بالصور

5

لكل مفردة صحيحة درجة

السؤال الأول : اكتب الإجمالي و استخدم التمثيل البياني في الإجابة عن الأسئلة :

اللعبة المفضلة		
الإجمالي	علامات الاحصاء	اللعبة
		
		
		

1- كم عدد الذين اختاروا كرة القدم ؟

2- هل من اختاروا الدراجة أكثر أم من اختاروا نط الحبل؟

نط الحبل




الدراجة

3- كم شخصاً شارك في استطلاع الرأي؟

لكل مفردة صحيحة درجة

السؤال الثاني : اكتب القيم الإجمالية في جدول العلامات لاستخدامه لرسم التمثيل البياني بالصور :

الفاكهة المفضلة							
							
							
							

الفاكهة المفضلة		
الإجمالي	علامات الاحصاء	الفاكهة
		
		
		

1- كم يزيد عدد من اختاروا الموز عن من اختاروا التفاح ؟

لكل مفردة صحيحة درجتين

السؤال الثالث : حل المسألة التالية :

قطفت سعاد 10 أزهار و قطفت سلوى 3 أزهار ، كم يزيد عدد الأزهار
التي قطفتها سعاد عن سلوى ؟

.....



لكل مفردة صحيحة درجتين

السؤال الرابع: رتب الأجسام تبعا للطول. اكتب 1 للجسم الطويل، و 2 للجسم الأطول، 3 للأطول على الإطلاق :


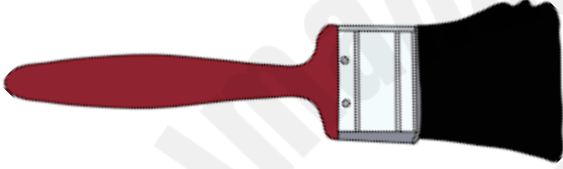


لكل مفردة صحيحة درجتين

السؤال الخامس: قارن بين الأجسام ثم حوط المطلوب:

2- أيهما أطول؟

1- أيهما أقصر؟




لكل مفردة صحيحة درجة

السؤال السادس: فاطمة لديها ثلاثة اجسام رتبها من الأقصر إلى الأطول :



لكل مفردة صحيحة درجتين

السؤال السابع: ما هو طول الجزرة بالمكعبات، حوط الإجابة الصحيحة:



9 مكعبات

7 مكعبات

مع دعواتنا لكم بالتوفيق ..