

شكراً لتحميلك هذا الملف من موقع المناهج الإماراتية



الاختبار التكويني الأول

موقع المناهج ← المناهج الإماراتية ← الصف الأول ← علوم ← الفصل الأول ← الملف

تاريخ نشر الملف على موقع المناهج: 11-10-2023 07:31:18 | اسم المدرس: آمنه عبدالله بن لاجح

التواصل الاجتماعي بحسب الصف الأول



روابط مواد الصف الأول على تلغرام

[الرياضيات](#)

[اللغة الانجليزية](#)

[اللغة العربية](#)

[التربية الاسلامية](#)

المزيد من الملفات بحسب الصف الأول والمادة علوم في الفصل الأول

الاختبار التكويني الثاني Behavior Animal سلوك الحيوانات	1
أسئلة الاختبار الأول	2
أسئلة الاختبار التشخيصي	3
أوراق عمل الوحدة الثالثة الدرس الأول والثاني	4
ورقة عمل الوحدة الرابعة كل مايتعلق بالحيوانات الدرس الأول	5

الاختبار التكويني الأول في مادة العلوم
للصف الأول الفصل الدراسي الأول
م 2024 – 2023

20

اسم الطالب/ة الصف الأول

السؤال الأول : حوّل الإجابة الصحيحة ..

1- الكائن الحي ..

A



B



C



2- الشيء الغير حي ..

A



B



C



3- الكائنات الحية تحتاج كي تنمو وتكبر

A



B



C

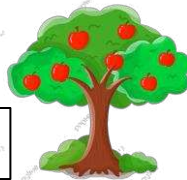


4- نبات لا يحتاج الى ماء كثير كي يعيش

A



B



C



5- نبات يحتاج الى الكثير من ضوء الشمس


A




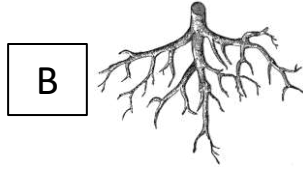

B



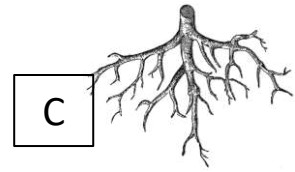
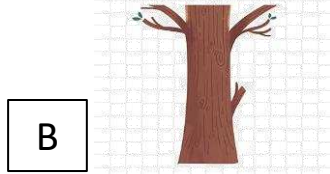
C



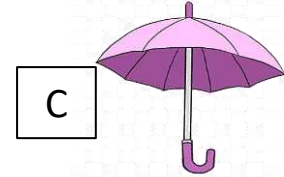

6- جزء من النبات يثبت النبات ويمتص الماء



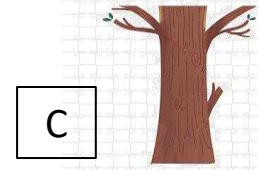
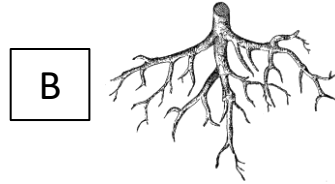
7- جزء من النبات يصنع الغذاء



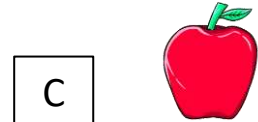


8- تحتاج الورقة الماء و لتصنع الغذاء





9- حدد صورة الجذع ...



10 - نبات نأكل جذوره ..



السؤال الثاني : صل بين الصورة والكلمة ..



ساق

جذور

جذع

بذور

أوراق