

مذكرة الوحدة الثامنة القياس والوقت



تم تحميل هذا الملف من موقع المناهج الإماراتية

موقع المناهج ← المناهج الإماراتية ← الصف الأول ← رياضيات ← الفصل الثالث ← مذكرات وبنوك ← الملف

تاريخ إضافة الملف على موقع المناهج: 2025-04-24 16:31:09

ملفات اكتب للمعلم اكتب للطالب | اختبارات الكترونية | اختبارات | حلول | عروض بوربوينت | أوراق عمل
منهج انجليزي | ملخصات وتقارير | مذكرات وبنوك | الامتحان النهائي | للمدرس

المزيد من مادة
رياضيات:

إعداد: نهلة المزروعى

التواصل الاجتماعي بحسب الصف الأول



صفحة المناهج
الإماراتية على
فيسبوك

الرياضيات

اللغة الانجليزية

اللغة العربية

التربية الاسلامية

المواد على تلغرام

المزيد من الملفات بحسب الصف الأول والمادة رياضيات في الفصل الثالث

الخطة الفصلية لتوزيع المقرر الفصل الثالث

1

أوراق عمل الوحدة السابعة التمثيلات البيانية بدون حل

2

أسئلة الامتحان النهائي

3

عرض بوربوينت حل درس قراءة التمثيلات البيانية بالصور

4

بطاقات للطباعة الساعة التناظرية والساعة الرقمية

5



وزارة التربية والتعليم
MINISTRY OF EDUCATION

الصف الأول الأساسي



مؤسسة الإمارات
للتعليم المدرسي
EMIRATES SCHOOLS
ESTABLISHMENT

الوحدة 8 القياس و الوقت




الأسم
الشعبة

إعداد المعلمة : نهلة المزروعى

مُقَارَنَةُ الْأَطْوَالِ


قَارِنْ بَيْنَ الْأَجْسَامِ، وَحَوِّطِ الْإِجَابَةَ الصَّحِيحَةَ.

2. قِطْعَةُ الْخُلُوى أَقْصَرُ مِنَ الشَّطِيرَةِ، وَالشَّطِيرَةُ أَقْصَرُ مِنَ الْكَرْفَسِ.



هَلِ الْكَرْفَسُ أَطْوَلُ مِنْ قِطْعَةِ الْخُلُوى أَمْ أَقْصَرُ مِنْهَا؟
أَطْوَلُ مِنْ أَقْصَرُ مِنْ

١. الْخُلُوى الْمُتَلَجَّةُ أَقْصَرُ مِنْ قَنْدُولِ الذَّرَّةِ، وَقِطْعَةُ الْبَسْكَوِيَّتِ أَقْصَرُ مِنَ الْخُلُوى الْمُتَلَجَّةِ.



هَلْ قِطْعَةُ الْبَسْكَوِيَّتِ أَطْوَلُ مِنْ قَنْدُولِ الذَّرَّةِ أَمْ أَقْصَرُ مِنْهُ؟
أَطْوَلُ مِنْ أَقْصَرُ مِنْ

مقارنة الأطوال وترتيبها

إِبْرَاهِيمُ لَدَيْهِ ثَلَاثَةُ أَجْسَامٍ، فَكَيْفَ يُمَكِّنُهُ تَرْتِيبُهَا مِنْ الْأَقْصَرِ إِلَى الْأَطْوَلِ؟





أَيُّهُمَا أَقْصَرُ؟



كَيْفَ يُمَكِّنُهَا تَرْتِيبُهَا مِنْ الْأَطْوَلِ إِلَى الْأَقْصَرِ؟







أَيُّهُمَا أَطْوَلُ؟



رَتِّبِ الْأَشْيَاءَ تَبَعًا لِلطَّوْلِ. اكْتُبِ 1 لِلجِسْمِ الْقَصِيرِ،
و 2 لِلأَقْصَرِ، وَ 3 لِلأَقْصَرِ عَلَى الْإِطْلَاقِ.



قَارِنْ، وَحَوِّطِ الْجِسْمَ الْأَطْوَلَ



رَتِّبِ الْأَشْيَاءَ تَبَعًا لِلطَّوْلِ، وَاكْتُبِ 1 لِلجِسْمِ الْقَصِيرِ،
و 2 لِلأَقْصَرِ، وَ 3 لِلأَقْصَرِ عَلَى الْإِطْلَاقِ.

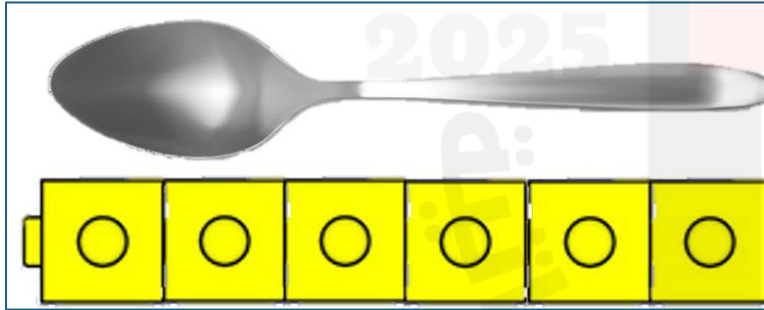


قَارِنْ، وَحَوِّطِ الْجِسْمَ الْأَقْصَرَ.



وحدات الطول غير القياسية

استخدم الوحدات الغير قياسية لإيجاد طول الأشياء التالية:

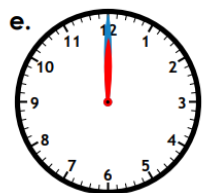
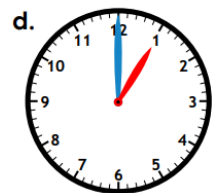
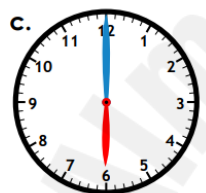
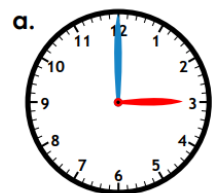


الوقت بالساعة:
الساعة التناظرية

اكتب الوقت الموضح في الساعة التناظرية

Telling Time

Write the time shown.



Name: _____

CCSS 2.MD.7 Tell and write time from analog and digital clocks to the nearest...

Telling Time to the Hour

Directions: Write in the digital time.



:



:



:



:



:



:



:



:



:

صل الوقت الصحيح بالساعة التناظرية المناسبة

www.worksheetfun.com

Match the time




8:00



3:00



6:00



5:00



4:00



9:00

Copyright © 2016 www.worksheetfun.com All rights reserved

ارسم عقرب الساعات الموضح في الساعة التناظرية


Telling Time

to the hour


Write in the hour hand on each clock



6:00



11:00



5:00



3:00




4:00




1:00



12:00



2:00



9:00

PaperTrailDesign.com

الدّرس 6

الوقتُ بالسّاعة:
السّاعة الرّقميّة

What time is it?

Look at the clocks below. Draw the second clock hand to display the time shown at the bottom of each clock.



1:00



7:00



10:00



6:00



9:00



8:00



2:00



4:00



11:00

Kiboomu Preschool Education

ارسم
عقرب
الساعات
للوقت
الموضح في
الساعة
التناظرية

Telling Time
to the Hour

Write the time in the box below the clock.



:



:



:



:



:



:

اكتب
الوقت
الموضح في
الساعة
التناظرية

اكتب المصطلح الصحيح تحت الصورة المناسبة

الساعة الرقمية – الساعة التناظرية



الوقت بنصف الساعة:
الساعة التناظرية


Name:

Name:


Date:

Telling Time — Half past

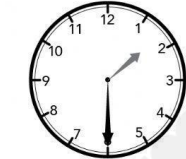
Write the time below each clock.




5:30




والنصف




والنصف




والنصف



والنصف



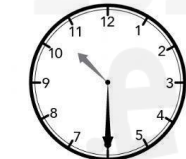
والنصف



والنصف



والنصف



والنصف

www.cleverlearner.com

اكتب
الوقت
الموضح في
الساعة
التناظرية

Telling Time: Half Hour

Write the time that each clock show.



والنصف



والنصف



والنصف



والنصف



والنصف



والنصف



والنصف



والنصف



والنصف



والنصف



والنصف



والنصف

اكتب
الوقت
الموضح في
الساعة
التناظرية

الوقت بنصف السّاعة:
السّاعة الرّقميّة

اكتب الوقت الموضح

Name: _____

Date: _____

Time: To the half hour



Clock Half Hour Analog

Name: _____ Date: _____

Read the clock and write the time.



















| | | | |
|---|---|---|---|
| | | | |
| : | : | : | : |
| | | | |
| : | : | : | : |
| | | | |
| : | : | : | : |

المعلّمة : نهلة المزروعى

اكتب الوقت الموضح في الساعة التناظرية

الدّرس 9

الوقت بالسّاعة
ونصف السّاعة

Name _____

I can
Write The Time



Write the digital time.



:



3:30



:



7:00



:



3:00



:



4:30



:

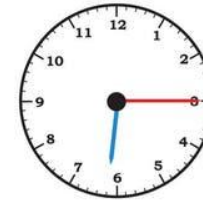
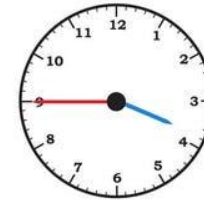
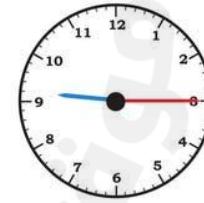
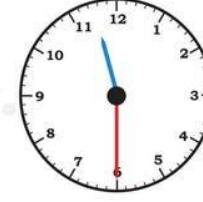


10:00

©ABC Helping Hands

TELLING TIME

Write the time shown



Name :

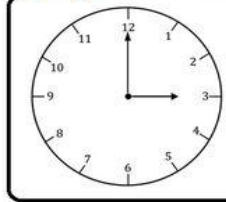
إعداد المعلمة : نهلة المزروعى



Which Clock

is it?

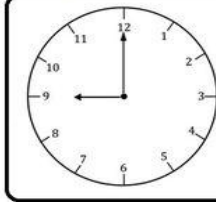
Name:



5:00

12:00

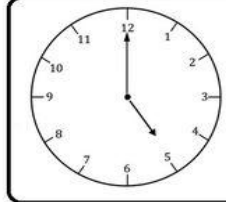
3:00



9:00

12:00

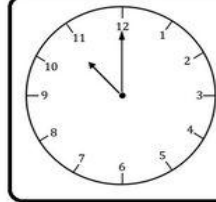
3:00



5:00

12:00

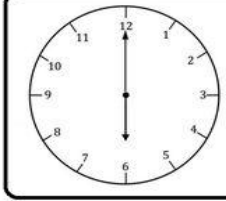
3:00



11:00

12:00

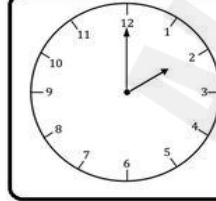
3:00



5:00

6:00

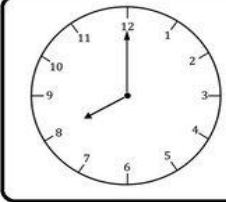
3:00



4:00

12:00

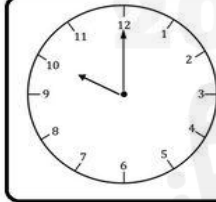
2:00



8:00

12:00

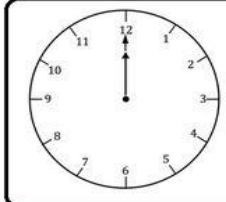
3:00



5:00

12:00

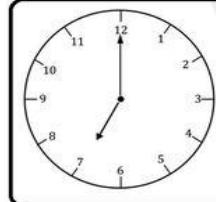
10:00



5:00

12:00

4:00



5:00

7:00

3:00

اختر
الوقت
الموضح في
الساعة
التناظرية



Worksheets PDF

Teaching Resources

Name:

Date:

Telling Time

Choose the correct time.



11:00

11:40

11:10



5:30

5:00

5:25



2:10

2:30

2:00



4:15

4:00

4:30



9:50

9:00

9:20



10:30

10:40

10:00



Color the correct time shown on the clock.

Copyright © 2017 Preschoolplanet.us All Right Reserved
More Worksheets at:

إعداد المعلمة : نهلة المزروعى

WorksheetsPDF.com

ارسم عقارب الساعة



Name: _____

Date: _____

Draw the Clock - Half Hours

Draw the time shown on each clock.



8:30



2:30



4:30



7:30




10:30



11:30



12:30



9:30



3:30

worksheetprints.com - for personal or educational use only



Name: _____

Date: _____

Draw the Clock - Whole Hours


Draw the time shown on each clock.



6:00



12:00



8:00



10:00




9:00



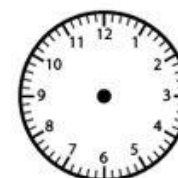
3:00



11:00



7:00



2:00

worksheetprints.com - for personal or educational use only

حل المسائل التالية

تَصِلُ بِدَرِيَّةٍ إِلَى مَنْزِلِهَا السَّاعَةَ 3 ،
وَتَصِلُ حِصَّةً إِلَى الْمَنْزِلِ بَعْدَ سَاعَةٍ وَاحِدَةٍ،
فَفِي أَيِّ سَاعَةٍ تَصِلُ حِصَّةً إِلَى مَنْزِلِهَا؟

يَذْهَبُ حَمْدَانُ إِلَى تَمْرِينَ كُرَّةِ الْقَدَمِ فِي
تَمَامِ 4 والنِّصْفِ. إِعْرِضْ هَذَا الْوَقْتُ عَلَى
السَّاعَةِ. إِذَا اسْتَمَرَّ التَّمْرِينَ سَاعَةً وَاحِدَةً،
فَمَتَى يَنْتَهِي؟ اكْتُبِ الْوَقْتَ. .

عَادَ صَفُّ السَّيِّدَةِ حَوْلَةَ مَنْ الْإِسْتِرَاحَةِ
فِي تَمَامِ السَّاعَةِ 2:00. وَقَدْ ظَلُّوا فِي
الْإِسْتِرَاحَةِ لِمُدَّةٍ سَاعَةٍ، فَفِي أَيِّ سَاعَةٍ
ذَهَبُوا إِلَى الْإِسْتِرَاحَةِ؟

رَاشِدٌ يَبْدَأُ وَاجِبَهُ الْمَنْزِلِيَّ فِي تَمَامِ السَّاعَةِ 6، وَيُنْهِيه بَعْدَ 30 دَقِيقَةً،
اكَتُبْ هَذَا الْوَقْتَ عَلَى السَّاعَةِ.