

أسئلة الاختبار التكويني الأول بلا الحل



تم تحميل هذا الملف من موقع المناهج الإماراتية

موقع المناهج ← المناهج الإماراتية ← الصف الأول ← رياضيات ← الفصل الثالث ← ملفات متنوعة ← الملف

تاريخ إضافة الملف على موقع المناهج: 16:48:00 2025-05-10

ملفات اكتب للمعلم اكتب للطالب | اختبارات الكترونية | اختبارات | حلول | عروض بوربوينت | أوراق عمل
منهج انجليزي | ملخصات وتقارير | مذكرات وبنوك | الامتحان النهائي | للمدرس

المزيد من مادة
رياضيات:

إعداد: سنية مصطفى توفيق

التواصل الاجتماعي بحسب الصف الأول



صفحة المناهج
الإماراتية على
فيسبوك

الرياضيات

اللغة الانجليزية

اللغة العربية

التربية الاسلامية

المواد على تلغرام

المزيد من الملفات بحسب الصف الأول والمادة رياضيات في الفصل الثالث

أسئلة الاختبار التكويني الأول بدون الحل	1
أوراق عمل مراجعة الاختبار الأول	2
الخطة الفصلية لتوزيع المقرر الفصل الثالث	3
أوراق عمل الوحدة السابعة التمثيلات البيانية بدون حل	4
أسئلة الامتحان النهائي	5





الاختبار الأول من الفصل الدراسي الثالث لمادة الرياضيات للصف الأول الأساسي 2024-2025

❖ السؤال الأول : استخدم التمثيل البياني . أجب عن الأسئلة التالية .

20

10

عصيرا لفاكهة المفضل

عصير التفاح	
عصير البرتقال	
عصير الجزر	
عصير الفراولة	

كل



يمثل تلميذاً واحداً .

■ كم شخصاً اختارَ عصير التفاح ؟ -----

■ أي عصير فاكهة هو الأكثر تفضيلاً عند معظم التلاميذ ؟ -----

■ ما عدد التلاميذ الذين يفضلون عصير الفراولة ؟ -----

■ عدد التلاميذ الذين يفضلون عصير الجزر هو أكثر من عدد التلاميذ الذين يفضلون عصير البرتقال بـ -----

■ كم شخصاً شارك في استطلاع الرأي ؟ -----

❖ السؤال الثاني : حوّل الإجابة الصحيحة

الفصل المفضل		
الفصل	العدد بالرموز	الإجمالي
الصيف 		
الخريف 		
الربيع 		

1- كم شخصًا يحب الخريف ؟

a) 10

b) 9

c) 4

d) 7

الفاكهة المفضلة		
فراولة 	     	
برتقال 	   	
تفاح 		

2- كم يزيد عدد من اختاروا البرتقال عن اختاروا التفاح ؟

a) 3

b) 5

c) 6

d) 1













لون التفاح المفضل		
اللون	العدد بالرموز	الإجمالي
أحمر 		1
أصفر 		3
أخضر 		2

3- ما نوع التمثيل البياني التالي ؟

a) جدول العلامات

b) تمثيل بالأعمدة

c) تمثيل بالصور

ما نحب عمله		
ممارسة الألعاب 	  	
قراءة كتاب 	   	
الرسم 	 	
	0 1 2 3 4 5 6	

4 - كم طالبًا يُحب قراءة الكتب ؟

a) 5

b) 2

c) 3

d) 4

5 - ما قيمة علامة العد ()

a) 7

b) 6

c) 8

d) 5