

أسئلة الامتحان النهائي بدون الحل



تم تحميل هذا الملف من موقع المناهج الإماراتية

موقع المناهج ← المناهج الإماراتية ← الصف الأول ← رياضيات ← الفصل الثالث ← ملفات متنوعة ← الملف

تاريخ إضافة الملف على موقع المناهج: 2025-05-22 15:37:36

ملفات اكتب للمعلم اكتب للطالب | اختبارات الكترونية | اختبارات | حلول | عروض بوربوينت | أوراق عمل
منهج انجليزي | ملخصات وتقارير | مذكرات وبنوك | الامتحان النهائي | للمدرس

المزيد من مادة
رياضيات:

إعداد: مريم المزروعى

التواصل الاجتماعي بحسب الصف الأول



صفحة المناهج
الإماراتية على
فيسبوك

الرياضيات

اللغة الانجليزية

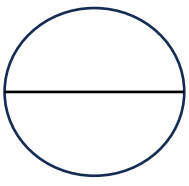
اللغة العربية

التربية الاسلامية

المواد على تلغرام

المزيد من الملفات بحسب الصف الأول والمادة رياضيات في الفصل الثالث

أسئلة الاختبار التكويني الثاني بلا الحل	1
أسئلة الاختبار التشخيصي بدون الحل	2
أسئلة الاختبار التكويني الأول بلا الحل	3
أسئلة الاختبار التكويني الأول بدون الحل	4
أوراق عمل مراجعة الاختبار الأول	5



الدرجة

الاسم :



الصف الأول

الاختبار النهائي للفصل الدراسي الثالث - الرياضيات

السؤال الأول اختر الإجابة الصحيحة . _____ 60 درجة

الخضروات	علامات الاحصاء
 جزر	
 فاصوليا	
 ذرة	

1 نوع الخضار الأكثر تفضيلاً

 جزر	A.
 فاصوليا	B.
 ذرة	C.

اللون	علامات الاحصاء
 الأحمر	
 الأزرق	
 البنفسجي	

2 عدد الطلاب الذين صوتوا للبنفسجي

















8	A.
3	B.
5	C.

الوجبة الخفيفة	علامات الاحصاء
 بسكويت	
 موز	
 جزر	

3 كم عدد الطلاب الذي شاركوا في الإستطلاع؟

6	A.
12	B.
2	C.

4 بكم يزيد عدد الطلاب الذين يذهبون إلى المدرسة بالحافلة عن الذين يذهبون بالدراجة ؟

 حافلة							
 دراجة							
 مشي							

5	A.
2	B.
4	C.

5 ما الفاكهة الأقل تفضيلاً ؟

 فراولة						
 برتقال						
 تفاح						

 فراولة	A.
 برتقال	B.
 تفاح	C.

كم عدد الطلاب الذين يمتلكون قلم لونه أخضر

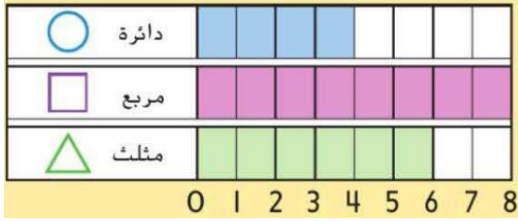
6



6	A.
5	B.
4	C.

ما الشكل الذي حصل على 4 أصوات ؟

7



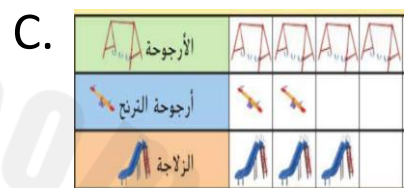
دائرة	A.
مربع	B.
مثلث	C.

تمثيل بياني بالأعمدة

8

A.

المادة	علامات الاحصاء
الرياضيات	
العلوم	
القراءة	




الجسم الأطول من المقص

9



A.



B.



C.

الوقت الموضح في الساعة التناظرية هو

10



الساعة 12	A.
الساعة 6	B.
الساعة 2	C.

تبدأ حصة الفنون في الساعة 4 ، وتنتهي بعد ساعة، ففي أي وقت تنتهي؟

11

الساعة 5	A.
الساعة 7	B.
الساعة 3	C.

الوقت الموضح على الساعة التناظرية هو

12



3 : 30	.A
3 : 00	.B
4 : 30	.C

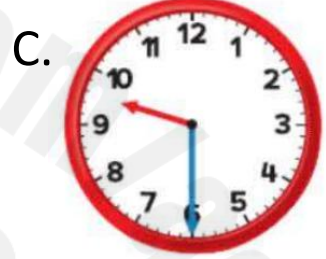
الساعة الرقمية التي تظهر الساعة 8

13



الساعة التناظرية التي تظهر الساعة 9 والنصف

14



شكل ثنائي الأبعاد له 4 أضلاع بنفس الطول

15



شكل ثنائي الأبعاد يطابق هذا الشيء

16





شبه المنحرف

17




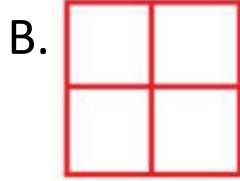
الشكل الذي يوضح الأجزاء المتساوية

18



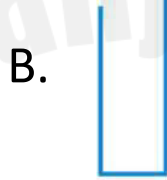
الشكل الذي يوضح أنصاف

19

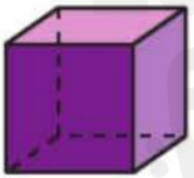


الشكل المغلق

20



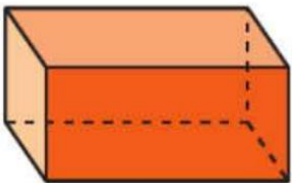
السؤال الثاني صل المفردة الصحيحة بالصورة المناسبة 16 درجات



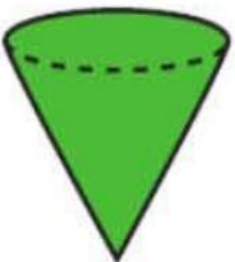
A. مخروط



B. مكعب



C. أسطوانة




D. منشور مستطيل

السؤال الثالث

قسم الأشكال التالية إلى


8 \ درجة

A.



أنصاف

B.



4 أجزاء متساوية

السؤال الرابع

ارسم عقرب الدقائق الموضح في الساعة الرقمية 8 \ درجة

A.



B.



8 \ درجة

ارسم التمثيل البياني بالصور

السؤال الخامس

الطقس المفضل	
الطقس	علامات الاحصاء
شمس	
مطر	

شمس							
مطر							