

تم تحميل هذا الملف من موقع المناهج البحرينية



* للحصول على أوراق عمل لجميع الصفوف وجميع المواد اضغط هنا

<https://almanahj.com/bh>

* للحصول على أوراق عمل لجميع مواد الصف الثالث اضغط هنا

<https://almanahj.com/bh/3>

* للحصول على جميع أوراق الصف الثالث في مادة اجتماعيات وجميع الفصول, اضغط هنا

<https://almanahj.com/bh/3social>

* للحصول على أوراق عمل لجميع مواد الصف الثالث في مادة اجتماعيات الخاصة بـ الفصل الأول اضغط هنا

<https://almanahj.com/bh/3social1>

* لتحميل كتب جميع المواد في جميع الفصول للـ الصف الثالث اضغط هنا

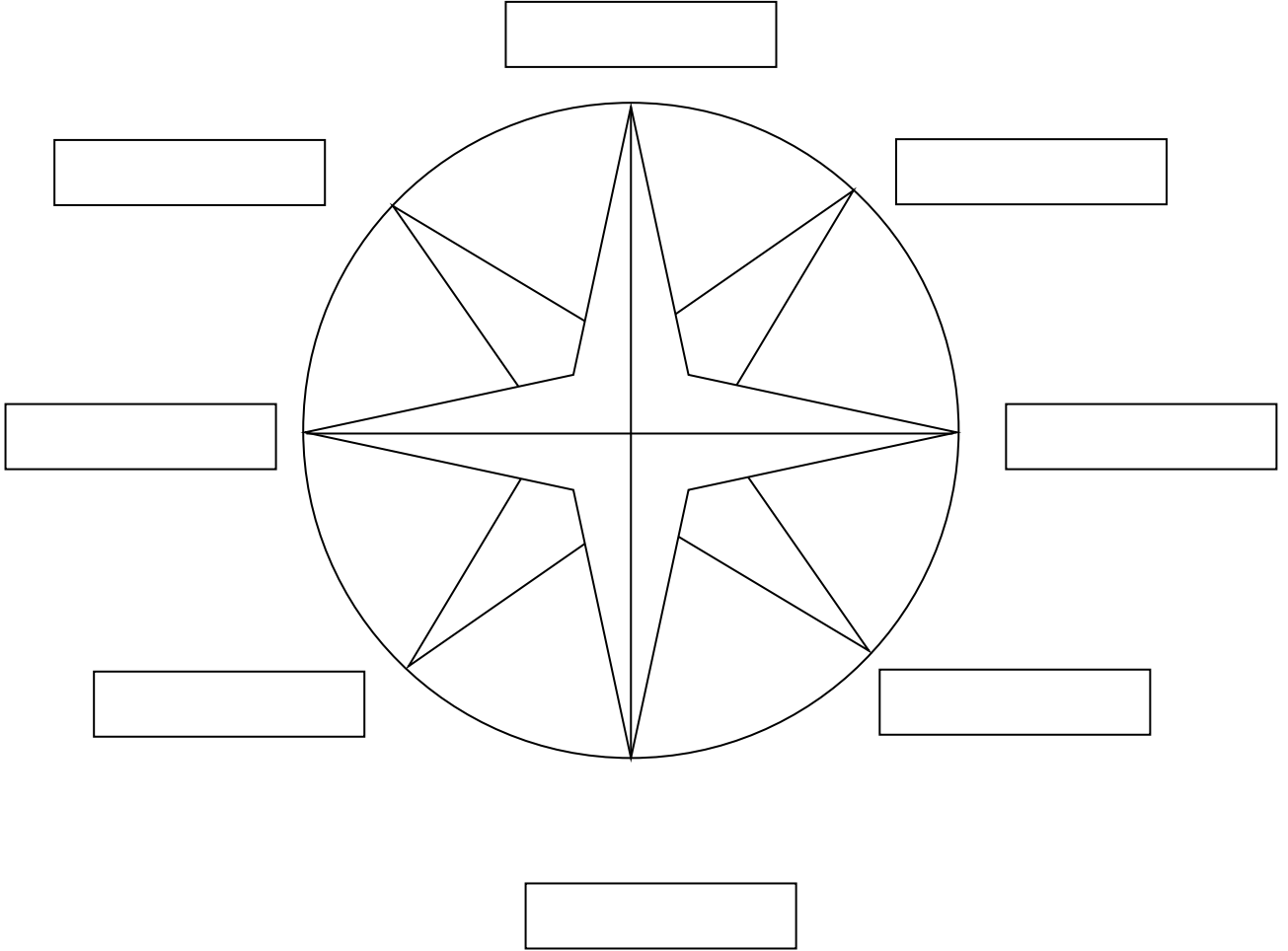
<https://almanahj.com/bh/grade3>

* لتحميل جميع ملفات المدرس محمود النصيرات وعبد الجليل جمعة اضغط هنا

[almanahjbhbot/me.t//:https](https://t.me/almanahjbhbot)

للتحدث إلى بوت على تلغرام: اضغط هنا

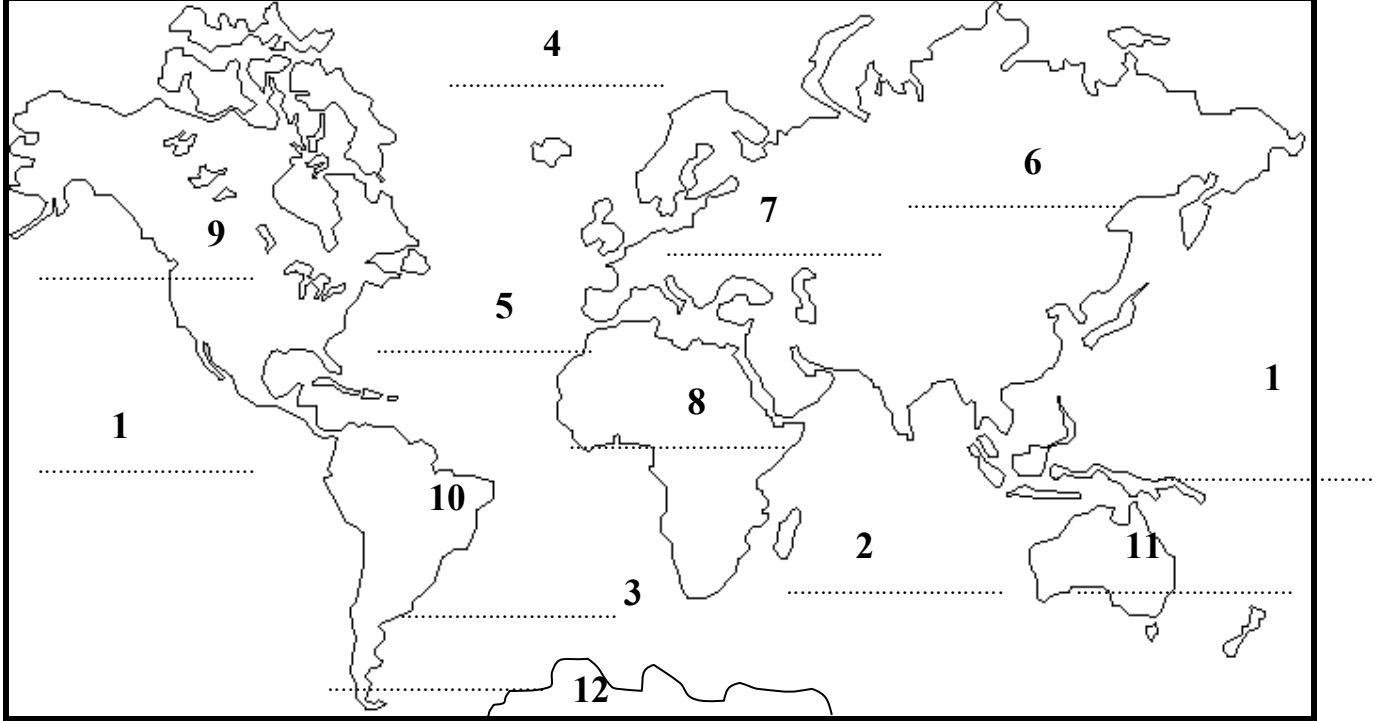
أكتب الجهات الأصلية والجهات الفرعية على الشكل ، ثم ألون الجهات الأصلية باللون الأزرق ، والجهات الفرعية باللون الأحمر .



2- ما هي الأداة التي نستدل (نتعرّف) بها على الجهات؟

.....

أكتب أسماء القارات و المحيطات على الرسم التالي ثم ألون المحيطات
باللون الأزرق الفاتح و القارات بألوان مختلفة:-



م	المحيطات	م	القارّات
1		6	
2		7	
3		8	
4		9	
5		10	
		11	
		12	

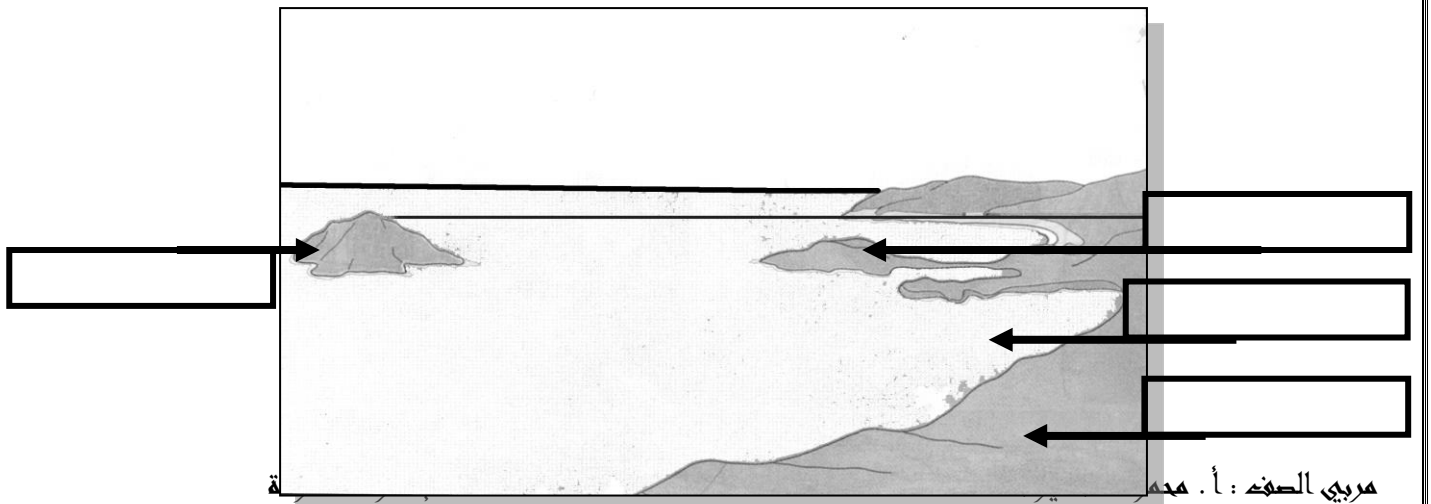
ب- أكمل الفراغ فيما يأتي:-

- 1- يقع بلدنا مملكة البحرين في قارة
- 2- تنقسم الكرة الأرضية إلى قسمين هما القطب و القطب
- 3- الخط الذي يمر في وسط الكرة الأرضية هو
- 4- تقع مملكة البحرين في النصف من الكرة الأرضية.
- 5- إذا كان لون اليابسة على الخريطة هو الأصفر، فإن لون المياه هو

**** أكمل الفراغ بالكلمات المناسبة مما يأتي:-**
(الجبل - السهل - الهضبة - الوادي - الجزيرة - الأرخبيل - الشاطئ -
الرأس - الخليج - سلسلة جبلية)

- 1- أرض منبسطة يسهل السكن و الزراعة فيها، كما يسهل التنقل عليها.
- 2- الأرض المرتفعة جداً و التي تشرف على ما حولها من سطح الأرض تسمى
و إذا اتصلت مجموعة منها بعضها ببعض تسمى
- 3- المكان المنخفض من الأرض بين جبلين يسمى
- 4- هي أرض منبسطة و مرتفعة تتخللها أودية عميقة.
- 5- هو القسم من اليابسة المتصل بالبحر.
- 6- عندما يتقدم جزء من اليابسة البحر يسمى
- 7- عندما يتقدم جزء من البحر اليابسة يسمى
- 8- هي قطعة من اليابسة محاطة بالمياه من جميع الجهات.
- 9- تسمى مجموعة الجزر
- 10 - تعتبر البحرين بسبب تكوّنها من مجموعة جزر

**** ألاحظ الرسم التالي و أضع الكلمات في مكانها المناسب:-**
(رأس - خليج - شاطئ - جزيرة)



أملأ الفراغ بالعبارات المناسبة موارد الأرض في البر هي :	
1. الماء	أهمية الماء للإنسان 1. 2. 3.
4. الأعشاب	تعتبر الأعشاب غذاء للمواشي حيث يستفيد الإنسان من المواشي: 1. الجلد : نصنع من 2. الصوف : نصنع من 3. الحليب : نصنع من
5. الغابات	يحصل الإنسان على الأخشاب من الغابات ويصنع من الأخشاب : 1. 2. 3.
4. المعادن	توجد المعادن في باطن الأرض ونحصل عليها من خلال أنفاق تسمى المناجم وأهم المعادن التي يستخدمها الإنسان : ❖ الحديد ونصنع منه 1 2 ❖ النحاس ونصنع منه 1 2 ❖ النفط ويستخدم في 1 2 ❖ الفحم الحجري ونصنع منه 1 2

مملكة البحرين وزارة التربية والتعليم مدرسة البسيتين الابتدائية للبنين الصف الثالث الابتدائي نشاط تدريبي في الاجتماعيات
الاسم : اليوم : التاريخ : / / 2011م
